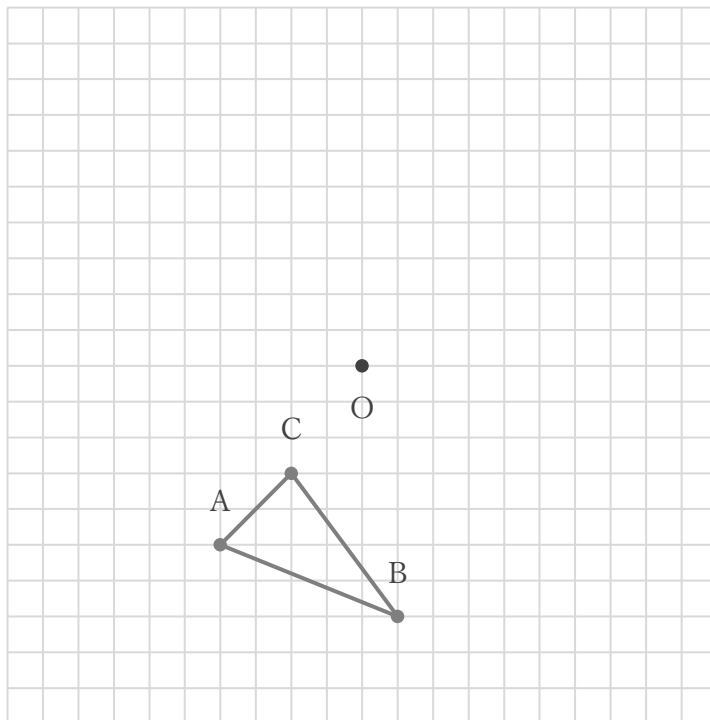


三角形の回転移動

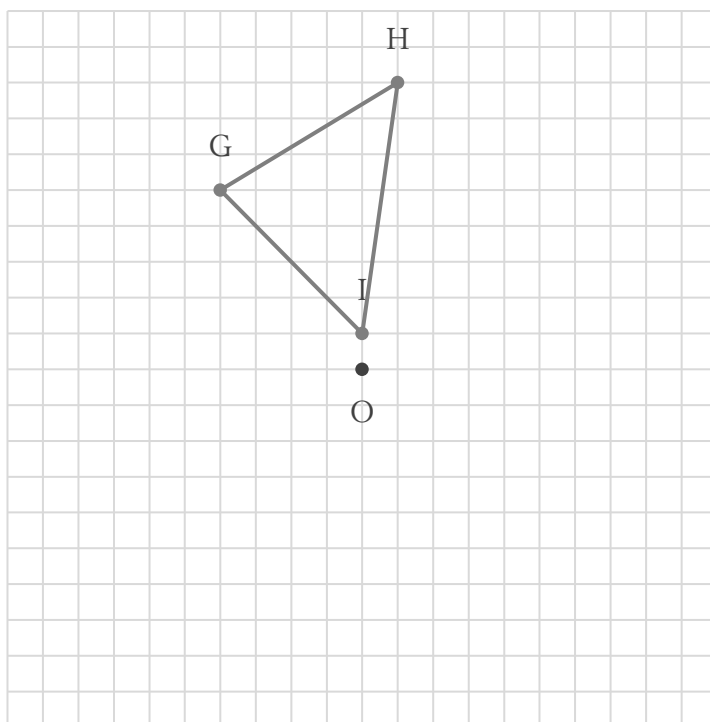
年 組 名前

/ 2

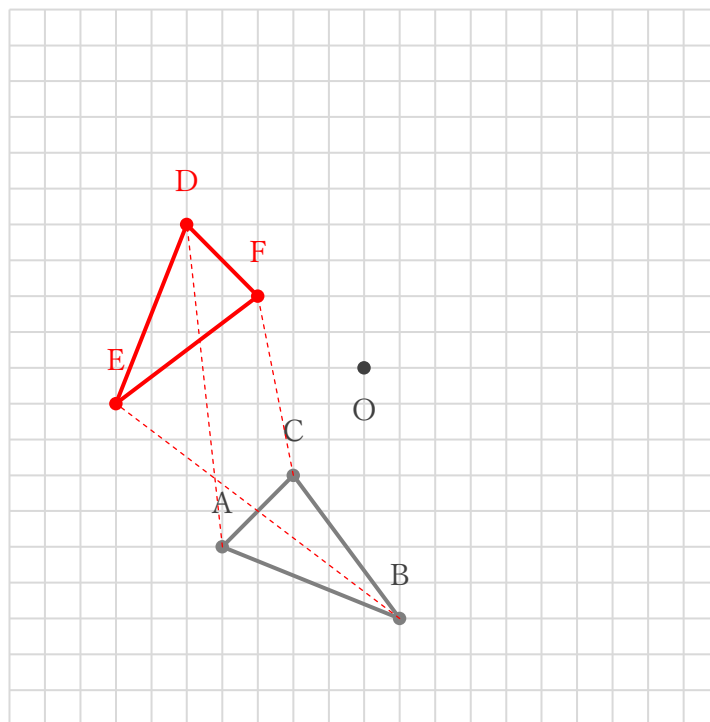
- ① 下の $\triangle ABC$ を、点Oを回転の中心として時計回りに 90° だけ回転移動してできる $\triangle DEF$ をかきなさい。



- ② 下の $\triangle GHI$ を、点Oを回転の中心として反時計回りに 90° だけ回転移動してできる $\triangle JKL$ をかきなさい。



① 下の $\triangle ABC$ を、点Oを回転の中心として時計回りに 90° だけ回転移動してできる $\triangle DEF$ をかきなさい。



② 下の $\triangle GHI$ を、点Oを回転の中心として反時計回りに 90° だけ回転移動してできる $\triangle JKL$ をかきなさい。

