

角柱

年 組 名前

/10

■ 次の各問いに答えましょう。

① 六角柱の底面の数を答えましょう。

② 六角柱の面の数を答えましょう。

③ 三角柱の底面の数を答えましょう。

④ 四角柱の頂点の数を答えましょう。

⑤ 八角柱の辺の数を答えましょう。

⑥ 八角柱の側面の数を答えましょう。

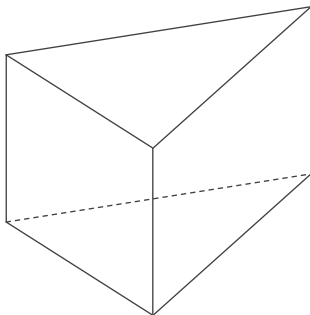
⑦ 三角柱の頂点の数を答えましょう。

⑧ 五角柱の面の数を答えましょう。

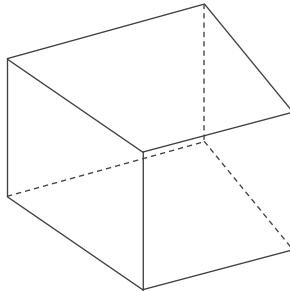
⑨ 四角柱の底面の形を答えましょう。

⑩ 五角柱の底面の形を答えましょう。

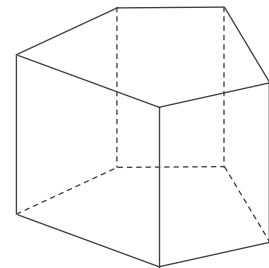
----- 折りまげてかくす -----



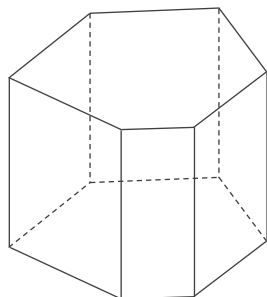
三角柱



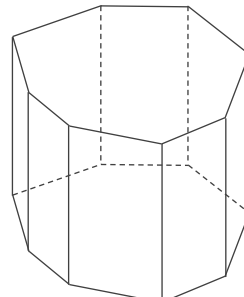
四角柱



五角柱



六角柱



八角柱

角柱

年 組 名前

/10

■ 次の各問いに答えましょう。

① 六角柱の底面の数を答えましょう。

2面

② 六角柱の面の数を答えましょう。

8面

③ 三角柱の底面の数を答えましょう。

2面

④ 四角柱の頂点の数を答えましょう。

8こ

⑤ 八角柱の辺の数を答えましょう。

24本

⑥ 八角柱の側面の数を答えましょう。

8面

⑦ 三角柱の頂点の数を答えましょう。

6こ

⑧ 五角柱の面の数を答えましょう。

7面

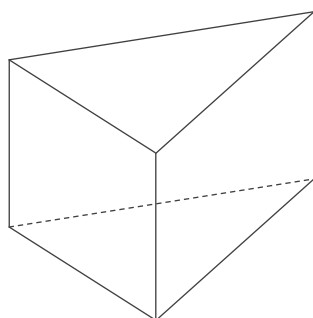
⑨ 四角柱の底面の形を答えましょう。

四角形

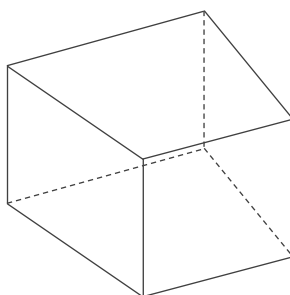
⑩ 五角柱の底面の形を答えましょう。

五角形

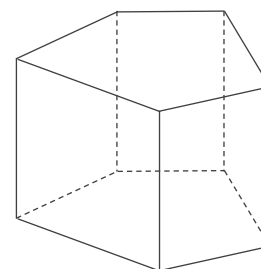
----- 折りまげてかくす -----



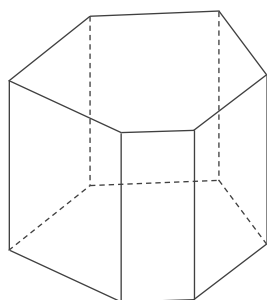
三角柱



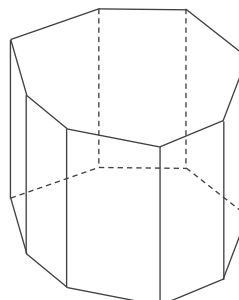
四角柱



五角柱



六角柱



八角柱