

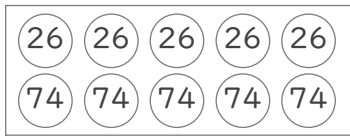
まとまりを考えて

年 組 名前

/ 8

■ □に数をあてはめて、はこの中にある玉に書かれた数の合計をもとめましょう。

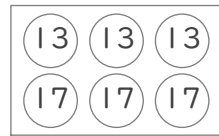
①



(式) $(\square + \square) \times \square = \square$

組を作る 組の数

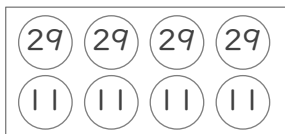
⑤



(式) $(\square + \square) \times \square = \square$

組を作る 組の数

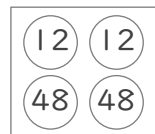
②



(式) $(\square + \square) \times \square = \square$

組を作る 組の数

⑥



(式) $(\square + \square) \times \square = \square$

組を作る 組の数

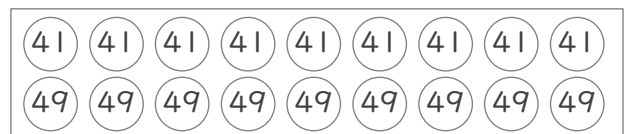
③



(式) $(\square + \square) \times \square = \square$

組を作る 組の数

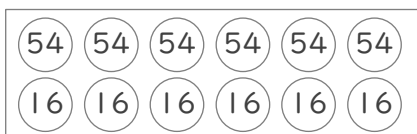
⑦



(式) $(\square + \square) \times \square = \square$

組を作る 組の数

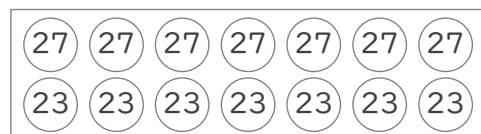
④



(式) $(\square + \square) \times \square = \square$

組を作る 組の数

⑧



(式) $(\square + \square) \times \square = \square$

組を作る 組の数

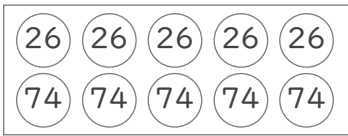
まとまりを考えて

年 組 名前

/ 8

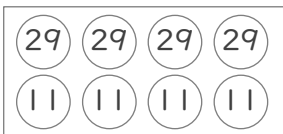
■ □に数をあてはめて、はこの中にある玉に書かれた数の合計をもとめましょう。

①




(式) $(\underbrace{26 + 74}_{\text{組を作る (100)}}) \times \underbrace{5}_{\text{組の数}} = 500$

②



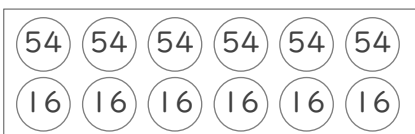
(式) $(\underbrace{29 + 11}_{\text{組を作る (40)}}) \times \underbrace{4}_{\text{組の数}} = 160$

③



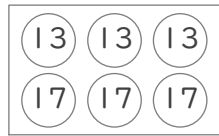
(式) $(\underbrace{48 + 32}_{\text{組を作る (80)}}) \times \underbrace{8}_{\text{組の数}} = 640$

④



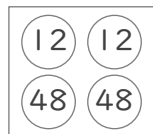
(式) $(\underbrace{54 + 16}_{\text{組を作る (70)}}) \times \underbrace{6}_{\text{組の数}} = 420$

⑤



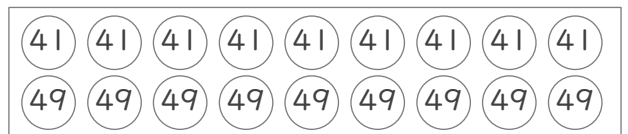
(式) $(\underbrace{13 + 17}_{\text{組を作る (30)}}) \times \underbrace{3}_{\text{組の数}} = 90$

⑥



(式) $(\underbrace{12 + 48}_{\text{組を作る (60)}}) \times \underbrace{2}_{\text{組の数}} = 120$

⑦



(式) $(\underbrace{41 + 49}_{\text{組を作る (90)}}) \times \underbrace{9}_{\text{組の数}} = 810$

⑧



(式) $(\underbrace{27 + 23}_{\text{組を作る (50)}}) \times \underbrace{7}_{\text{組の数}} = 350$