

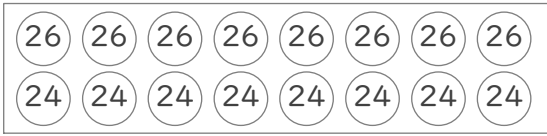
まとまりを考えて

年 組 名前

/ 8

■ □に数をあてはめて、はこの中にある玉に書かれた数の合計をもとめましょう。

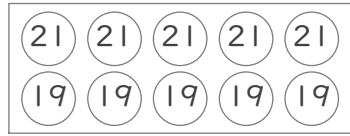
①



(式) $(\square + \square) \times \square = \square$

組を作る 組の数

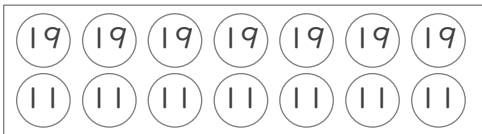
⑤



(式) $(\square + \square) \times \square = \square$

組を作る 組の数

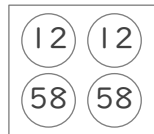
②



(式) $(\square + \square) \times \square = \square$

組を作る 組の数

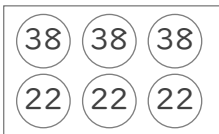
⑥



(式) $(\square + \square) \times \square = \square$

組を作る 組の数

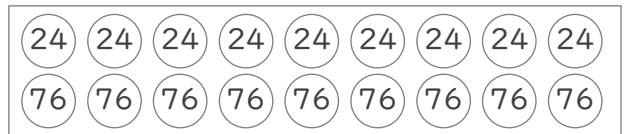
③



(式) $(\square + \square) \times \square = \square$

組を作る 組の数

⑦



(式) $(\square + \square) \times \square = \square$

組を作る 組の数


④



(式) $(\square + \square) \times \square = \square$

組を作る 組の数

⑧



(式) $(\square + \square) \times \square = \square$

組を作る 組の数

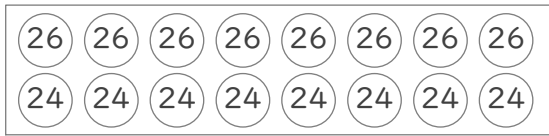
まとまりを考えて

年 組 名前

/ 8

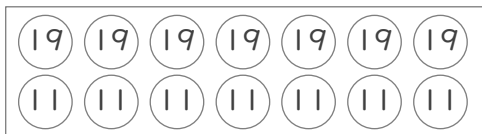
■ □に数をあてはめて、はこの中にある玉に書かれた数の合計をもとめましょう。

①



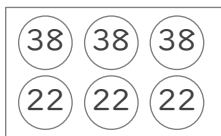
(式) $(\underbrace{26 + 24}_{\text{組を作る (50)}}) \times \underbrace{8}_{\text{組の数}} = 400$

②



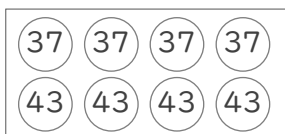
(式) $(\underbrace{19 + 11}_{\text{組を作る (30)}}) \times \underbrace{7}_{\text{組の数}} = 210$

③



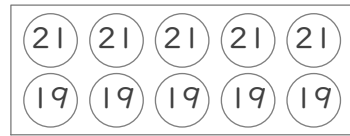
(式) $(\underbrace{38 + 22}_{\text{組を作る (60)}}) \times \underbrace{3}_{\text{組の数}} = 180$

④



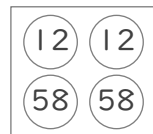
(式) $(\underbrace{37 + 43}_{\text{組を作る (80)}}) \times \underbrace{4}_{\text{組の数}} = 320$

⑤



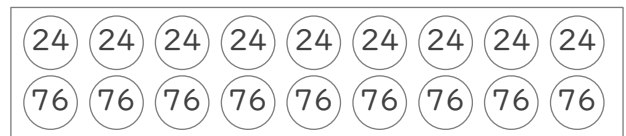
(式) $(\underbrace{21 + 19}_{\text{組を作る (40)}}) \times \underbrace{5}_{\text{組の数}} = 200$

⑥




(式) $(\underbrace{12 + 58}_{\text{組を作る (70)}}) \times \underbrace{2}_{\text{組の数}} = 140$

⑦



(式) $(\underbrace{24 + 76}_{\text{組を作る (100)}}) \times \underbrace{9}_{\text{組の数}} = 900$

⑧



(式) $(\underbrace{53 + 37}_{\text{組を作る (90)}}) \times \underbrace{6}_{\text{組の数}} = 540$