

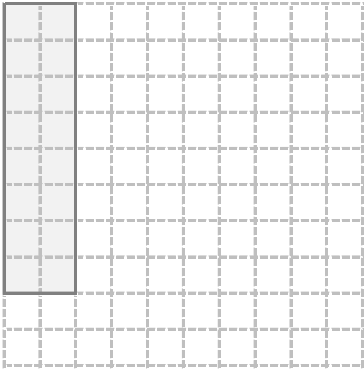
面積のじゅんぴ

年 組 名前

/ 6


■ 色がついている部分のます目の数をかぞえましょう。

①




(式)

④



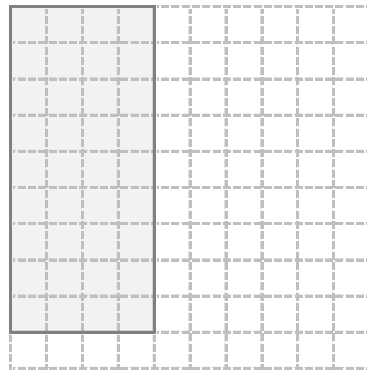
(式)

②




(式)

⑤




(式)

③



(式)

⑥



(式)

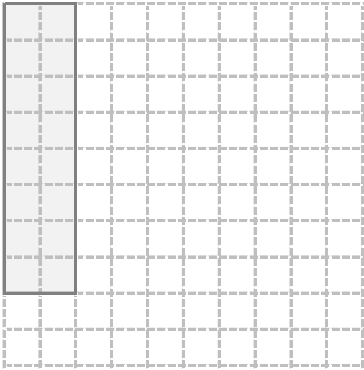
面積

年 組 名前

/ 6

■ 色がついている部分のます目の数をかぞえましょう。

①




(式)

$$8 \times 2 = 16$$

16 こ

④




(式)

$$3 \times 6 = 18$$

18 こ

②

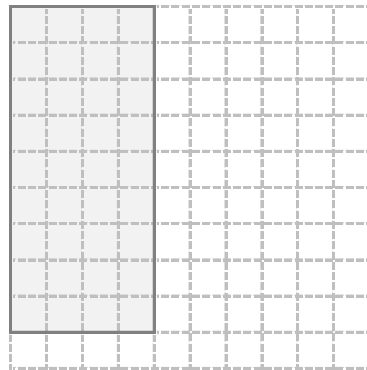


(式)

$$2 \times 8 = 16$$

16 こ

⑤




(式)

$$9 \times 4 = 36$$

36 こ

③




(式)

$$6 \times 3 = 18$$

18 こ

⑥



(式)

$$5 \times 9 = 45$$

45 こ