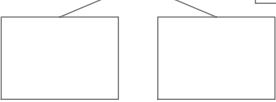
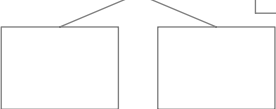
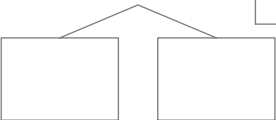
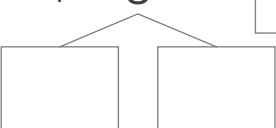


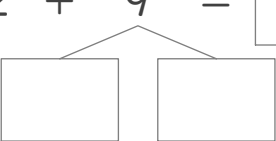
■ つぎの四角に数字をあてはめて、たし算をしましょう。

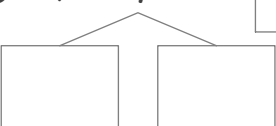
① $38 + 8 = \square$
 たして 40


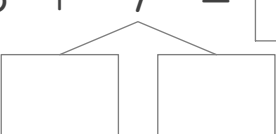
② $79 + 6 = \square$
 たして 80


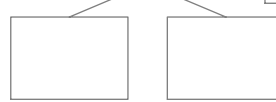
③ $54 + 8 = \square$
 たして 60


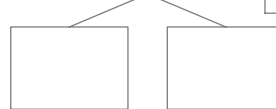
④ $77 + 8 = \square$
 たして 80


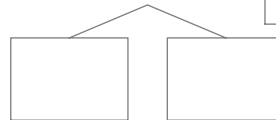
⑤ $32 + 9 = \square$
 たして 40


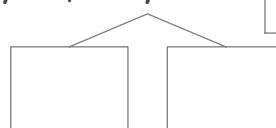
⑥ $43 + 9 = \square$
 たして 50


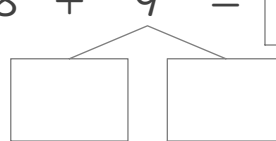
⑦ $85 + 7 = \square$
 たして 90


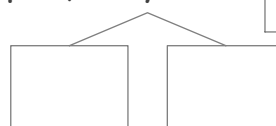
⑧ $27 + 9 = \square$
 たして 30


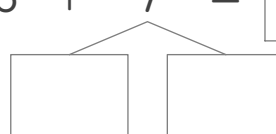
⑨ $19 + 5 = \square$
 たして 20


⑩ $55 + 6 = \square$
 たして 60


⑪ $47 + 7 = \square$
 たして 50


⑫ $68 + 9 = \square$
 たして 70


⑬ $84 + 7 = \square$
 たして 90


⑭ $86 + 7 = \square$
 たして 90


■ つぎの四角に数字をあてはめて、たし算をしましょう。

① $38 + 8 = 46$
 たして 40
 2 6

② $79 + 6 = 85$
 たして 80
 1 5

③ $54 + 8 = 62$
 たして 60
 6 2

④ $77 + 8 = 85$
 たして 80
 3 5

⑤ $32 + 9 = 41$
 たして 40
 8 1

⑥ $43 + 9 = 52$
 たして 50
 7 2

⑦ $85 + 7 = 92$
 たして 90
 5 2

⑧ $27 + 9 = 36$
 たして 30
 3 6

⑨ $19 + 5 = 24$
 たして 20
 1 4

⑩ $55 + 6 = 61$
 たして 60
 5 1

⑪ $47 + 7 = 54$
 たして 50
 3 4

⑫ $68 + 9 = 77$
 たして 70
 2 7

⑬ $84 + 7 = 91$
 たして 90
 6 1

⑭ $86 + 7 = 93$
 たして 90
 4 3