

# たし算とひき算

年 組 名前

/15

■ つぎのたし算やひき算の筆算をしましょう。

①		3	9	7
	+	4	6	7

②		4	8	4
	+	8	2	4

③		6	5	7	8
	+	4	3	3	1

④		7	0	7
	-	3	8	0

⑤		5	4	8
	-	3	7	7

⑥		8	7	1	3
	-	7	8	3	4

■ 次の計算を暗算でしましょう。

⑦  $49 + 71 =$

⑩  $69 - 41 =$

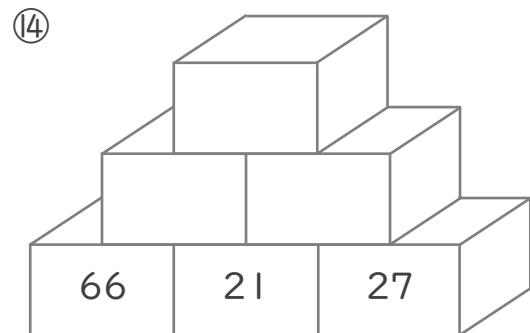
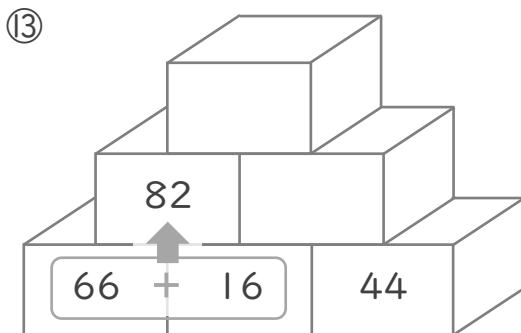
⑧  $21 + 83 =$

⑪  $72 - 55 =$

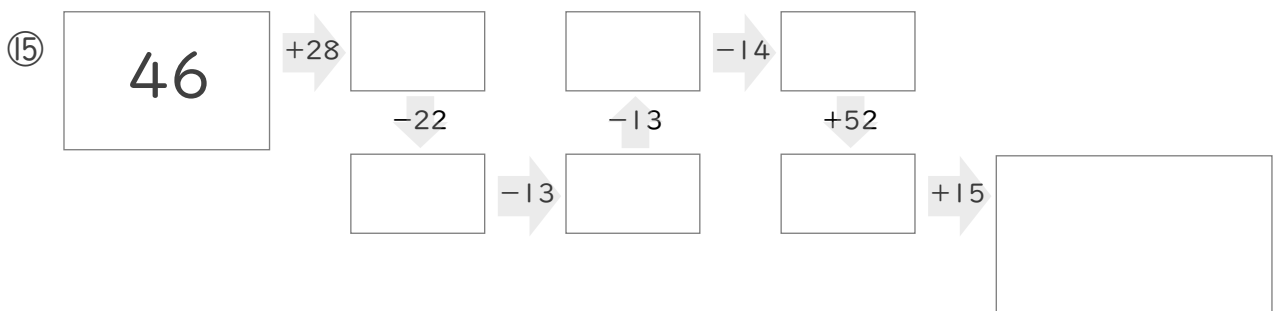
⑨  $82 + 18 =$

⑫  $82 - 13 =$

■ 2つのつみきの数をたした答えをその上のつみきを書いて、ピラミッドを完成させましょう。



■  に入る数を答えましょう。



# たし算とひき算

年 組 名前

/15

■ つぎのたし算やひき算の筆算をしましょう。

①		3	9	7
	+	4	6	7
		8	6	4

②		4	8	4	
	+	8	2	4	
		1	3	0	8

③		6	5	7	8	
	+	4	3	3	1	
		1	0	9	0	9

④		7	0	7
	-	3	8	0
		3	2	7

⑤		5	4	8
	-	3	7	7
		1	7	1

⑥		8	7	1	3
	-	7	8	3	4
			8	7	9

■ 次の計算を暗算でしましょう。

⑦  $49 + 71 =$

⑩  $69 - 41 =$

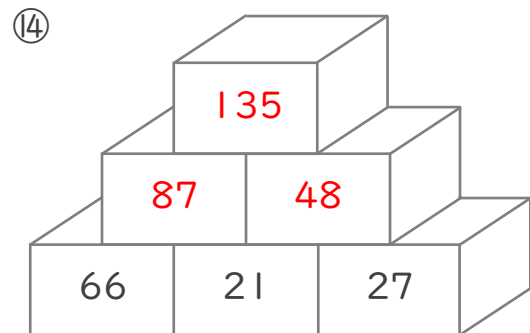
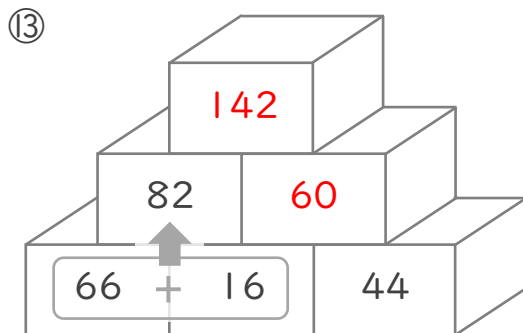
⑧  $21 + 83 =$

⑪  $72 - 55 =$

⑨  $82 + 18 =$

⑫  $82 - 13 =$

■ 2つのつみきの数をたした答えをその上のつみきを書いて、ピラミッドを完成させましょう。



■  に入る数を答えましょう。

