

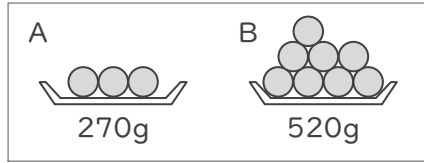
# さしひいて考えて

年 組 名前

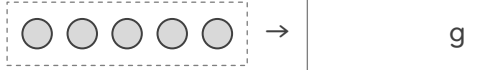
/16

■ 同じ重さの玉がいくつかと器があります。次の①～④の場合における、それぞれの重さを考えましょう。

①



AとBのちがい



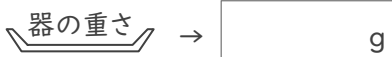
●が1つ分の重さ



●が3つ分の重さ

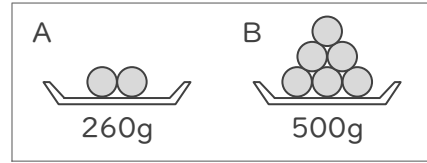


+



Aの重さ  
→ 270g

③



AとBのちがい



●が1つ分の重さ



●が2つ分の重さ

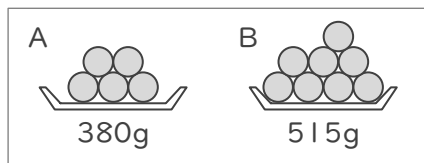


+



Aの重さ  
→ 260g

②



AとBのちがい



●が1つ分の重さ



●が5つ分の重さ

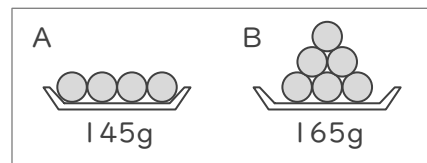


+

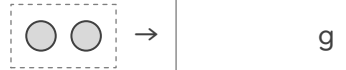


Aの重さ  
→ 380g

④



AとBのちがい



●が1つ分の重さ



●が4つ分の重さ



+



Aの重さ  
→ 145g

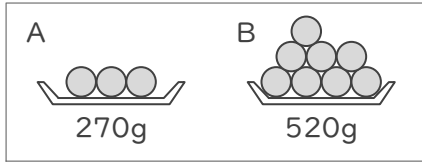
# さしひいて考えて

年 組 名前

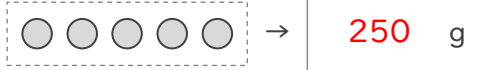
/16

■ 同じ重さの玉がいくつかと器があります。次の①～④の場合における、それぞれの重さを考えましょう。

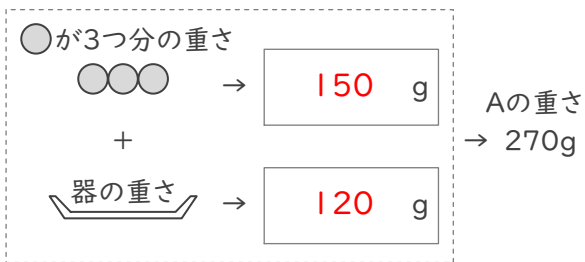
①



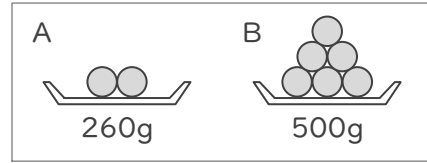
AとBのちがい



●が1つ分の重さ



③



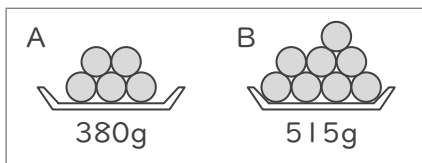
AとBのちがい



●が1つ分の重さ



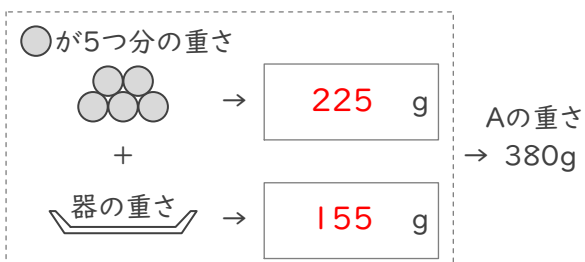
②



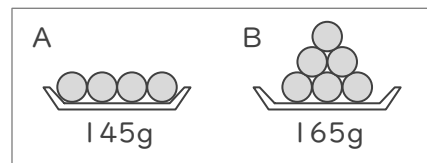
AとBのちがい



●が1つ分の重さ



④



AとBのちがい



●が1つ分の重さ

