

たし算とひき算

年 組 名前

/15

■ つぎのたし算やひき算の筆算をしましょう。

①		9	0	4
	+	9	7	4

②		1	9	1
	+	8	6	5

③		8	7	3	5
	+	9	5	8	8

④		7	9	1
	-	3	0	7

⑤		8	8	4
	-	4	0	7

⑥		8	2	6	7
	-	7	2	1	0

■ 次の計算を暗算でしましょう。

⑦ $35 + 15 =$

⑩ $55 - 25 =$

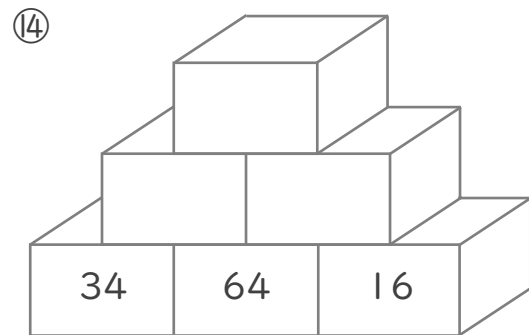
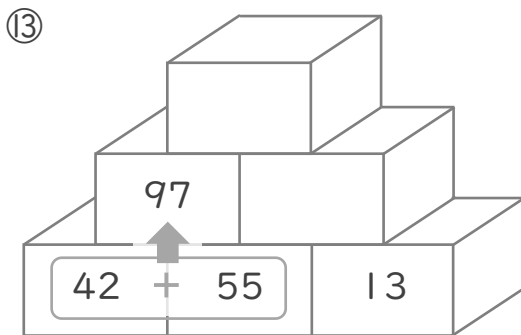
⑧ $45 + 40 =$

⑪ $94 - 45 =$

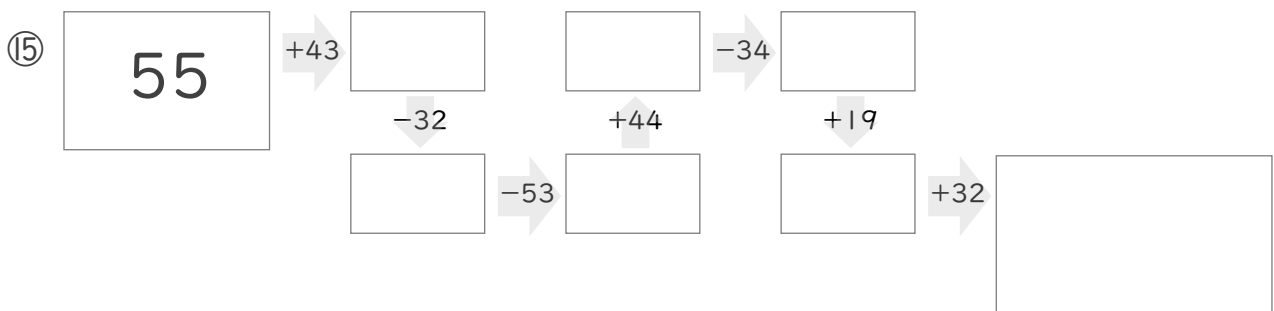
⑨ $31 + 27 =$

⑫ $53 - 32 =$

■ 2つのつみきの数をたした答えをその上のつみきに書いて、ピラミッドを完成させましょう。



■ に入る数を答えましょう。



たし算とひき算

年 組 名前

/15

■ つぎのたし算やひき算の筆算をしましょう。

①		9	0	4
	+	9	7	4
		1	8	7
			8	

②		1	9	1
	+	8	6	5
		1	0	5
			6	

③		8	7	3	5
	+	9	5	8	8
		1	8	3	2
			3	2	3

④		7	9	1
	-	3	0	7
		4	8	4

⑤		8	8	4
	-	4	0	7
		4	7	7

⑥		8	2	6	7
	-	7	2	1	0
		1	0	5	7

■ 次の計算を暗算でしましょう。

⑦ $35 + 15 =$

⑧ $45 + 40 =$

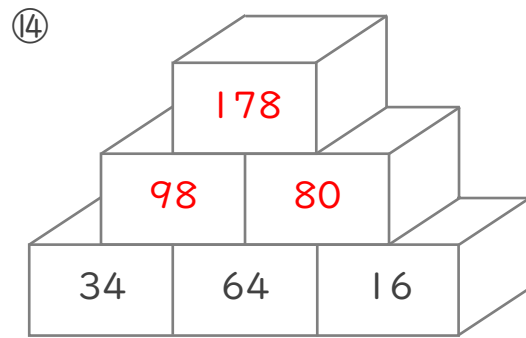
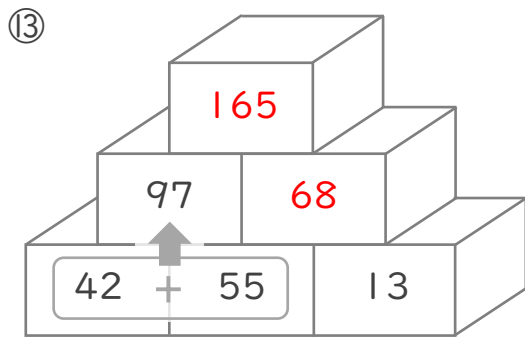
⑨ $31 + 27 =$

⑩ $55 - 25 =$

⑪ $94 - 45 =$

⑫ $53 - 32 =$

■ 2つのつみきの数をたした答えをその上のつみきに書いて、ピラミッドを完成させましょう。



■ に入る数を答えましょう。

