

たし算とひき算

年 組 名前

/15

■ つぎのたし算やひき算の筆算をしましょう。

①		9	8	4
	+	7	9	1

②		5	4	5
	+	8	7	8

③		2	0	6	8
	+	4	8	6	5

④		9	3	0
	-	5	5	0

⑤		5	5	5
	-	4	9	5

⑥		8	4	0	3
	-	6	0	4	0

■ 次の計算を暗算でしましょう。

⑦ $81 + 66 =$

⑩ $68 - 43 =$

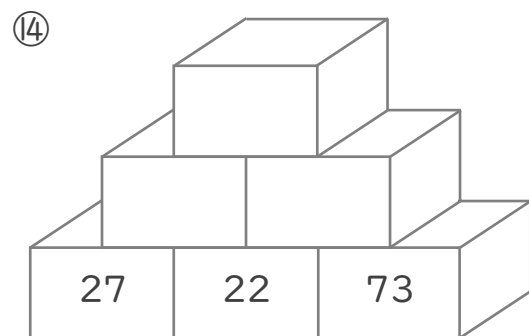
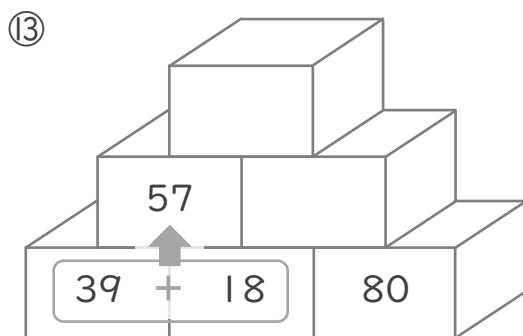
⑧ $84 + 97 =$

⑪ $93 - 84 =$

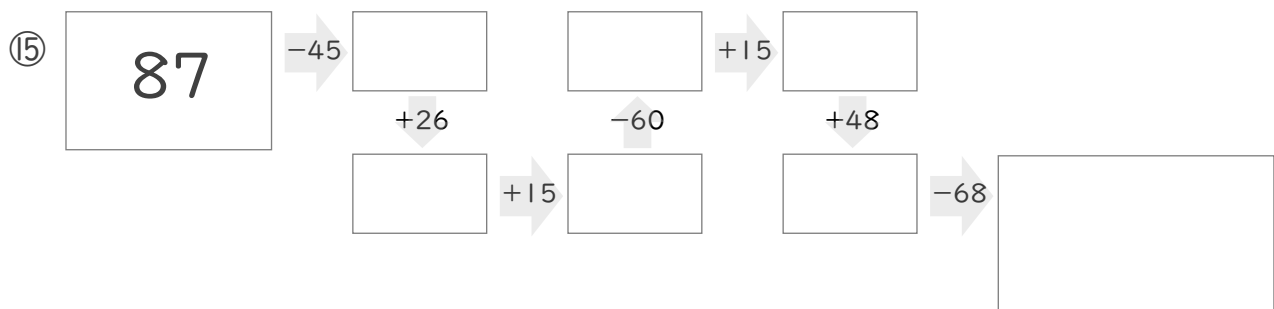
⑨ $11 + 11 =$

⑫ $55 - 32 =$

■ 2つのつみきの数をたした答えをその上のつみきを書いて、ピラミッドを完成させましょう。



■ に入る数を答えましょう。



たし算とひき算

年 組 名前

/15

■ つぎのたし算やひき算の筆算をしましょう。

①		9	8	4
	+	7	9	1
		1	7	7
				5

②		5	4	5
	+	8	7	8
		1	4	2
				3

③		2	0	6	8
	+	4	8	6	5
		6	9	3	3

④		9	3	0
	-	5	5	0
		3	8	0

⑤		5	5	5
	-	4	9	5
			6	0

⑥		8	4	0	3
	-	6	0	4	0
		2	3	6	3

■ 次の計算を暗算でしましょう。

⑦ $81 + 66 =$ 147

⑩ $68 - 43 =$ 25

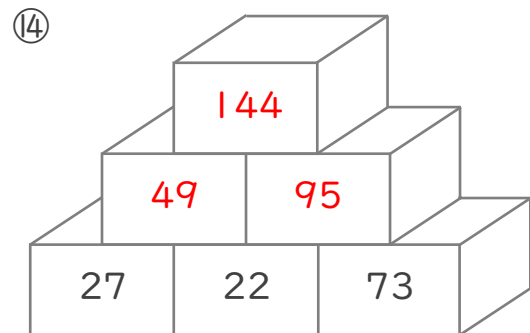
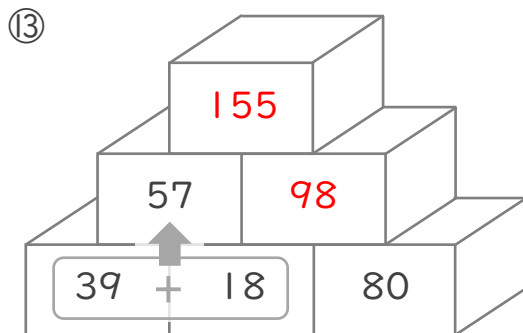
⑧ $84 + 97 =$ 181

⑪ $93 - 84 =$ 9

⑨ $11 + 11 =$ 22

⑫ $55 - 32 =$ 23

■ 2つのつみきの数をたした答えをその上のつみきに書いて、ピラミッドを完成させましょう。



■ に入る数を答えましょう。

