

# たし算とひき算

年 組 名前

/15

■ つぎのたし算やひき算の筆算をしましょう。

①		6	2	0
	+	6	7	5

②		9	8	2
	+	9	8	7

③		9	6	1	8
	+	8	2	1	8

④		5	2	9
	-	1	2	6

⑤		3	3	0
	-	1	7	9

⑥		9	9	3	6
	-	7	5	0	7

■ 次の計算を暗算でしましょう。

⑦  $71 + 21 =$

⑩  $99 - 39 =$

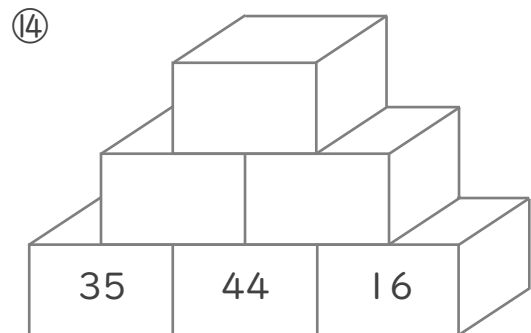
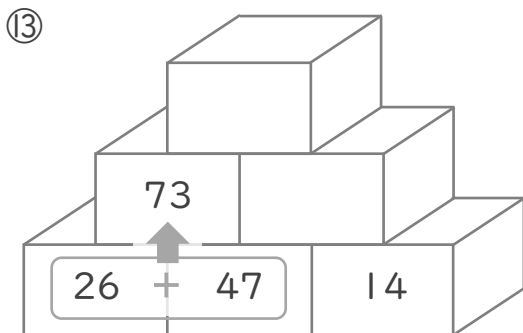
⑧  $88 + 67 =$

⑪  $62 - 53 =$

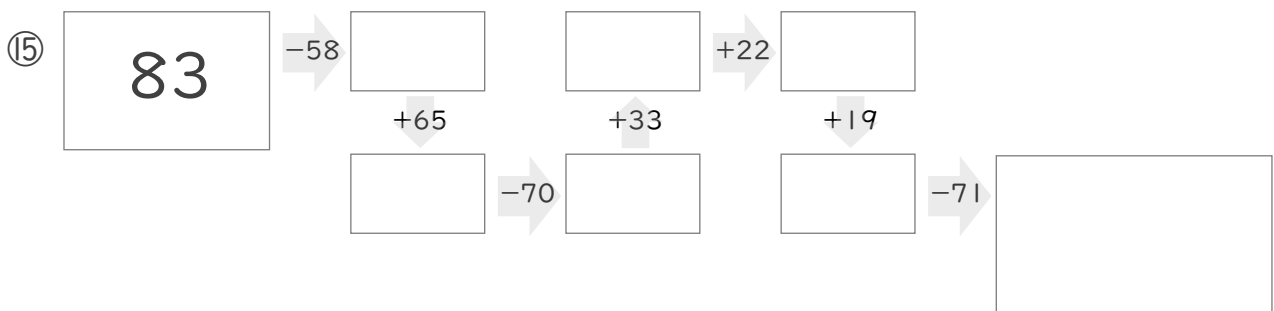
⑨  $19 + 55 =$

⑫  $89 - 47 =$

■ 2つのつみきの数をたした答えをその上のつみきを書いて、ピラミッドを完成させましょう。



■  に入る数を答えましょう。



# たし算とひき算

年 組 名前

/15

■ つぎのたし算やひき算の筆算をしましょう。

①		6	2	0
	+	6	7	5
		1	2	9
				5

②		9	8	2
	+	9	8	7
		1	9	6
				9

③		9	6	1	8
	+	8	2	1	8
		1	7	8	3
					6

④		5	2	9
	-	1	2	6
		4	0	3

⑤		3	3	0
	-	1	7	9
		1	5	1

⑥		9	9	3	6
	-	7	5	0	7
		2	4	2	9

■ 次の計算を暗算でしましょう。

⑦  $71 + 21 = 92$

⑩  $99 - 39 = 60$

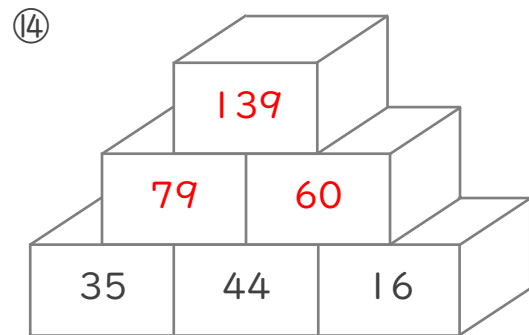
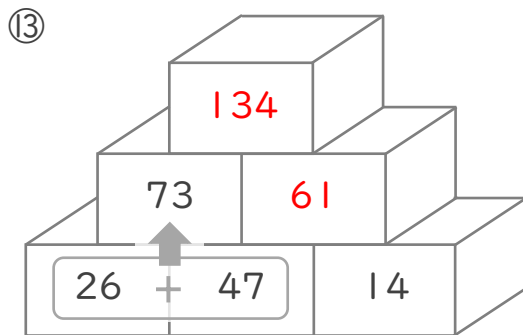
⑧  $88 + 67 = 155$

⑪  $62 - 53 = 9$

⑨  $19 + 55 = 74$

⑫  $89 - 47 = 42$

■ 2つのつみきの数をたした答えをその上のつみきを書いて、ピラミッドを完成させましょう。



■  に入る数を答えましょう。

