

たし算とひき算

年 組 名前

/15

■ つぎのたし算やひき算の筆算をしましょう。

①		8	0	1
	+	5	8	0

②		2	1	2
	+	6	7	0

③		6	0	8	6
	+	9	6	5	0

④		8	6	8
	-	6	7	3

⑤		8	1	7
	-	5	1	2

⑥		9	4	0	7
	-	2	9	5	3

■ 次の計算を暗算でしましょう。

⑦ $69 + 57 =$

⑩ $84 - 23 =$

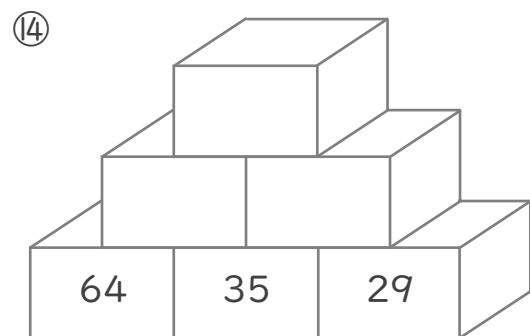
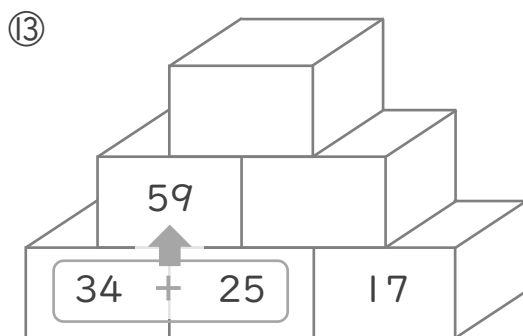
⑧ $91 + 15 =$

⑪ $54 - 27 =$

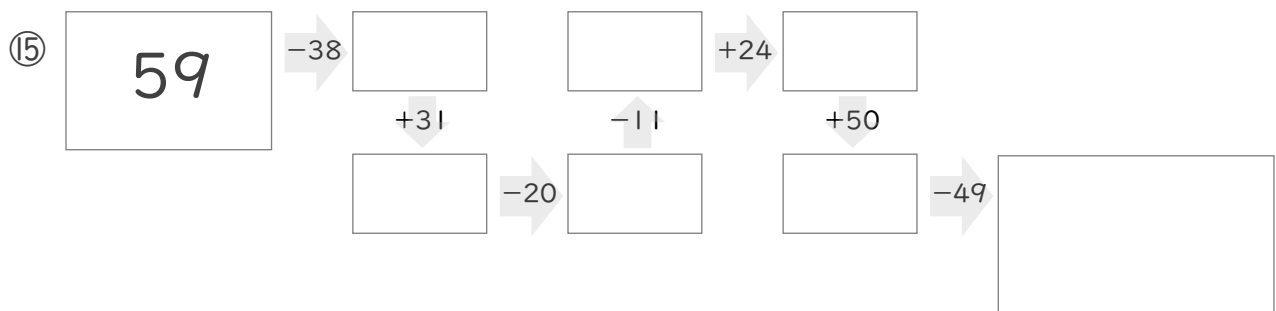
⑨ $17 + 65 =$

⑫ $74 - 55 =$

■ 2つのつみきの数をたした答えをその上のつみきに書いて、ピラミッドを完成させましょう。



■ に入る数を答えましょう。



たし算とひき算

年 組 名前

/15

■ つぎのたし算やひき算の筆算をしましょう。

①		8	0	1
	+	5	8	0
		1	3	8
				1

②		2	1	2
	+	6	7	0
		8	8	2

③		6	0	8	6
	+	9	6	5	0
		1	5	7	3
					6

④		8	6	8
	-	6	7	3
		1	9	5

⑤		8	1	7
	-	5	1	2
		3	0	5

⑥		9	4	0	7
	-	2	9	5	3
		6	4	5	4

■ 次の計算を暗算でしましょう。

⑦ $69 + 57 =$ 126

⑩ $84 - 23 =$ 61

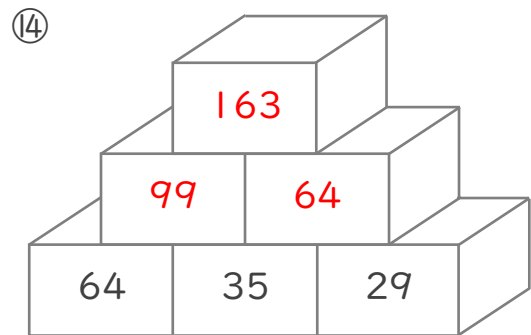
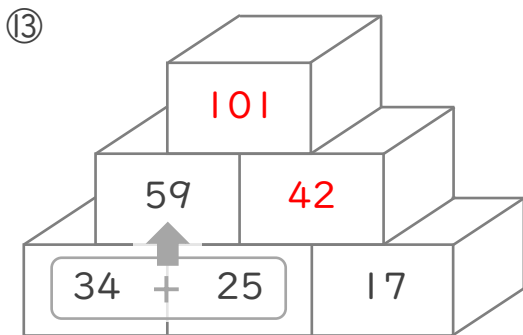
⑧ $91 + 15 =$ 106

⑪ $54 - 27 =$ 27

⑨ $17 + 65 =$ 82

⑫ $74 - 55 =$ 19

■ 2つのつみきの数をたした答えをその上のつみきに書いて、ピラミッドを完成させましょう。



■ に入る数を答えましょう。

