

たし算とひき算

年 組 名前

/15

■ つぎのたし算やひき算の筆算をしましょう。

①		7	1	0
	+	3	9	6

②		1	4	7
	+	5	4	1

③		1	8	3	4
	+	3	0	8	2

④		8	3	1
	-	4	7	7

⑤		6	7	7
	-	5	8	5

⑥		9	7	0	3
	-	1	9	0	1

■ 次の計算を暗算でしましょう。

⑦ $39 + 40 =$

⑩ $92 - 42 =$

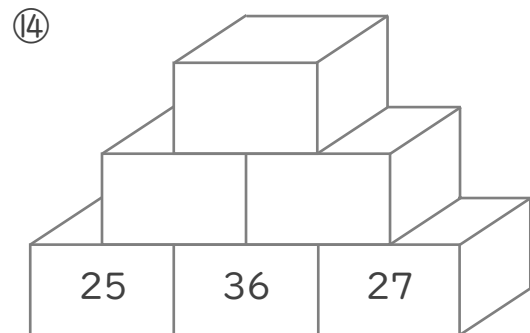
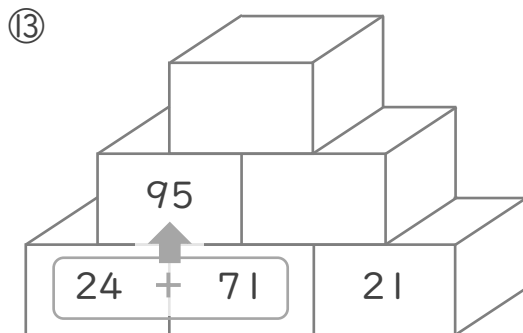
⑧ $15 + 55 =$

⑪ $74 - 25 =$

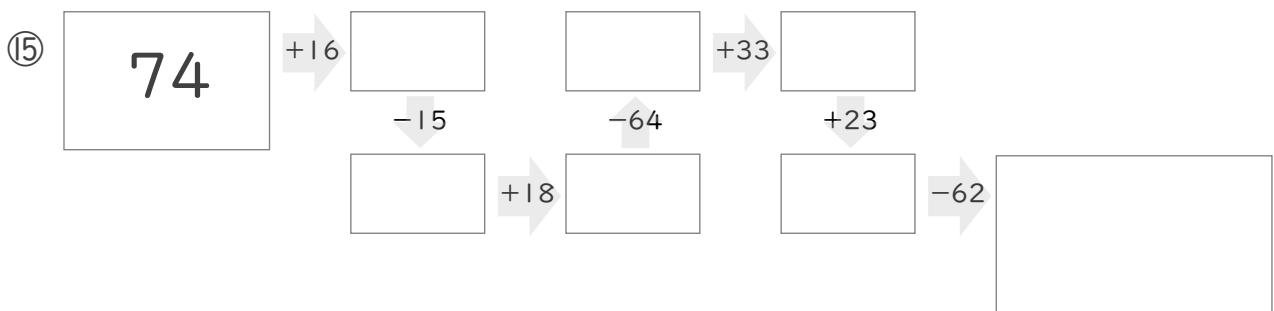
⑨ $76 + 49 =$

⑫ $21 - 15 =$

■ 2つのつみきの数をたした答えをその上のつみきを書いて、ピラミッドを完成させましょう。



■ に入る数を答えましょう。



たし算とひき算

年 組 名前

/15

■ つぎのたし算やひき算の筆算をしましょう。

①		7	1	0
	+	3	9	6
		1	1	0
				6

②		1	4	7
	+	5	4	1
		6	8	8

③		1	8	3	4
	+	3	0	8	2
		4	9	1	6

④		8	3	1
	-	4	7	7
		3	5	4

⑤		6	7	7
	-	5	8	5
			9	2

⑥		9	7	0	3
	-	1	9	0	1
		7	8	0	2

■ 次の計算を暗算でしましょう。

⑦ $39 + 40 =$ 79

⑩ $92 - 42 =$ 50

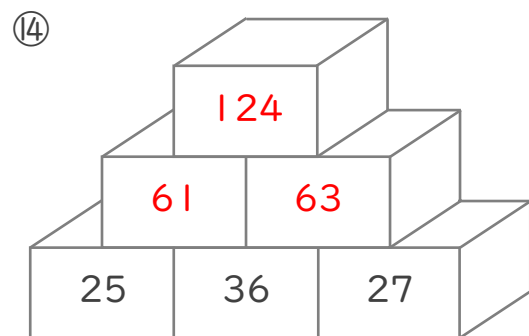
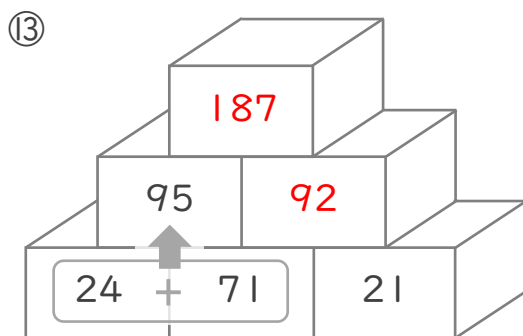
⑧ $15 + 55 =$ 70

⑪ $74 - 25 =$ 49

⑨ $76 + 49 =$ 125

⑫ $21 - 15 =$ 6

■ 2つのつみきの数をたした答えをその上のつみきに書いて、ピラミッドを完成させましょう。



■ に入る数を答えましょう。

