

かずのせん

ねん くみ
なまえ

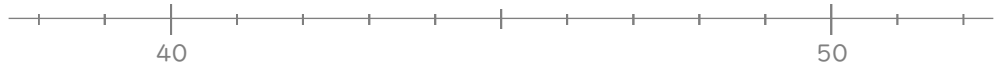
/ 5

■ ①～⑤の かずはどこですか。かずのせんにかきこみましょう。

① 36



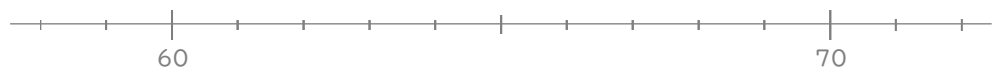
② 45



③ 59



④ 63



⑤ 72



かずのせん

ねん くみ
なまえ

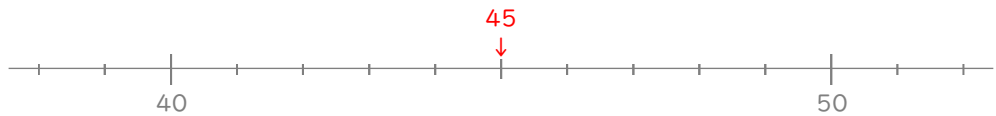
/ 5

■ ①～⑤の かずはどこですか。かずのせんにかきこみましょう。

① 36



② 45



③ 59



④ 63



⑤ 72

