

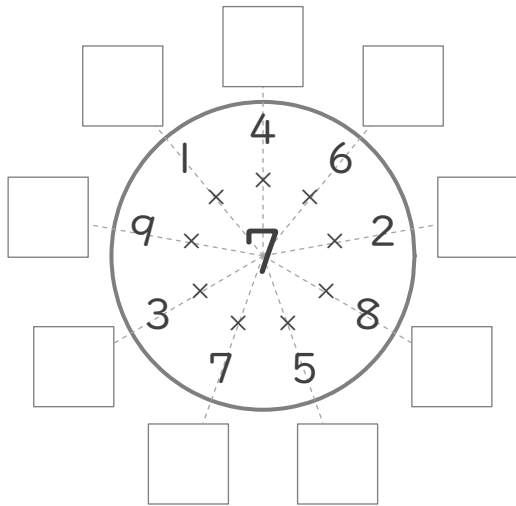
九九のまとめ

年 組 名前

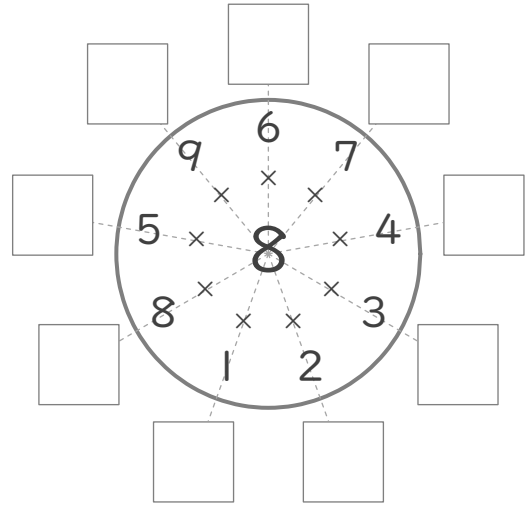
/12

■ まん中の数字とまわりの数字をかけた答えを書きましょう。

①



②



■ 2のだんに出てこない数のすべてに、丸(O)をつけましょう。

③

6	10	18	8
14	13	4	17

■ 上の数と左の数をかけて、9つのマスをそれぞれうめましょう。

④

	かける数		
	5	8	6
かけられる数	4		
	3		
	5		

⑤

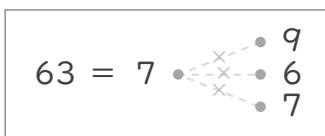
	かける数		
	7	8	6
かけられる数	2		
	5		
	1		

⑥

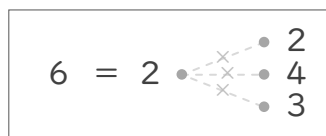
	かける数		
	2	1	4
かけられる数	7		
	6		
	8		

■ 左の数になるようなかけ算のくみあわせを線でつなぎましょう。

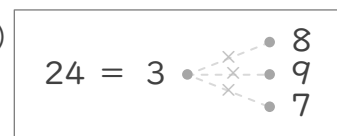
⑦



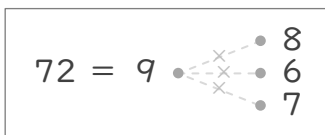
⑨



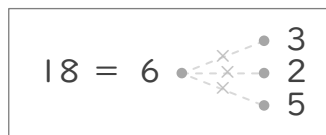
⑪



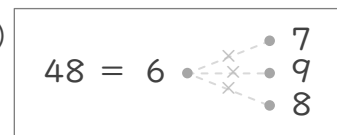
⑧



⑩



⑫



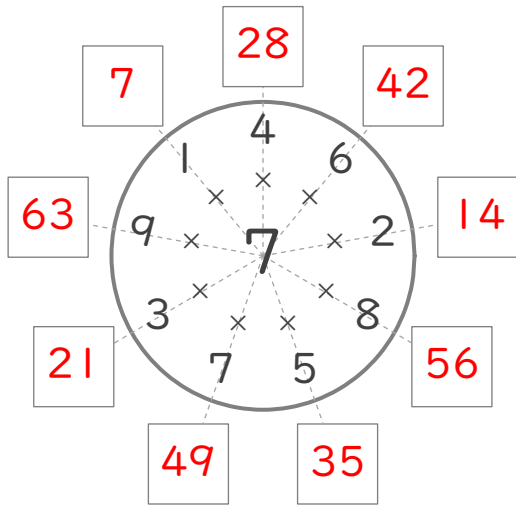
九九のまとめ

年 組 名前

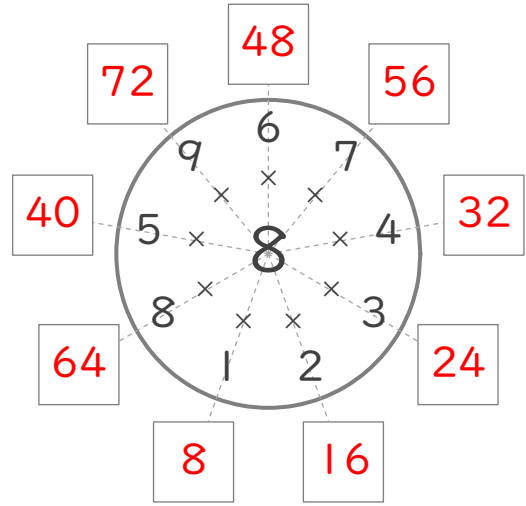
/12

■ まん中の数字とまわりの数字をかけた答えを書きましょう。

①



②



■ 2のだんに出てこない数のすべてに、丸(O)をつけましょう。

③

6	10	18	8
14	13	4	17

■ 上の数と左の数をかけて、9つのマスをそれぞれうめましょう。

④

		かける数		
		5	8	6
かけられる数	4	20	32	24
	3	15	24	18
	5	25	40	30

⑤

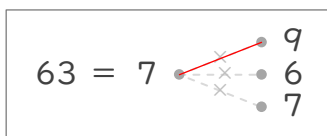
		かける数		
		7	8	6
かけられる数	2	14	16	12
	5	35	40	30
	1	7	8	6

⑥

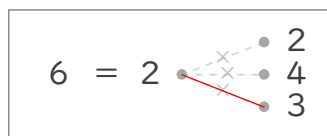
		かける数		
		2	1	4
かけられる数	7	14	7	28
	6	12	6	24
	8	16	8	32

■ 左の数になるようなかけ算のくみあわせを線でつなぎましょう。

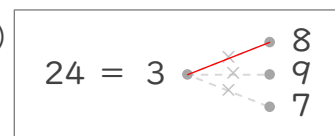
⑦



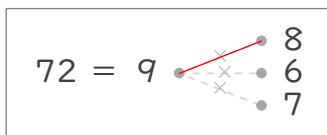
⑨



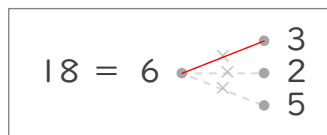
⑪



⑧



⑩



⑫

