

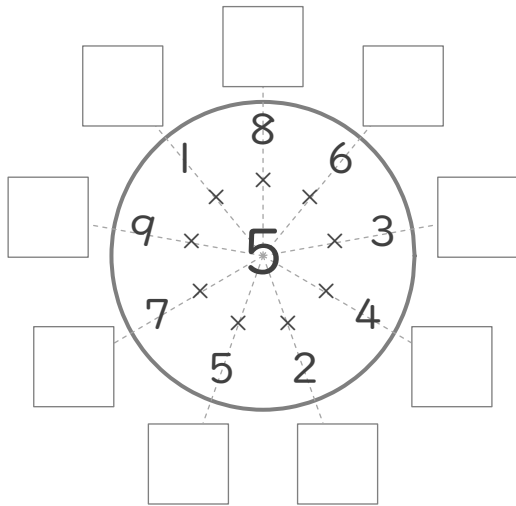
# 九九のまとめ

年 組 名前

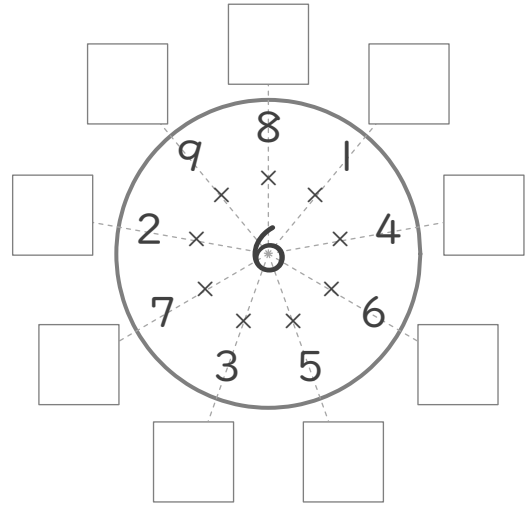
/12

■ まん中の数字とまわりの数字をかけた答えを書きましょう。

①



②



■ 4のだんに出てこない数のすべてに、丸(O)をつけましょう。

③

36	17	28	20
13	32	8	24

■ 上の数と左の数をかけて、9つのマスをそれぞれうめましょう。

④

	かける数		
	4	3	2
かけられる数	7		
	8		
	6		

⑤

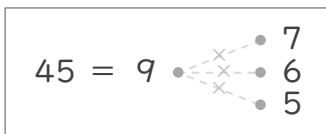
	かける数		
	1	2	6
かけられる数	4		
	5		
	3		

⑥

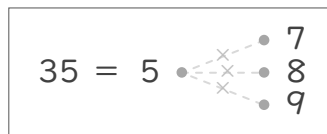
	かける数		
	9	4	3
かけられる数	8		
	4		
	3		

■ 左の数になるようなかけ算のくみあわせを線でつなぎましょう。

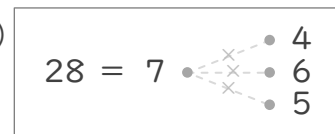
⑦




⑨



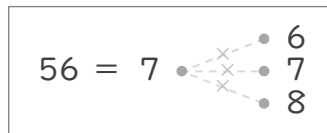
⑪



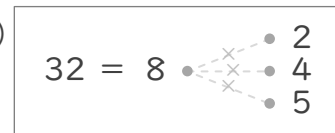
⑧



⑩



⑫



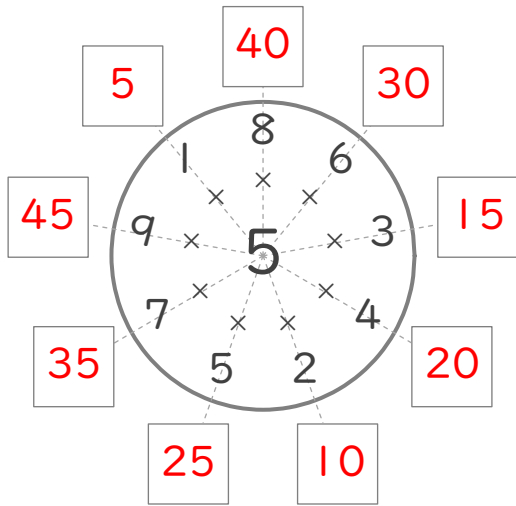
# 九九のまとめ

年 組 名前

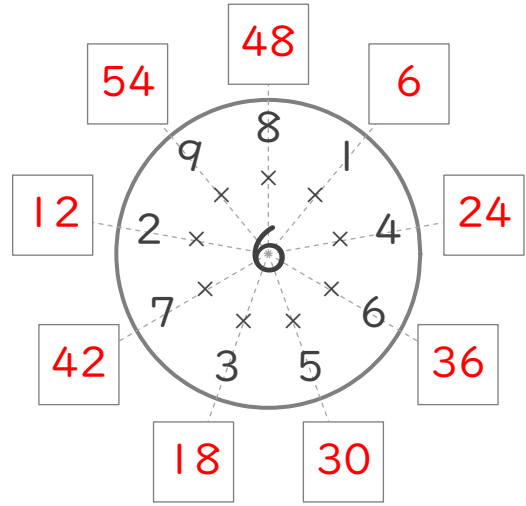
/12

■ まん中の数字とまわりの数字をかけた答えを書きましょう。

①



②



■ 4のだんに出てこない数のすべてに、丸(O)をつけましょう。

③

36	17	28	20
13	32	8	24

■ 上の数と左の数をかけて、9つのマスをそれぞれうめましょう。

④

		かける数		
		4	3	2
かけられる数	7	28	21	14
	8	32	24	16
	6	24	18	12

⑤

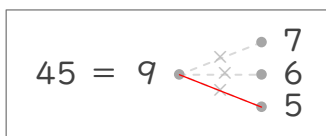
		かける数		
		1	2	6
かけられる数	4	4	8	24
	5	5	10	30
	3	3	6	18

⑥

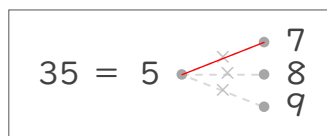
		かける数		
		9	4	3
かけられる数	8	72	32	24
	4	36	16	12
	3	27	12	9

■ 左の数になるようなかけ算のくみあわせを線でつなぎましょう。

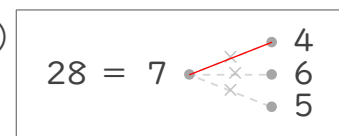
⑦



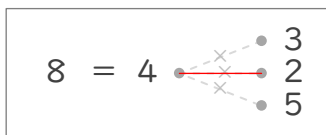
⑨



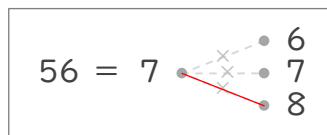
⑪



⑧



⑩



⑫

