

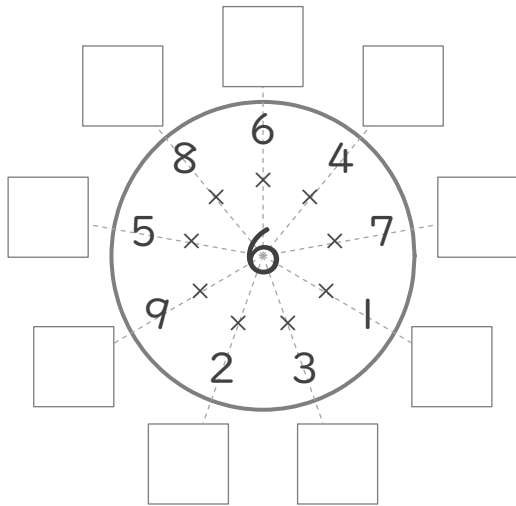
# 九九のまとめ

年 組 名前

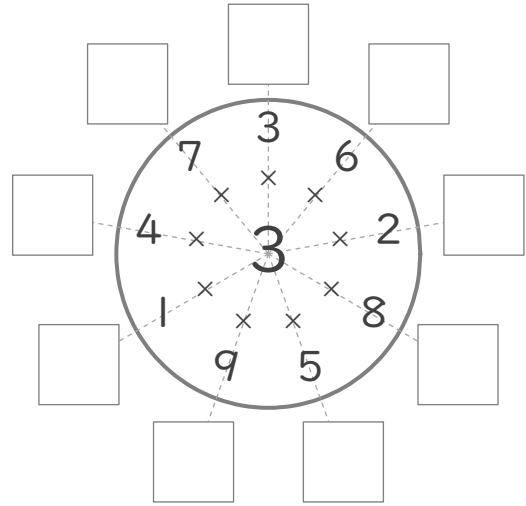
/12

■ まん中の数字とまわりの数字をかけた答えを書きましょう。

①



②



■ 9のだんに出てこない数のすべてに、丸(O)をつけましょう。

③

64	81	18	54
45	30	72	36

■ 上の数と左の数をかけて、9つのマスをそれぞれうめましょう。

④

	かける数		
	8	6	7
かけられる数	5		
	8		
	4		

⑤

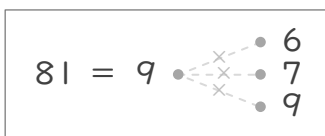
	かける数		
	9	8	7
かけられる数	1		
	8		
	2		

⑥

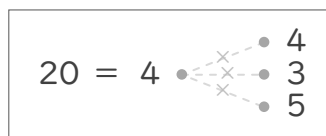
	かける数		
	9	3	2
かけられる数	3		
	4		
	8		

■ 左の数になるようなかけ算のくみあわせを線でつなぎましょう。

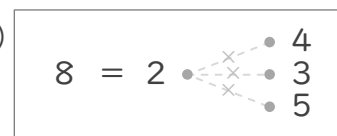
⑦



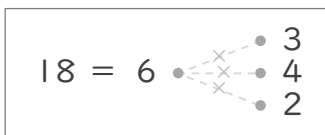
⑨



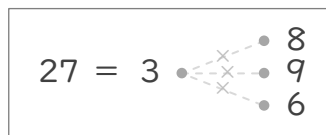
⑪



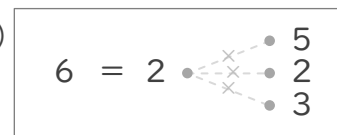
⑧



⑩



⑫



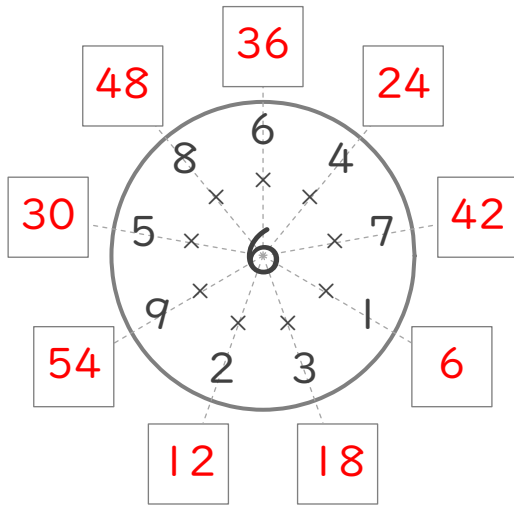
# 九九のまとめ

年 組 名前

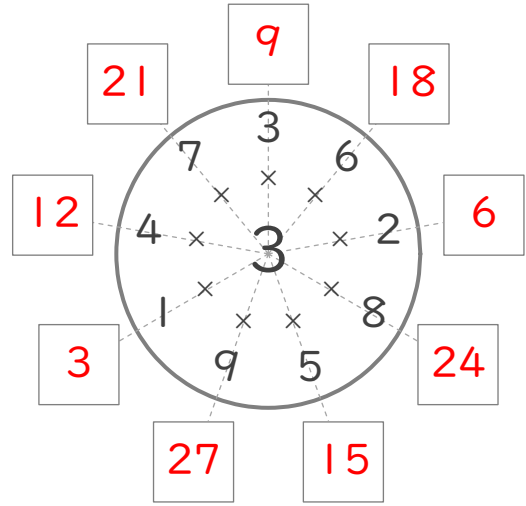
/12

■ まん中の数字とまわりの数字をかけた答えを書きましょう。

①



②



■ 9のだんに出てこない数のすべてに、丸(O)をつけましょう。

③

64	81	18	54
45	30	72	36

■ 上の数と左の数をかけて、9つのマスをそれぞれうめましょう。

④

		かける数		
		8	6	7
かけられる数	5	40	30	35
	8	64	48	56
	4	32	24	28

⑤

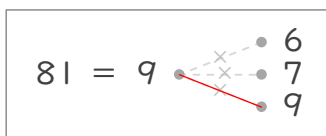
		かける数		
		9	8	7
かけられる数	1	9	8	7
	8	72	64	56
	2	18	16	14

⑥

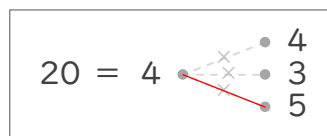
		かける数		
		9	3	2
かけられる数	3	27	9	6
	4	36	12	8
	8	72	24	16

■ 左の数になるようなかけ算のくみあわせを線でつなぎましょう。

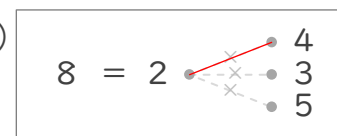
⑦



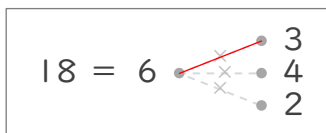
⑨



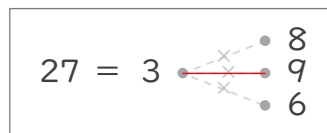
⑪



⑧



⑩



⑫

