


垂直二等分線の作図


年 組 名前

/ 2

① 2点A, Bから等距離にある直線 l 上の点Cを作図しなさい。



② 2点A, Bから等距離にある直線 l 上の点Cを作図しなさい。

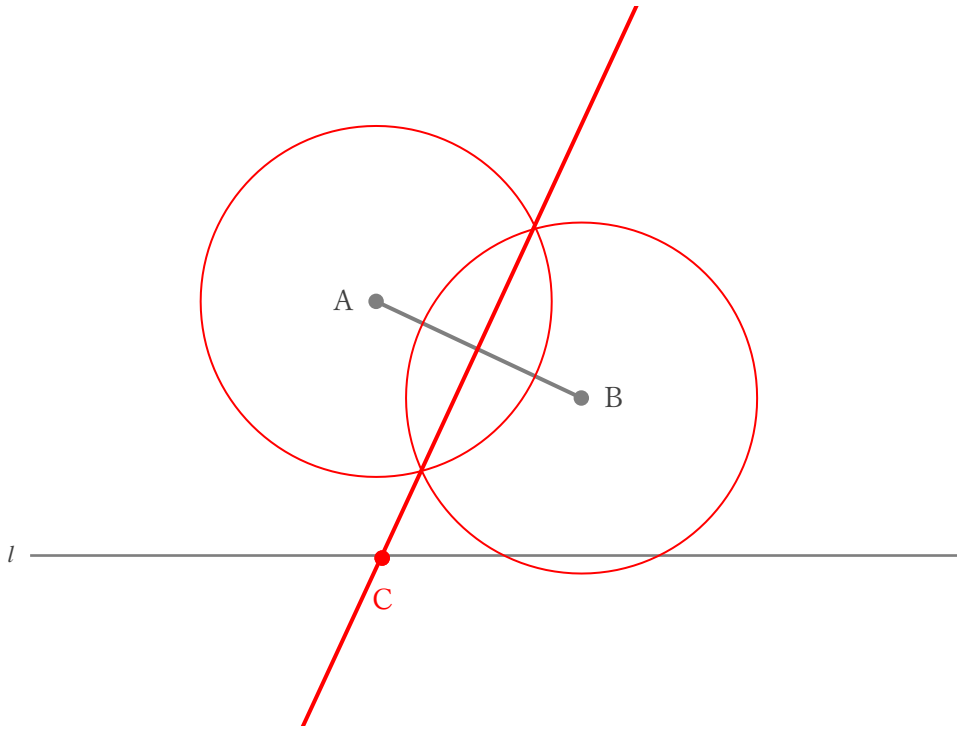


垂直二等分線の作図

年 組 名前

/ 2

① 2点A, Bから等距離にある直線 l 上の点Cを作図しなさい。



② 2点A, Bから等距離にある直線 l 上の点Cを作図しなさい。

