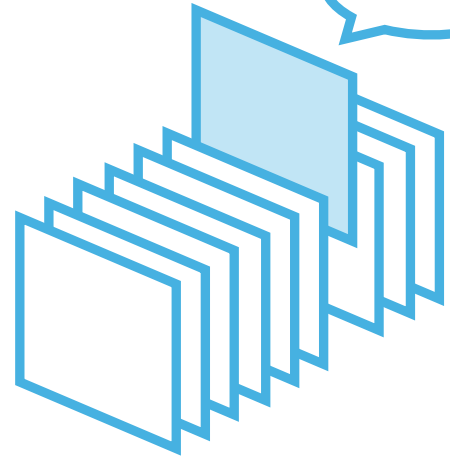


PICK UP PACKAGE

ピックアップパック

これできる？



- 2年生までに学習する内容からバランスよく収録
- 毎日(平日5日間)の自学にも最適な5枚セット
- 算数が好きな子には、1日1セットの「やり切り」もおすすめ!

小学 2 年生までの内容 -

パック

08

1まい目 - 長さの たし算 mとcm

理解

2まい目 - 正しい 九九を とおって

理解

3まい目 - 図を 見て 考えよう

理解

4まい目 - ほうがんを つかって 三角形を かこう

図形

5まい目 - 3つの 数の たし算の ひっ算

計算



■ たし算をしましょう。100cmをこえる長さはmをつかってあらわしましょう。

① $3\text{m } 90\text{cm} + 30\text{cm} =$

② $5\text{m } 70\text{cm} + 1\text{m} =$

③ $1\text{m } 10\text{cm} + 4\text{m } 20\text{cm} =$

④ $3\text{m } 80\text{cm} + 3\text{m } 80\text{cm} =$

⑤ $5\text{m } 50\text{cm} + 1\text{m } 80\text{cm} =$

⑥ $50\text{cm} + 2\text{m } 50\text{cm} =$

⑦ $1\text{m } 80\text{cm} + 3\text{m } 20\text{cm} =$

⑧ $30\text{cm} + 1\text{m } 70\text{cm} =$

⑨ $5\text{m } 10\text{cm} + 4\text{m} =$

⑩ $1\text{m } 90\text{cm} + 2\text{m } 90\text{cm} =$

⑪ $6\text{m } 20\text{cm} + 90\text{cm} =$

⑫ $2\text{m} + 7\text{m } 50\text{cm} =$

⑬ $2\text{m } 30\text{cm} + 4\text{m } 10\text{cm} =$

⑭ $3\text{m } 90\text{cm} + 2\text{m } 10\text{cm} =$

⑮ $4\text{m } 70\text{cm} + 40\text{cm} =$

⑯ $1\text{m } 70\text{cm} + 1\text{m } 70\text{cm} =$

正しい九九を通過して

年 組 名前

/ 6

■ 正しい九九だけを通過して、スタートからゴールまで行きましょう。

①

2×6= 18	5×2= 15	8×3= 25	3×4= 16	ゴール
3×5= 14	2×9= 19	4×2= 9	9×6= 53	9×9= 81
5×9= 54	5×8= 48	4×4= 17	7×8= 56	6×6= 36
7×6= 48	2×8= 24	4×8= 32	6×3= 18	7×2= 21
スタート	5×7= 35	5×5= 25	8×9= 71	7×4= 24

④

スタート	4×6= 24	7×6= 42	3×9= 27	8×2= 16
3×6= 17	3×2= 3	8×7= 49	8×6= 49	5×7= 35
8×4= 32	3×7= 21	5×9= 45	4×4= 16	7×7= 49
8×5= 40	5×6= 24	7×2= 12	5×4= 24	2×9= 20
9×9= 81	9×8= 72	4×2= 8	4×9= 36	ゴール

②

5×8= 41	9×4= 32	2×9= 9	3×3= 9	ゴール
8×8= 56	7×4= 32	6×6= 36	9×8= 72	9×5= 40
3×2= 7	9×7= 62	7×3= 21	4×4= 20	7×6= 41
3×6= 18	9×3= 27	6×8= 48	3×8= 16	2×4= 10
スタート	9×6= 63	8×2= 8	4×6= 25	2×5= 12

⑤

スタート	5×5= 30	7×8= 64	2×8= 15	7×9= 62
5×7= 35	2×4= 6	9×3= 26	9×5= 40	3×5= 16
3×2= 6	3×4= 11	5×6= 29	9×2= 19	4×9= 35
9×6= 54	4×6= 24	8×5= 40	8×8= 72	9×9= 90
4×4= 20	6×8= 47	3×6= 18	6×7= 42	ゴール

③

スタート	8×8= 64	5×4= 24	3×8= 16	7×5= 40
9×3= 18	5×2= 10	9×4= 35	8×9= 64	5×6= 25
9×2= 27	6×8= 48	4×7= 29	9×6= 45	4×4= 12
8×5= 39	3×3= 9	7×7= 49	6×7= 42	4×6= 24
6×2= 13	4×3= 16	5×3= 16	7×3= 14	ゴール

⑥

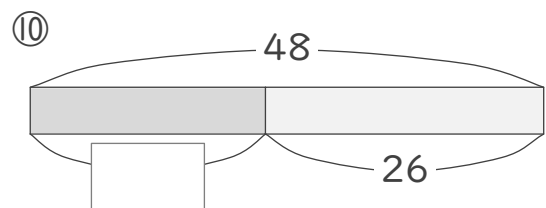
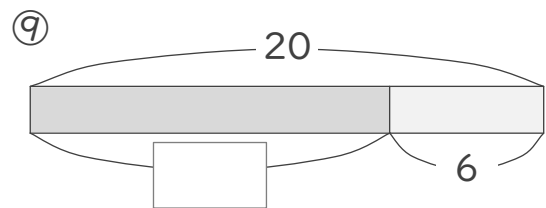
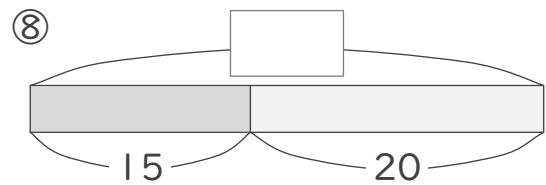
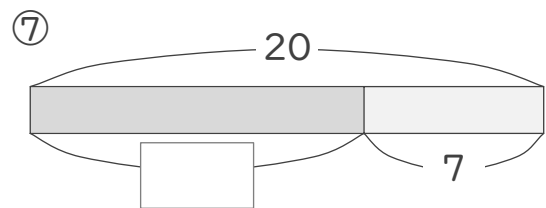
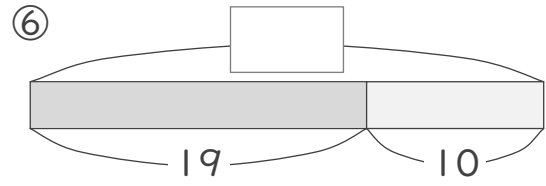
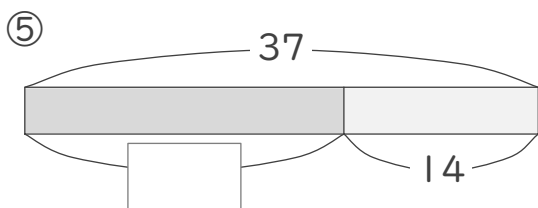
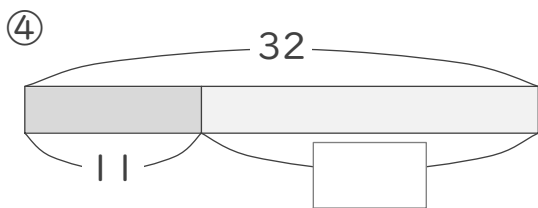
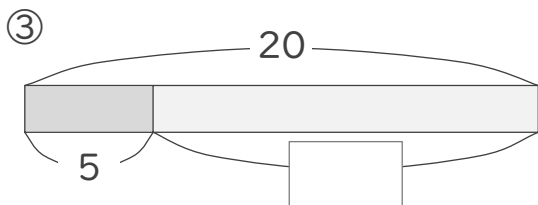
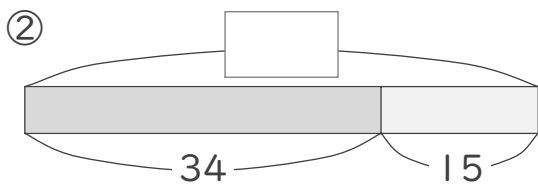
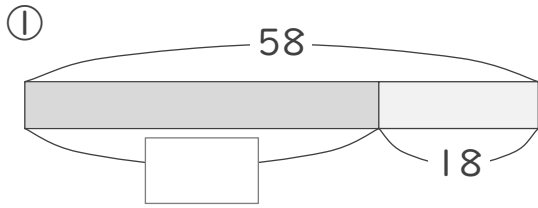
5×3= 16	7×7= 56	8×9= 72	7×4= 28	ゴール
3×4= 13	9×2= 27	6×3= 18	8×4= 31	3×8= 32
8×7= 49	2×8= 16	4×5= 20	7×2= 21	5×7= 42
4×4= 16	2×5= 10	5×6= 35	4×6= 28	9×7= 70
スタート	3×2= 5	5×5= 20	8×8= 56	9×9= 72

図を見て考えよう

____年 ____組 名前

/10

■ 図を見て、四角に入る数を考えましょう。



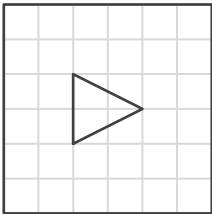
三角形

年 組 名前


/ 6

■ お手本と同じ三角形をかきましょう。

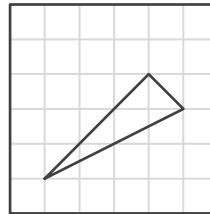
①




お手本



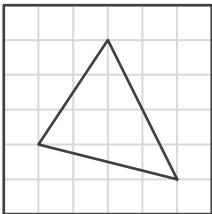
④




お手本



②




お手本



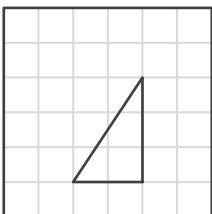
⑤




お手本



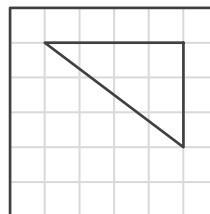
③




お手本



⑥



お手本



3つの数のたし算

年 組 名前

/16

■ たし算をしましょう。

①

	7	3
	7	9
+	2	9
<hr/>		

⑤

	8	2
	4	9
+	4	5
<hr/>		

⑨

	5	2
	5	4
+	2	1
<hr/>		

⑬

	3	0
	6	2
+	2	9
<hr/>		

②

	8	4
	6	7
+	1	9
<hr/>		

⑥

	2	0
	7	1
+	5	8
<hr/>		

⑩

	3	6
	6	4
+	9	3
<hr/>		

⑭

	8	9
	3	6
+	4	5
<hr/>		

③

	9	7
	4	2
+	4	0
<hr/>		

⑦

	9	0
	1	9
+	3	4
<hr/>		

⑪

	9	0
	6	3
+	1	5
<hr/>		

⑮

	5	8
	3	3
+	5	9
<hr/>		

④

	6	3
	3	4
+	8	8
<hr/>		

⑧

	2	7
	3	7
+	5	7
<hr/>		

⑫

	2	8
	2	3
+	3	8
<hr/>		

⑯

	2	6
	2	8
+	2	7
<hr/>		

■ たし算をしましょう。100cmをこえる長さはmをつかってあらわしましょう。

① $3\text{m } 90\text{cm} + 30\text{cm} = 4\text{m } 20\text{cm}$

② $5\text{m } 70\text{cm} + 1\text{m} = 6\text{m } 70\text{cm}$

③ $1\text{m } 10\text{cm} + 4\text{m } 20\text{cm} = 5\text{m } 30\text{cm}$

④ $3\text{m } 80\text{cm} + 3\text{m } 80\text{cm} = 7\text{m } 60\text{cm}$

⑤ $5\text{m } 50\text{cm} + 1\text{m } 80\text{cm} = 7\text{m } 30\text{cm}$

⑥ $50\text{cm} + 2\text{m } 50\text{cm} = 3\text{m}$

⑦ $1\text{m } 80\text{cm} + 3\text{m } 20\text{cm} = 5\text{m}$

⑧ $30\text{cm} + 1\text{m } 70\text{cm} = 2\text{m}$

⑨ $5\text{m } 10\text{cm} + 4\text{m} = 9\text{m } 10\text{cm}$

⑩ $1\text{m } 90\text{cm} + 2\text{m } 90\text{cm} = 4\text{m } 80\text{cm}$

⑪ $6\text{m } 20\text{cm} + 90\text{cm} = 7\text{m } 10\text{cm}$

⑫ $2\text{m} + 7\text{m } 50\text{cm} = 9\text{m } 50\text{cm}$

⑬ $2\text{m } 30\text{cm} + 4\text{m } 10\text{cm} = 6\text{m } 40\text{cm}$

⑭ $3\text{m } 90\text{cm} + 2\text{m } 10\text{cm} = 6\text{m}$

⑮ $4\text{m } 70\text{cm} + 40\text{cm} = 5\text{m } 10\text{cm}$

⑯ $1\text{m } 70\text{cm} + 1\text{m } 70\text{cm} = 3\text{m } 40\text{cm}$

正しい九九を通過して

年 組 名前

/ 6

■ 正しい九九だけを通過して、スタートからゴールまで行きましょう。

①

2×6=	5×2=	8×3=	3×4=	ゴール
18	15	25	16	
3×5=	2×9=	4×2=	9×6=	9×9=
14	19	9	53	81
5×9=	5×8=	4×4=	7×8=	6×6=
54	48	17	56	36
7×6=	2×8=	4×8=	6×3=	7×2=
48	24	32	18	21
スタート	5×7=	5×5=	8×9=	7×4=
	35	25	71	24

④

スタート	4×6=	7×6=	3×9=	8×2=
	24	42	27	16
3×6=	3×2=	8×7=	8×6=	5×7=
17	3	49	49	35
8×4=	3×7=	5×9=	4×4=	7×7=
32	21	45	16	49
8×5=	5×6=	7×2=	5×4=	2×9=
40	24	12	24	20
9×9=	9×8=	4×2=	4×9=	ゴール
81	72	8	36	

②

5×8=	9×4=	2×9=	3×3=	ゴール
41	32	9	9	
8×8=	7×4=	6×6=	9×8=	9×5=
56	32	36	72	40
3×2=	9×7=	7×3=	4×4=	7×6=
7	62	21	20	41
3×6=	9×3=	6×8=	3×8=	2×4=
18	27	48	16	10
スタート	9×6=	8×2=	4×6=	2×5=
	63	8	25	12

⑤

スタート	5×5=	7×8=	2×8=	7×9=
	30	64	15	62
5×7=	2×4=	9×3=	9×5=	3×5=
35	6	26	40	16
3×2=	3×4=	5×6=	9×2=	4×9=
6	11	29	19	35
9×6=	4×6=	8×5=	8×8=	9×9=
54	24	40	72	90
4×4=	6×8=	3×6=	6×7=	ゴール
20	47	18	42	

③

スタート	8×8=	5×4=	3×8=	7×5=
	64	24	16	40
9×3=	5×2=	9×4=	8×9=	5×6=
18	10	35	64	25
9×2=	6×8=	4×7=	9×6=	4×4=
27	48	29	45	12
8×5=	3×3=	7×7=	6×7=	4×6=
39	9	49	42	24
6×2=	4×3=	5×3=	7×3=	ゴール
13	16	16	14	

⑥

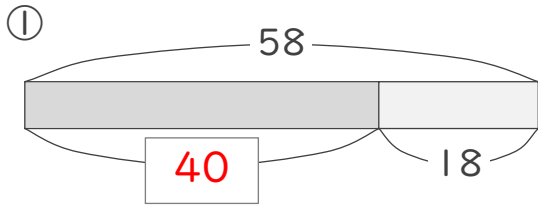
5×3=	7×7=	8×9=	7×4=	ゴール
16	56	72	28	
3×4=	9×2=	6×3=	8×4=	3×8=
13	27	18	31	32
8×7=	2×8=	4×5=	7×2=	5×7=
49	16	20	21	42
4×4=	2×5=	5×6=	4×6=	9×7=
16	10	35	28	70
スタート	3×2=	5×5=	8×8=	9×9=
	5	20	56	72

図を見て考えよう

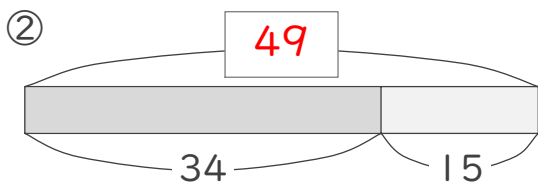
年 組 名前

/10

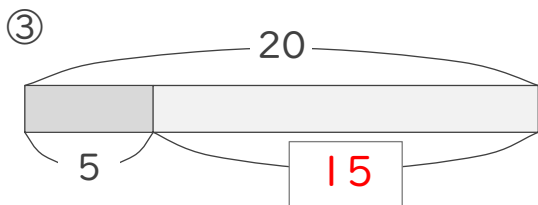
■ 図を見て、四角に入る数を考えましょう。



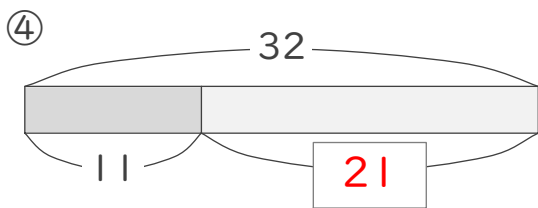
$$58 - 18 = 40$$



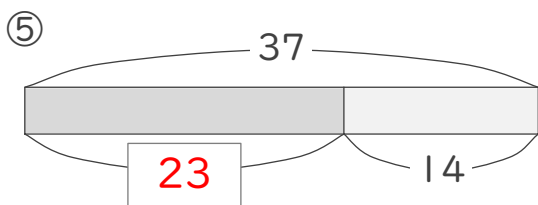
$$34 + 15 = 49$$



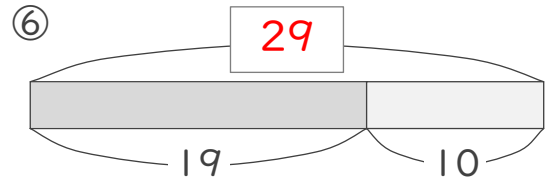
$$20 - 5 = 15$$



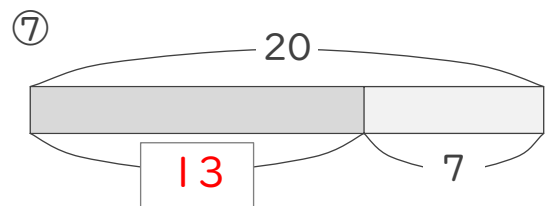
$$32 - 11 = 21$$



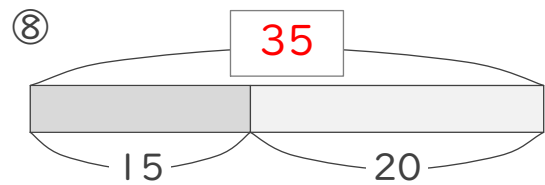
$$37 - 14 = 23$$



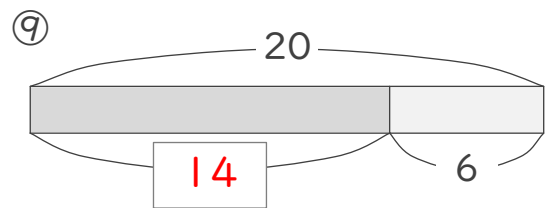
$$19 + 10 = 29$$



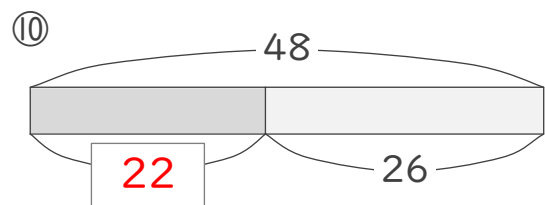
$$20 - 7 = 13$$



$$15 + 20 = 35$$



$$20 - 6 = 14$$



$$48 - 26 = 22$$

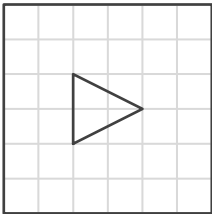
三角形

年 組 名前

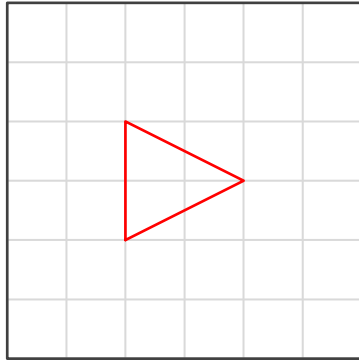
/ 6

■ お手本と同じ三角形をかきましょう。

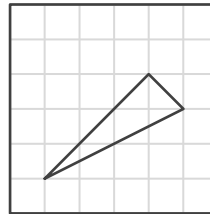
①



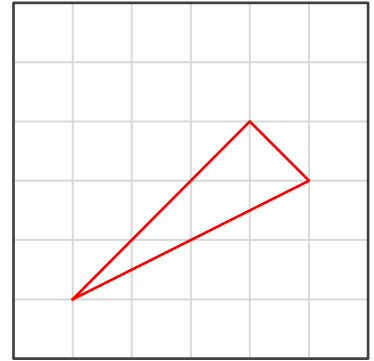
お手本



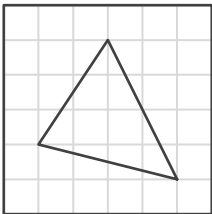
④



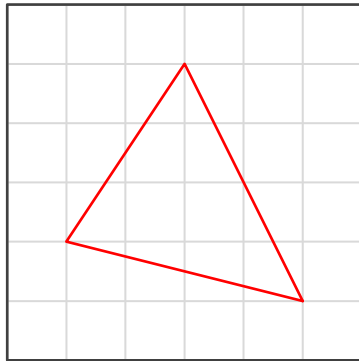
お手本



②



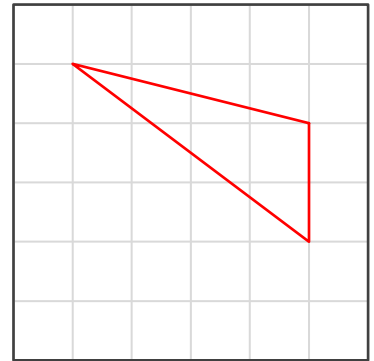
お手本



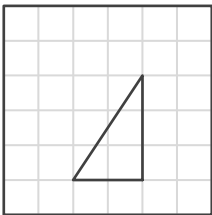
⑤



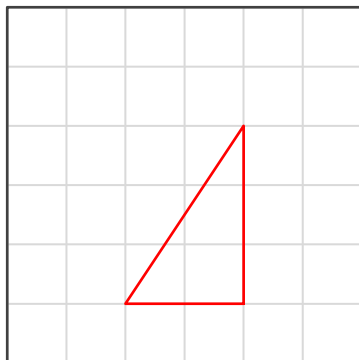
お手本



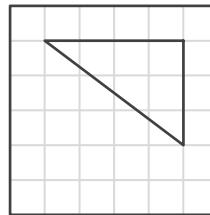
③



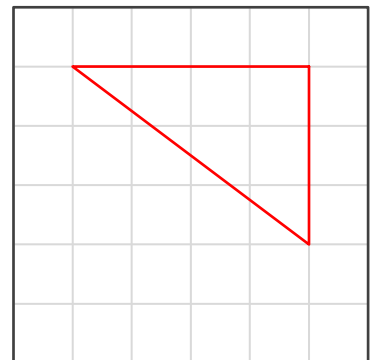
お手本



⑥



お手本



3つの数のたし算

年 組 名前

/16

■ たし算をしましょう。

①

	7	3
	7	9
+	2	9
<hr/>		
1	8	1

⑤

	8	2
	4	9
+	4	5
<hr/>		
1	7	6

⑨

	5	2
	5	4
+	2	1
<hr/>		
1	2	7

⑬

	3	0
	6	2
+	2	9
<hr/>		
1	2	1

②

	8	4
	6	7
+	1	9
<hr/>		
1	7	0

⑥

	2	0
	7	1
+	5	8
<hr/>		
1	4	9

⑩

	3	6
	6	4
+	9	3
<hr/>		
1	9	3

⑭

	8	9
	3	6
+	4	5
<hr/>		
1	7	0

③

	9	7
	4	2
+	4	0
<hr/>		
1	7	9

⑦

	9	0
	1	9
+	3	4
<hr/>		
1	4	3

⑪

	9	0
	6	3
+	1	5
<hr/>		
1	6	8

⑮

	5	8
	3	3
+	5	9
<hr/>		
1	5	0

④

	6	3
	3	4
+	8	8
<hr/>		
1	8	5

⑧

	2	7
	3	7
+	5	7
<hr/>		
1	2	1

⑫

	2	8
	2	3
+	3	8
<hr/>		
	8	9

⑯

	2	6
	2	8
+	2	7
<hr/>		
	8	1