

free

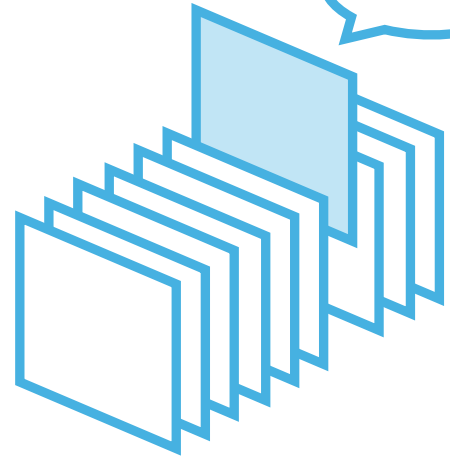
¥0

期間限定

# PICK UP PACKAGE

## ピックアップパック

これできる？



- 2年生までに学習する内容からバランスよく収録
- 毎日(平日5日間)の自学にも最適な5枚セット
- 算数が好きな子には、1日1セットの「やり切り」もおすすめ!

## 小学 2 年生までの内容 -

パック

12

1まい目 - 分数 いろいろな図を見て

理解

2まい目 - 3つの数のたし算のひっ算

計算

3まい目 - (2けた)-(2けた)のひっ算

計算

4まい目 - ひょうとグラフ

グラフ

5まい目 - cmとmmのたんいがえ

理解

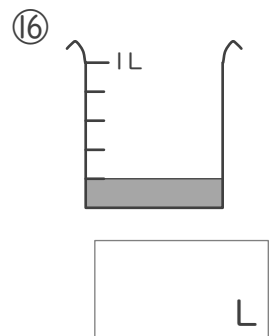
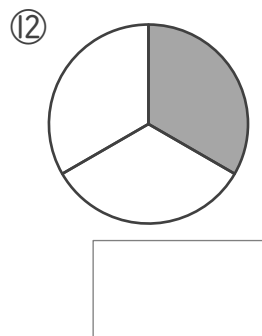
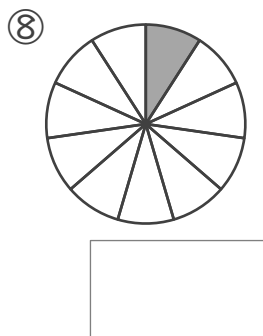
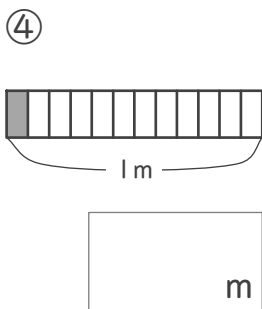
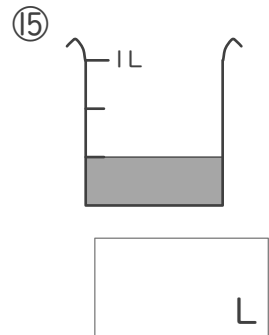
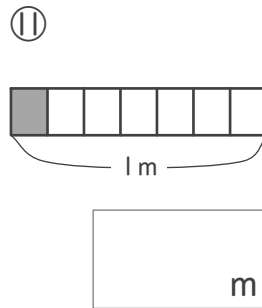
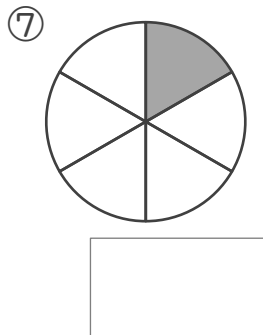
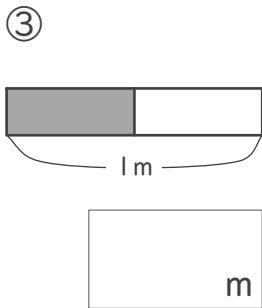
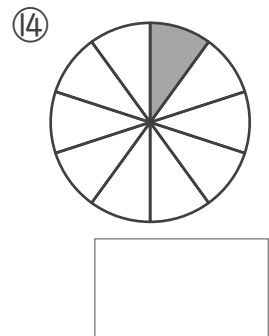
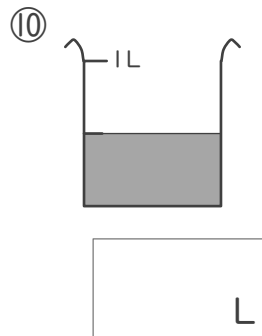
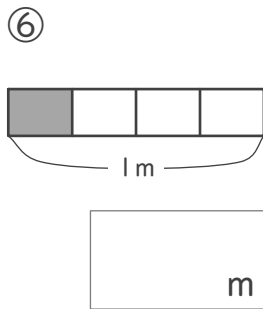
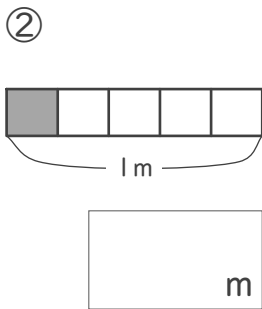
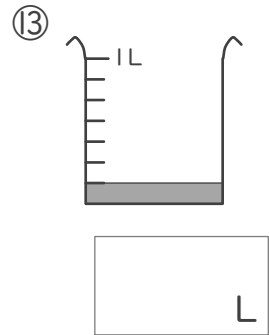
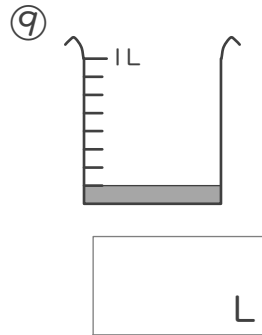
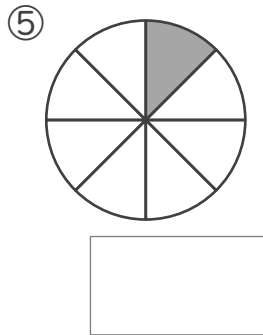
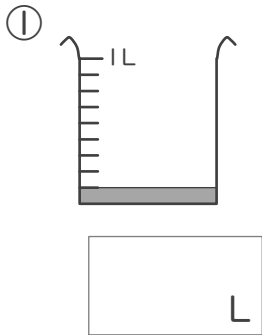


# 分数

年 組 名前

/16

■ 色がついたところの大きさや長さ、かさを分数で答えましょう。



# 3つの数のたし算

年 組 名前

/16

■ たし算をしましょう。

①

	8	0
	3	5
+	6	5
<hr/>		

⑤

	3	2
	8	0
+	5	6
<hr/>		

⑨

	9	9
	4	7
+	3	7
<hr/>		

⑬

	7	7
	7	7
+	1	3
<hr/>		

②

	1	7
	6	7
+	9	7
<hr/>		

⑥

	1	7
	2	2
+	3	7
<hr/>		

⑩

	2	7
	3	1
+	6	0
<hr/>		

⑭

	1	7
	6	7
+	5	6
<hr/>		

③

	6	8
	6	6
+	4	9
<hr/>		

⑦

	5	4
	4	2
+	8	2
<hr/>		

⑪

	4	1
	5	5
+	3	9
<hr/>		

⑮

	9	9
	3	3
+	5	9
<hr/>		

④

	7	9
	2	0
+	2	1
<hr/>		

⑧

	4	9
	1	9
+	1	6
<hr/>		

⑫

	8	4
	6	4
+	4	1
<hr/>		

⑯

	7	0
	2	9
+	7	2
<hr/>		

# ひき算のひっ算

年 組 名前

/24

■ ひき算をしましょう。

①

	4	0
-	2	4
<hr/>		

⑦

	6	7
-	3	9
<hr/>		

⑬

	5	1
-	2	7
<hr/>		

⑲

	9	9
-	6	1
<hr/>		

②

	6	5
-	5	8
<hr/>		

⑧

	8	3
-	3	6
<hr/>		

⑭

	9	2
-	8	3
<hr/>		

⑳

	8	4
-	4	5
<hr/>		

③

	8	3
-	2	1
<hr/>		

⑨

	6	2
-	4	6
<hr/>		

⑮

	9	0
-	4	5
<hr/>		

㉑

	5	2
-	2	1
<hr/>		

④

	7	1
-	4	8
<hr/>		

⑩

	9	8
-	6	9
<hr/>		

⑯

	8	5
-	7	5
<hr/>		

㉒

	7	2
-	1	4
<hr/>		

⑤

	8	6
-	2	8
<hr/>		

⑪

	4	6
-	1	0
<hr/>		

⑰

	7	4
-	5	7
<hr/>		

㉓

	8	3
-	6	5
<hr/>		

⑥

	5	8
-	1	1
<hr/>		

⑫

	9	3
-	1	4
<hr/>		

⑱

	8	2
-	1	5
<hr/>		

㉔

	9	0
-	5	9
<hr/>		



■ おなじ長さになるように、数字をあてはめましょう。

① 44mm =  cm  mm

② 9cm 1mm =  mm

③ 5cm =  mm

④ 80mm =  cm

⑤ 3cm 8mm =  mm

⑥ 12mm =  cm  mm

⑦ 6cm =  mm

⑧ 7cm 3mm =  mm

⑨ 76mm =  cm  mm

⑩ 97mm =  cm  mm

⑪ 5cm 5mm =  mm

⑫ 100mm =  cm

⑬ 51mm =  cm  mm

⑭ 30mm =  cm

⑮ 84mm =  cm  mm

⑯ 2cm =  mm

⑰ 2cm 3mm =  mm

⑱ 6cm 9mm =  mm

⑲ 68mm =  cm  mm

⑳ 26mm =  cm  mm

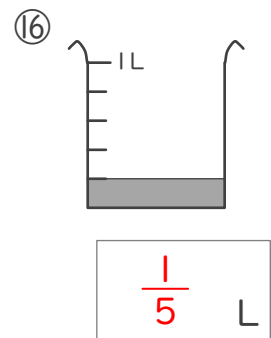
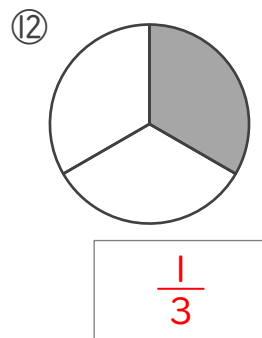
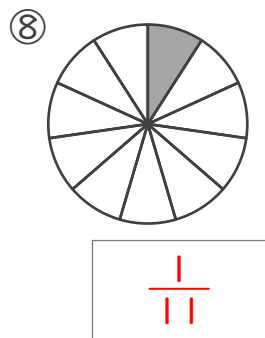
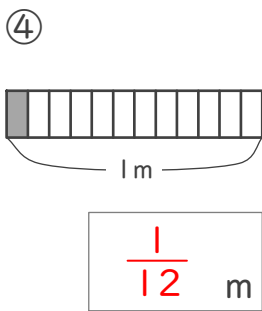
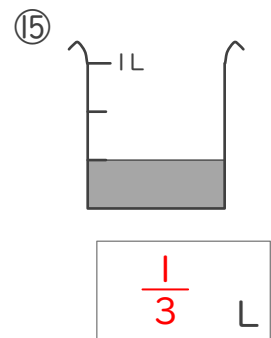
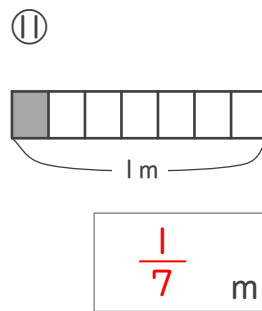
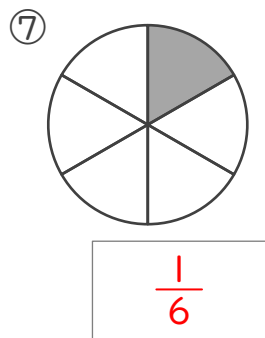
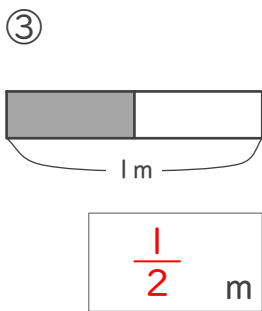
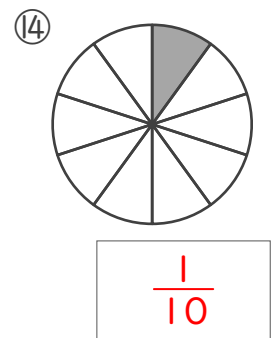
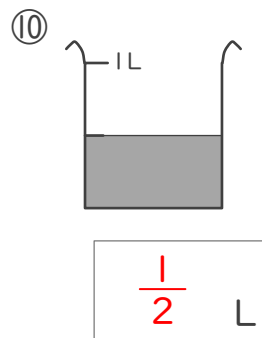
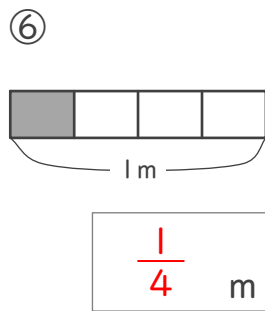
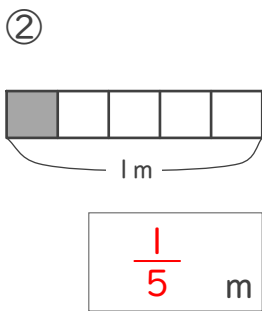
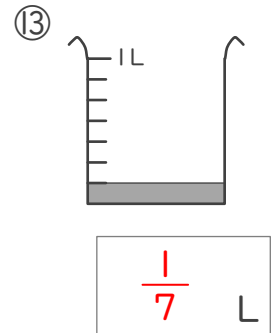
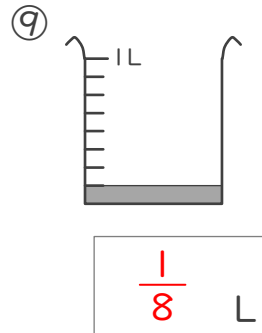
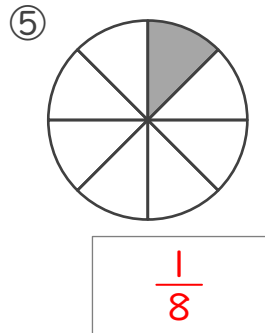
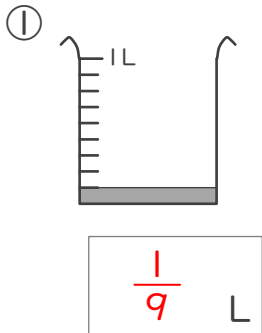
㉑ 1cm 5mm =  mm

㉒ 4cm 1mm =  mm

㉓ 9cm =  mm

㉔ 70mm =  cm

■ 色がついたところの大きさや長さ、かさを分数で答えましょう。



# 3つの数のたし算

年 組 名前

/16

■ たし算をしましょう。

①

	8	0
	3	5
+	6	5
<hr/>		
1	8	0

⑤

	3	2
	8	0
+	5	6
<hr/>		
1	6	8

⑨

	9	9
	4	7
+	3	7
<hr/>		
1	8	3

⑬

	7	7
	7	7
+	1	3
<hr/>		
1	6	7

②

	1	7
	6	7
+	9	7
<hr/>		
1	8	1

⑥

	1	7
	2	2
+	3	7
<hr/>		
	7	6

⑩

	2	7
	3	1
+	6	0
<hr/>		
1	1	8

⑭

	1	7
	6	7
+	5	6
<hr/>		
1	4	0

③

	6	8
	6	6
+	4	9
<hr/>		
1	8	3

⑦

	5	4
	4	2
+	8	2
<hr/>		
1	7	8

⑪

	4	1
	5	5
+	3	9
<hr/>		
1	3	5

⑮

	9	9
	3	3
+	5	9
<hr/>		
1	9	1

④

	7	9
	2	0
+	2	1
<hr/>		
1	2	0

⑧

	4	9
	1	9
+	1	6
<hr/>		
	8	4

⑫

	8	4
	6	4
+	4	1
<hr/>		
1	8	9

⑯

	7	0
	2	9
+	7	2
<hr/>		
1	7	1

# ひき算のひっ算

年 組 名前

/24

■ ひき算をしましょう。

①

	4	0
-	2	4
	1	6

⑦

	6	7
-	3	9
	2	8

⑬

	5	1
-	2	7
	2	4

⑲

	9	9
-	6	1
	3	8

②

	6	5
-	5	8
		7

⑧

	8	3
-	3	6
	4	7

⑭

	9	2
-	8	3
		9

⑳

	8	4
-	4	5
	3	9

③

	8	3
-	2	1
	6	2

⑨

	6	2
-	4	6
	1	6

⑮

	9	0
-	4	5
	4	5

㉑

	5	2
-	2	1
	3	1

④

	7	1
-	4	8
	2	3

⑩

	9	8
-	6	9
	2	9

⑯

	8	5
-	7	5
	1	0

㉒

	7	2
-	1	4
	5	8

⑤

	8	6
-	2	8
	5	8

⑪

	4	6
-	1	0
	3	6

⑰

	7	4
-	5	7
	1	7

㉓

	8	3
-	6	5
	1	8

⑥

	5	8
-	1	1
	4	7

⑫

	9	3
-	1	4
	7	9

⑱

	8	2
-	1	5
	6	7

㉔

	9	0
-	5	9
	3	1

# ひょうとグラフ

年 くり 名まえ

/13

■ みんなに生まれた月を かいてもらったカードがあります。

9月	8月	5月		3月	7月
10月	6月	6月	3月		5月
12月	3月	10月	4月	6月	1月
1月	2月	9月	9月	10月	3月
2月	9月	10月	2月	11月	2月
4月		9月	12月	9月	3月
3月	7月	1月	7月	1月	9月
12月	6月	8月	5月	11月	3月
12月		7月	8月	8月	1月
7月	1月	4月	1月		12月

○をつかって、下のグラフにまとめましょう。また、ひょうに人数をかきましょう。

8												
7	○		○						○			
6	○		○						○			
5	○		○				○		○			○
4	○	○	○			○	○	○	○	○		○
3	○	○	○	○	○	○	○	○	○	○		○
2	○	○	○	○	○	○	○	○	○	○	○	○
1	○	○	○	○	○	○	○	○	○	○	○	○
	1月	2月	3月	4月	5月	6月	7月	8月	9月	10月	11月	12月

生まれた月しらべ

	1月	2月	3月	4月	5月	6月	7月	8月	9月	10月	11月	12月
人数(人)	7	4	7	3	3	4	5	4	7	4	2	5

■ おなじ長さになるように、数字をあてはめましょう。

① 44mm = 4 cm 4 mm

② 9cm 1mm = 91 mm

③ 5cm = 50 mm

④ 80mm = 8 cm

⑤ 3cm 8mm = 38 mm

⑥ 12mm = 1 cm 2 mm

⑦ 6cm = 60 mm

⑧ 7cm 3mm = 73 mm

⑨ 76mm = 7 cm 6 mm

⑩ 97mm = 9 cm 7 mm

⑪ 5cm 5mm = 55 mm

⑫ 100mm = 10 cm

⑬ 51mm = 5 cm 1 mm

⑭ 30mm = 3 cm

⑮ 84mm = 8 cm 4 mm

⑯ 2cm = 20 mm

⑰ 2cm 3mm = 23 mm

⑱ 6cm 9mm = 69 mm

⑲ 68mm = 6 cm 8 mm

⑳ 26mm = 2 cm 6 mm

㉑ 1cm 5mm = 15 mm

㉒ 4cm 1mm = 41 mm

㉓ 9cm = 90 mm

㉔ 70mm = 7 cm