

free

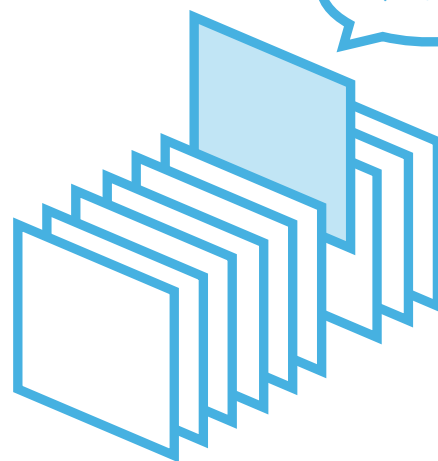
¥0

期間限定

PICK UP PACKAGE

ピックアップパック

これできる?



- 2年生までに学習する内容からバランスよく収録
- 毎日(平日5日間)の自学にも最適な5枚セット
- 算数が好きな子には、1日1セットの「やり切り」もおすすめ!

小学 2 年生までの内容 -

パック

14

1まい目 - 百をこえる数 大きい数をえらぶ

理解

2まい目 - 長さのひき算 cmとmm

理解

3まい目 - 千をこえる数 数字をえらぶ

理解

4まい目 - かさのかるた

理解

5まい目 - LとdLのたんいがえ

理解



百をこえる数

年 組 名前

/21

■ 一番大きい数に丸(まる)をつけましょう。

①

621	661
641	611

②

931	981
911	961

③

482	428
284	824

④

722	728
725	724

⑤

822	819
855	837

⑥

927	938
983	975

⑦

939	339
639	239

⑧

672	619
641	625

⑨

543	569
526	530

⑩

414	465
428	436

⑪

120	102
201	210

⑫

479	459
439	429

⑬

671	176
167	617

⑭

743	734
437	473

⑮

182	184
181	186

⑯

647	247
447	747

⑰

325	365
385	315

⑱

735	743
751	767

⑲

826	682
862	628

⑳

609	906
960	690

㉑

135	131
139	132

長さのひき算

年 組 名前

/14

■ 長さのひき算をしましょう。

① $4\text{mm} - 2\text{mm} =$ mm

② $1\text{cm} - 8\text{mm} =$ mm

③ $8\text{cm } 7\text{mm} - 1\text{cm } 1\text{mm} =$ cm mm

④ $7\text{cm } 5\text{mm} - 5\text{cm } 1\text{mm} =$ cm mm

⑤ $5\text{cm } 5\text{mm} - 2\text{cm} =$ cm mm

⑥ $8\text{cm} - 4\text{cm} =$ cm

⑦ $9\text{cm } 8\text{mm} - 7\text{cm } 4\text{mm} =$ cm mm

⑧ $4\text{cm } 3\text{mm} - 2\text{cm } 1\text{mm} =$ cm mm

⑨ $2\text{cm } 8\text{mm} - 2\text{mm} =$ cm mm

⑩ $8\text{cm } 7\text{mm} - 8\text{cm } 3\text{mm} =$ mm

⑪ $9\text{cm } 4\text{mm} - 6\text{cm } 1\text{mm} =$ cm mm

⑫ $7\text{cm } 8\text{mm} - 6\text{cm } 7\text{mm} =$ cm mm

⑬ $6\text{cm } 9\text{mm} - 1\text{cm } 9\text{mm} =$ cm

⑭ $1\text{cm} - 9\text{mm} =$ mm

1000をこえる数

年 組 名前

/14

■ 正しい数字を えらんで せんで つなぎましょう。

①

三千百四十三

3413

3411

3143

②

千百九十四

1194

1914

1191

③

千六百二

1062

1602

1012

④

六千六十

6600

6060

6610

⑤

五千四百五十六

5546

5165

5456

⑥

六千七百三十三

6733

6133

6713

⑦

七千九百四十九

7949

7419

7199

⑧

五千四百五十

5540

5450

5140

⑨

三千六百四十八

3618

3648

3468

⑩

五千四百五

5145

5045

5405

⑪

六千八十八

6818

6188

6088

⑫

六千五十

6050

6100

6500

⑬

九千百十

9110

9011

9111

⑭

三千四十三

3403

3140

3043

かさ

年 組 名前

/14

■ 正しい かが が 書かれた カードを えらんで きごう(あ~せ)で 答えましょう。

① 60mL

⑥ 3L 8dL

⑪ 1L 5dL

② 5dL 40mL

⑦ 2dL 20mL

⑫ 4dL

③ 3dL 50mL

⑧ 6dL 70mL

⑬ 5dL 10mL

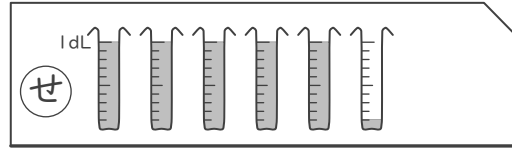
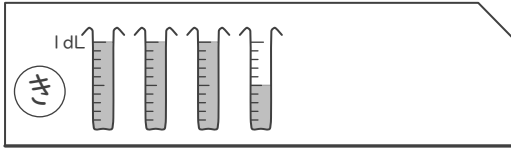
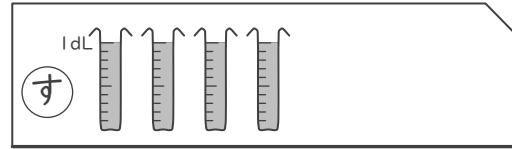
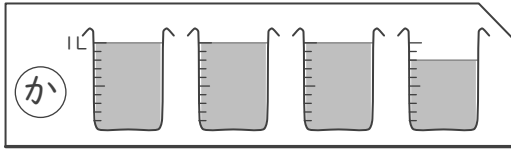
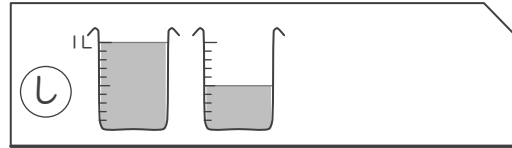
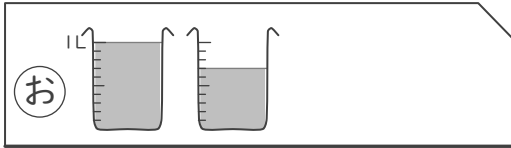
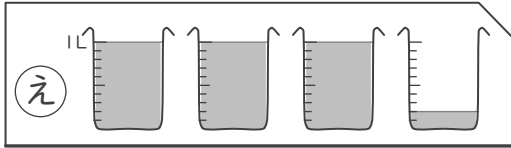
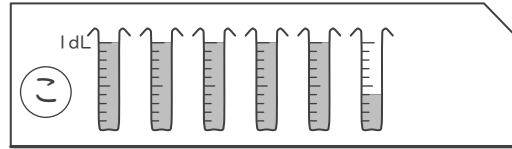
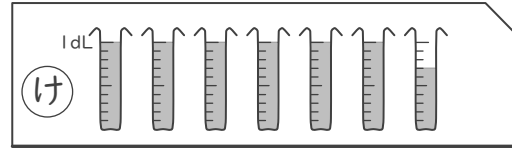
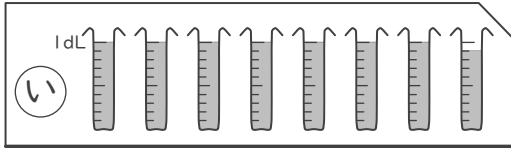
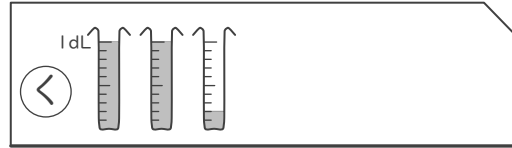
④ 7dL 90mL

⑨ 1L 7dL

⑭ 7dL

⑤ 30mL

⑩ 3L 2dL



■ おなじかきになるように、数字をあてはめましょう。

① 34dL = L dL

② 47dL = L dL

③ 9L 1dL = dL

④ 100dL = L

⑤ 8L 1dL = dL

⑥ 5L = dL

⑦ 68dL = L dL

⑧ 79dL = L dL

⑨ 40dL = L

⑩ 1L 1dL = dL

⑪ 7L 2dL = dL

⑫ 3L = dL

⑬ 5L 7dL = dL

⑭ 56dL = L dL

⑮ 84dL = L dL

⑯ 8L = dL

⑰ 2L 9dL = dL

⑱ 20dL = L

⑲ 3L 5dL = dL

⑳ 1L = dL

㉑ 97dL = L dL

㉒ 18dL = L dL

㉓ 4L 2dL = dL

㉔ 90dL = L

百をこえる数

年 組 名前

/21

■ 一番大きい数に丸(まる)をつけましょう。

①

621	661
641	611

②

931	981
911	961

③

482	428
284	824

④

722	728
725	724

⑤

822	819
855	837

⑥

927	938
983	975

⑦

939	339
639	239

⑧

672	619
641	625

⑨

543	569
526	530

⑩

414	465
428	436

⑪

120	102
201	210

⑫

479	459
439	429

⑬

671	176
167	617

⑭

743	734
437	473

⑮

182	184
181	186

⑯

647	247
447	747

⑰

325	365
885	315

⑱

735	743
751	767

⑲

826	682
862	628

⑳

609	906
960	690

㉑

135	131
139	132

長さのひき算

年 組 名前

/14

■ 長さのひき算をしましょう。

① $4\text{mm} - 2\text{mm} =$ mm

② $1\text{cm} - 8\text{mm} =$ mm

③ $8\text{cm } 7\text{mm} - 1\text{cm } 1\text{mm} =$ cm mm

④ $7\text{cm } 5\text{mm} - 5\text{cm } 1\text{mm} =$ cm mm

⑤ $5\text{cm } 5\text{mm} - 2\text{cm} =$ cm mm

⑥ $8\text{cm} - 4\text{cm} =$ cm

⑦ $9\text{cm } 8\text{mm} - 7\text{cm } 4\text{mm} =$ cm mm

⑧ $4\text{cm } 3\text{mm} - 2\text{cm } 1\text{mm} =$ cm mm

⑨ $2\text{cm } 8\text{mm} - 2\text{mm} =$ cm mm

⑩ $8\text{cm } 7\text{mm} - 8\text{cm } 3\text{mm} =$ mm

⑪ $9\text{cm } 4\text{mm} - 6\text{cm } 1\text{mm} =$ cm mm

⑫ $7\text{cm } 8\text{mm} - 6\text{cm } 7\text{mm} =$ cm mm

⑬ $6\text{cm } 9\text{mm} - 1\text{cm } 9\text{mm} =$ cm

⑭ $1\text{cm} - 9\text{mm} =$ mm

1000をこえる数

年 組 名前

/14

■ 正しい数字をえらんで せんで つなぎましょう。

① 三千百四十三

3413 3411 3143

② 千百九十四

1194 1914 1191

③ 千六百二

1062 1602 1012

④ 六千六十

6600 6060 6610

⑤ 五千四百五十六

5546 5165 5456

⑥ 六千七百三十三

6733 6133 6713

⑦ 七千九百四十九

7949 7419 7199

⑧ 五千四百五十

5540 5450 5140

⑨ 三千六百四十八

3618 3648 3468

⑩ 五千四百五

5145 5045 5405

⑪ 六千八十八

6818 6188 6088

⑫ 六千五十

6050 6100 6500

⑬ 九千百十

9110 9011 9111

⑭ 三千四十三

3403 3140 3043

■ 正しい かが が 書かれた カードを えらんで きごう(あ~せ)で 答えましょう。

① 60mL

う

⑥ 3L 8dL

か

⑪ 1L 5dL

し

② 5dL 40mL

こ

⑦ 2dL 20mL

く

⑫ 4dL

す

③ 3dL 50mL

き

⑧ 6dL 70mL

け

⑬ 5dL 10mL

せ

④ 7dL 90mL

い

⑨ 1L 7dL

お

⑭ 7dL

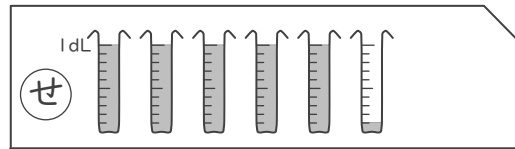
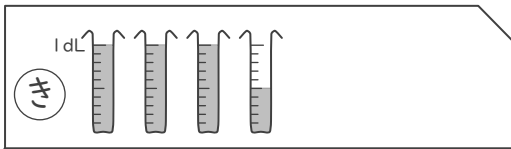
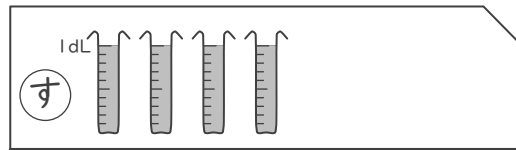
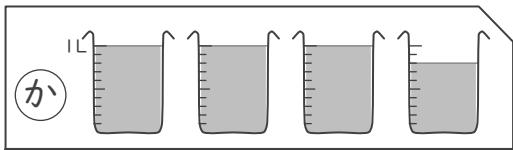
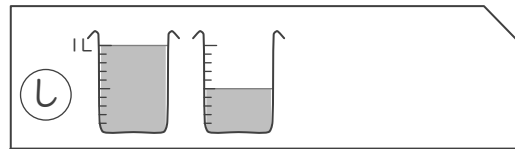
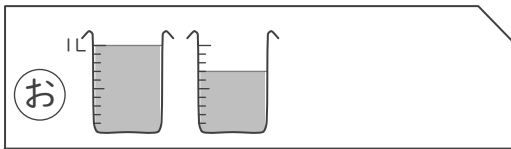
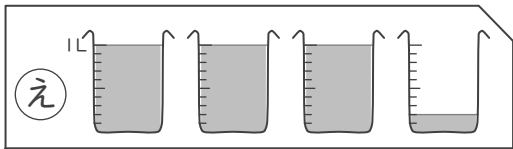
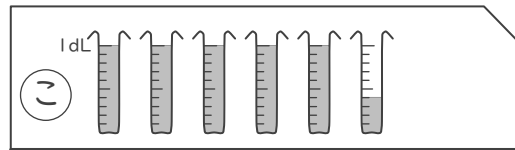
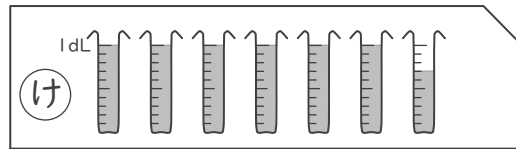
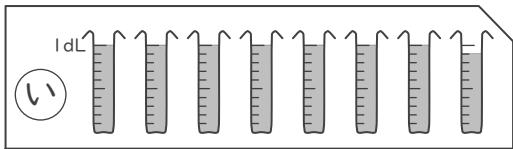
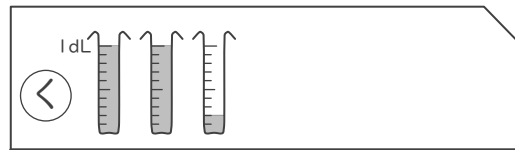
さ

⑤ 30mL

あ

⑩ 3L 2dL

え



■ おなじかきになるように、数字をあてはめましょう。

① 34dL = L dL

② 47dL = L dL

③ 9L 1dL = dL

④ 100dL = L

⑤ 8L 1dL = dL

⑥ 5L = dL

⑦ 68dL = L dL

⑧ 79dL = L dL

⑨ 40dL = L

⑩ 1L 1dL = dL

⑪ 7L 2dL = dL

⑫ 3L = dL

⑬ 5L 7dL = dL

⑭ 56dL = L dL

⑮ 84dL = L dL

⑯ 8L = dL

⑰ 2L 9dL = dL

⑱ 20dL = L

⑲ 3L 5dL = dL

⑳ 1L = dL

㉑ 97dL = L dL

㉒ 18dL = L dL

㉓ 4L 2dL = dL

㉔ 90dL = L