

free

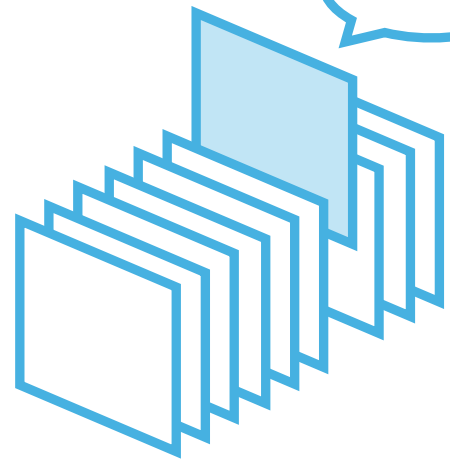
¥0

期間限定

PICK UP PACKAGE

ピックアップパック

これできる?



- 2年生までに学習する内容からバランスよく収録
- 毎日(平日5日間)の自学にも最適な5枚セット
- 算数が好きな子には、1日1セットの「やり切り」もおすすめ!

小学 2 年生までの内容 -

パック

18

1まい目 - 大きい数のひき算のひっ算

計算

2まい目 - かさのひき算

理解

3まい目 - (2けた)+(2けた)のひっ算

計算

4まい目 - かさをLとdLであらわす

理解

5まい目 - 30分前・30分後・1時間前・1時間後

理解



大きい数のひき算

年 組 名前

/24

■ ひき算をしましょう。

①

$$\begin{array}{r} 168 \\ - 49 \\ \hline \end{array}$$

②

$$\begin{array}{r} 339 \\ - 35 \\ \hline \end{array}$$

③

$$\begin{array}{r} 751 \\ - 39 \\ \hline \end{array}$$

④

$$\begin{array}{r} 830 \\ - 15 \\ \hline \end{array}$$

⑤

$$\begin{array}{r} 347 \\ - 38 \\ \hline \end{array}$$

⑥

$$\begin{array}{r} 672 \\ - 54 \\ \hline \end{array}$$

⑦

$$\begin{array}{r} 760 \\ - 27 \\ \hline \end{array}$$

⑧

$$\begin{array}{r} 853 \\ - 14 \\ \hline \end{array}$$

⑨

$$\begin{array}{r} 232 \\ - 9 \\ \hline \end{array}$$

⑩

$$\begin{array}{r} 485 \\ - 68 \\ \hline \end{array}$$

⑪

$$\begin{array}{r} 294 \\ - 27 \\ \hline \end{array}$$

⑫

$$\begin{array}{r} 474 \\ - 19 \\ \hline \end{array}$$

⑬

$$\begin{array}{r} 541 \\ - 28 \\ \hline \end{array}$$

⑭

$$\begin{array}{r} 898 \\ - 38 \\ \hline \end{array}$$

⑮

$$\begin{array}{r} 525 \\ - 6 \\ \hline \end{array}$$

⑯

$$\begin{array}{r} 696 \\ - 57 \\ \hline \end{array}$$

⑰

$$\begin{array}{r} 679 \\ - 20 \\ \hline \end{array}$$

⑱

$$\begin{array}{r} 457 \\ - 11 \\ \hline \end{array}$$

⑲

$$\begin{array}{r} 188 \\ - 63 \\ \hline \end{array}$$

⑳

$$\begin{array}{r} 280 \\ - 16 \\ \hline \end{array}$$

㉑

$$\begin{array}{r} 791 \\ - 15 \\ \hline \end{array}$$

㉒

$$\begin{array}{r} 331 \\ - 27 \\ \hline \end{array}$$

㉓

$$\begin{array}{r} 594 \\ - 38 \\ \hline \end{array}$$

㉔

$$\begin{array}{r} 146 \\ - 22 \\ \hline \end{array}$$

かさのひき算

年 組 名前

/14

■ かさのひき算をしましょう。

① $8\text{L } 4\text{dL} - 4\text{L } 4\text{dL} =$

② $7\text{L } 5\text{dL} - 9\text{dL} =$

③ $8\text{L } 7\text{dL} - 6\text{L } 5\text{dL} =$

④ $4\text{L} - 3\text{L } 9\text{dL} =$

⑤ $1\text{L } 1\text{dL} - 3\text{dL} =$

⑥ $7\text{L } 6\text{dL} - 4\text{L } 8\text{dL} =$

⑦ $7\text{L } 1\text{dL} - 5\text{L} =$

⑧ $8\text{L } 6\text{dL} - 7\text{L } 9\text{dL} =$

⑨ $4\text{L} - 1\text{L } 7\text{dL} =$

⑩ $1\text{L } 4\text{dL} - 7\text{dL} =$

⑪ $7\text{L} - 3\text{L } 2\text{dL} =$

⑫ $6\text{L } 3\text{dL} - 3\text{L } 4\text{dL} =$

⑬ $8\text{L } 5\text{dL} - 3\text{L } 8\text{dL} =$

⑭ $9\text{dL} - 4\text{dL} =$

たし算のひっ算

年 組 名前

/24

■ たし算をしましょう。

①

	8	3
+	1	9
<hr/>		

⑦

	8	9
+	2	6
<hr/>		

⑬

	7	7
+	8	7
<hr/>		

⑲

	4	0
+	2	2
<hr/>		

②

	9	8
+	4	7
<hr/>		

⑧

	7	4
+	3	3
<hr/>		

⑭

	3	5
+	9	6
<hr/>		

⑳

	6	2
+	6	9
<hr/>		

③

	9	9
+	1	5
<hr/>		

⑨

	5	8
+	5	3
<hr/>		

⑮

	1	9
+	2	9
<hr/>		

㉑

	5	4
+	7	4
<hr/>		

④

	2	6
+	9	4
<hr/>		

⑩

	4	5
+	4	5
<hr/>		

⑯

	6	8
+	5	6
<hr/>		

㉒

	5	8
+	3	4
<hr/>		

⑤

	5	9
+	8	8
<hr/>		

⑪

	7	6
+	6	3
<hr/>		

⑰

	7	7
+	7	6
<hr/>		

㉓

	8	2
+	9	4
<hr/>		

⑥

	1	4
+	3	7
<hr/>		

⑫

	7	8
+	4	5
<hr/>		

⑱

	8	8
+	8	8
<hr/>		

㉔

	8	2
+	6	6
<hr/>		

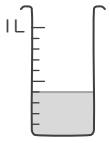
L と dL

年 組 名前

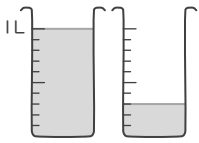
/15

■ かさを L や dL をつかってあらわしましょう。

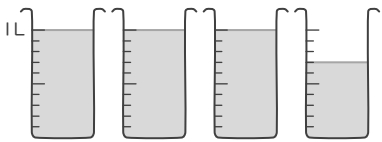
①



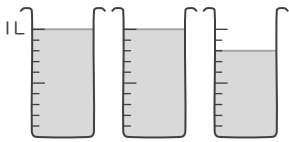
②



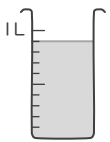
③



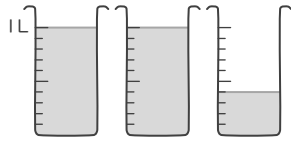
④



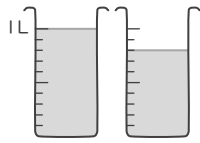
⑤



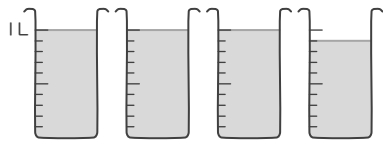
⑥



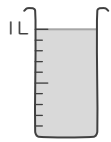
⑦



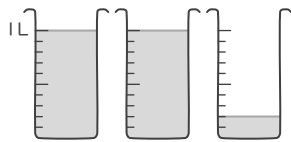
⑧



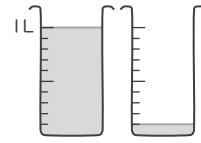
⑨



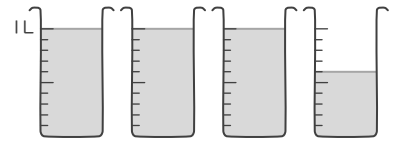
⑩



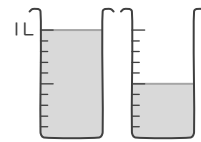
⑪



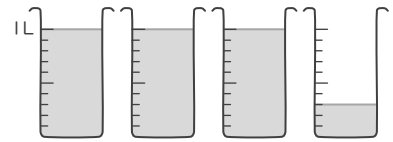
⑫



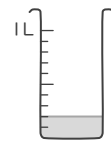
⑬



⑭



⑮



時こくと時間

年 組 名前

/12

■ つぎの時こくを 答えましょう。

① 10時55分の1時間後(あと)



時 分

② 5時20分の1時間前(まえ)



時 分

③ 9時50分の30分後(あと)



時 分

④ 8時10分の30分前(まえ)



時 分

⑤ 2時40分の30分前(まえ)



時 分

⑥ 3時15分の1時間後(あと)



時 分

⑦ 8時45分の30分後(あと)



時 分

⑧ 6時25分の1時間前(まえ)



時 分

⑨ 7時5分の30分前(まえ)




時 分

⑩ 1時5分の1時間後(あと)




時 分

⑪ 10時55分の30分後(あと)



時 分

⑫ 9時45分の1時間前(まえ)



時 分

大きい数のひき算

年 組 名前

/24

■ ひき算をしましょう。

①

$$\begin{array}{r} 168 \\ - \quad 49 \\ \hline 119 \end{array}$$

⑦

$$\begin{array}{r} 760 \\ - \quad 27 \\ \hline 733 \end{array}$$

⑬

$$\begin{array}{r} 541 \\ - \quad 28 \\ \hline 513 \end{array}$$

⑲

$$\begin{array}{r} 188 \\ - \quad 63 \\ \hline 125 \end{array}$$

②

$$\begin{array}{r} 339 \\ - \quad 35 \\ \hline 304 \end{array}$$

⑧

$$\begin{array}{r} 853 \\ - \quad 14 \\ \hline 839 \end{array}$$

⑭

$$\begin{array}{r} 898 \\ - \quad 38 \\ \hline 860 \end{array}$$

⑳

$$\begin{array}{r} 280 \\ - \quad 16 \\ \hline 264 \end{array}$$

③

$$\begin{array}{r} 751 \\ - \quad 39 \\ \hline 712 \end{array}$$

⑨

$$\begin{array}{r} 232 \\ - \quad \quad 9 \\ \hline 223 \end{array}$$

⑮

$$\begin{array}{r} 525 \\ - \quad \quad 6 \\ \hline 519 \end{array}$$

㉑

$$\begin{array}{r} 791 \\ - \quad 15 \\ \hline 776 \end{array}$$

④

$$\begin{array}{r} 830 \\ - \quad 15 \\ \hline 815 \end{array}$$

⑩

$$\begin{array}{r} 485 \\ - \quad 68 \\ \hline 417 \end{array}$$

⑯

$$\begin{array}{r} 696 \\ - \quad 57 \\ \hline 639 \end{array}$$

㉒

$$\begin{array}{r} 331 \\ - \quad 27 \\ \hline 304 \end{array}$$

⑤

$$\begin{array}{r} 347 \\ - \quad 38 \\ \hline 309 \end{array}$$

⑪

$$\begin{array}{r} 294 \\ - \quad 27 \\ \hline 267 \end{array}$$

⑰

$$\begin{array}{r} 679 \\ - \quad 20 \\ \hline 659 \end{array}$$

㉓

$$\begin{array}{r} 594 \\ - \quad 38 \\ \hline 556 \end{array}$$

⑥

$$\begin{array}{r} 672 \\ - \quad 54 \\ \hline 618 \end{array}$$

⑫

$$\begin{array}{r} 474 \\ - \quad 19 \\ \hline 455 \end{array}$$

⑱

$$\begin{array}{r} 457 \\ - \quad 11 \\ \hline 446 \end{array}$$

㉔

$$\begin{array}{r} 146 \\ - \quad 22 \\ \hline 124 \end{array}$$

かさのひき算

年 組 名前

/14

■ かさのひき算をしましょう。

① $8\text{L } 4\text{dL} - 4\text{L } 4\text{dL} =$

② $7\text{L } 5\text{dL} - 9\text{dL} =$

③ $8\text{L } 7\text{dL} - 6\text{L } 5\text{dL} =$

④ $4\text{L} - 3\text{L } 9\text{dL} =$

⑤ $1\text{L } 1\text{dL} - 3\text{dL} =$

⑥ $7\text{L } 6\text{dL} - 4\text{L } 8\text{dL} =$

⑦ $7\text{L } 1\text{dL} - 5\text{L} =$

⑧ $8\text{L } 6\text{dL} - 7\text{L } 9\text{dL} =$

⑨ $4\text{L} - 1\text{L } 7\text{dL} =$

⑩ $1\text{L } 4\text{dL} - 7\text{dL} =$

⑪ $7\text{L} - 3\text{L } 2\text{dL} =$

⑫ $6\text{L } 3\text{dL} - 3\text{L } 4\text{dL} =$

⑬ $8\text{L } 5\text{dL} - 3\text{L } 8\text{dL} =$

⑭ $9\text{dL} - 4\text{dL} =$

たし算のひっ算

年 組 名前

/24

■ たし算をしましょう。

①

	8	3
+	1	9
<hr/>		
1	0	2

⑦

	8	9
+	2	6
<hr/>		
1	1	5

⑬

	7	7
+	8	7
<hr/>		
1	6	4

⑲

	4	0
+	2	2
<hr/>		
	6	2

②

	9	8
+	4	7
<hr/>		
1	4	5

⑧

	7	4
+	3	3
<hr/>		
1	0	7

⑭

	3	5
+	9	6
<hr/>		
1	3	1

⑳

	6	2
+	6	9
<hr/>		
1	3	1

③

	9	9
+	1	5
<hr/>		
1	1	4

⑨

	5	8
+	5	3
<hr/>		
1	1	1

⑮

	1	9
+	2	9
<hr/>		
	4	8

㉑

	5	4
+	7	4
<hr/>		
1	2	8

④

	2	6
+	9	4
<hr/>		
1	2	0

⑩

	4	5
+	4	5
<hr/>		
	9	0

⑯

	6	8
+	5	6
<hr/>		
1	2	4

㉒

	5	8
+	3	4
<hr/>		
	9	2

⑤

	5	9
+	8	8
<hr/>		
1	4	7

⑪

	7	6
+	6	3
<hr/>		
1	3	9

⑰

	7	7
+	7	6
<hr/>		
1	5	3

㉓

	8	2
+	9	4
<hr/>		
1	7	6

⑥

	1	4
+	3	7
<hr/>		
	5	1

⑫

	7	8
+	4	5
<hr/>		
1	2	3

⑱

	8	8
+	8	8
<hr/>		
1	7	6

㉔

	8	2
+	6	6
<hr/>		
1	4	8

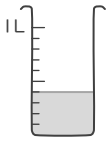
L と dL

年 組 名前

/15

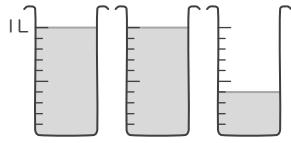
■ かさを L や dL をつかってあらわしましょう。

①



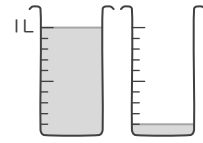
4dL

⑥



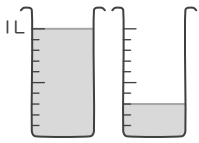
2L 4dL

⑪



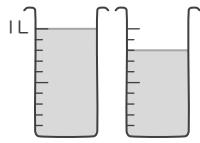
1L 1dL

②



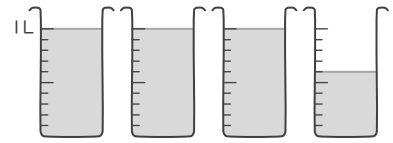
1L 3dL

⑦



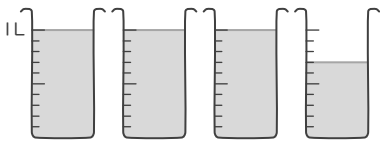
1L 8dL

⑫



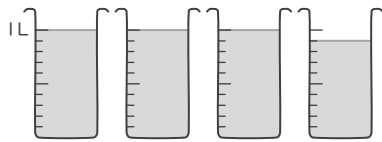
3L 6dL

③



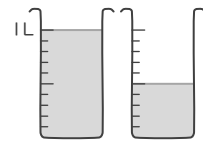
3L 7dL

⑧



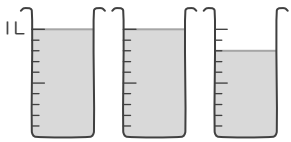
3L 9dL

⑬



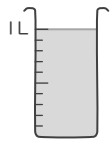
1L 5dL

④



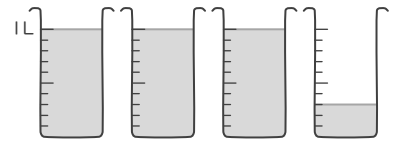
2L 8dL

⑨



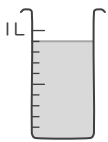
1L

⑭



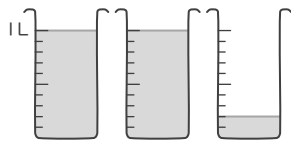
3L 3dL

⑤



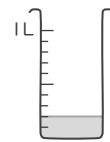
9dL

⑩



2L 2dL

⑮



2dL

時こくと時間

年 組 名前

/12

■ つぎの時こくを 答えましょう。

① 10時55分の1時間後(あと)



11 時 55 分

② 5時20分の1時間前(まえ)



4 時 20 分

③ 9時50分の30分後(あと)



10 時 20 分

④ 8時10分の30分前(まえ)



7 時 40 分

⑤ 2時40分の30分前(まえ)




2 時 10 分

⑥ 3時15分の1時間後(あと)




4 時 15 分

⑦ 8時45分の30分後(あと)



9 時 15 分

⑧ 6時25分の1時間前(まえ)



5 時 25 分

⑨ 7時5分の30分前(まえ)




6 時 35 分

⑩ 1時5分の1時間後(あと)




2 時 5 分

⑪ 10時55分の30分後(あと)



11 時 25 分

⑫ 9時45分の1時間前(まえ)



8 時 45 分