

free

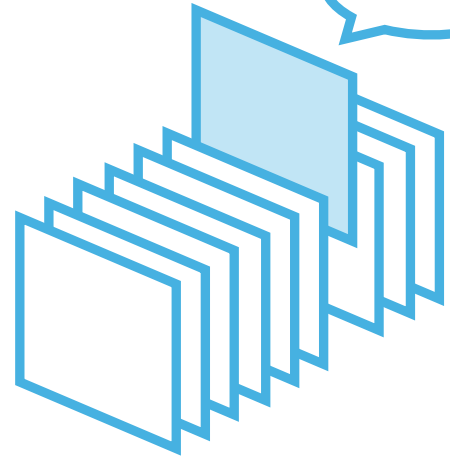
¥0

期間限定

# PICK UP PACKAGE

## ピックアップパック

これできる？



- 2年生までに学習する内容からバランスよく収録
- 毎日(平日5日間)の自学にも最適な5枚セット
- 算数が好きな子には、1日1セットの「やり切り」もおすすめ!

## 小学 2 年生までの内容 -

パック

22

1まい目 - ぼうがんをつかって 三角形をかこう

図形

2まい目 - 百をこえる数 大きい数をえらぶ

理解

3まい目 - 正しい九九をとおって

理解

4まい目 - ぼうがんをつかって 四角形をかこう

図形

5まい目 - ものさしと長さ

理解



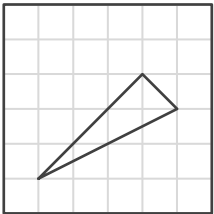
# 三角形

年 組 名前


/ 6

■ お手本と同じ三角形をかきましょう。

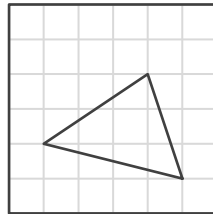
①




お手本



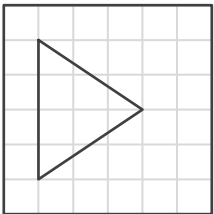
④




お手本



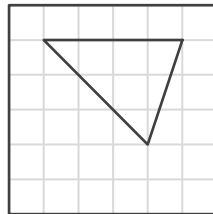
②




お手本



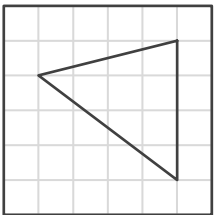
⑤




お手本



③




お手本



⑥



お手本



# 百をこえる数

年 組 名前

/21

■ 一番大きい数に丸(まる)をつけましょう。

①

141	145
140	147

②

497	947
794	749

③

213	813
513	613

④

785	587
758	578

⑤

460	467
468	466

⑥

249	429
294	492

⑦

712	711
715	718

⑧

375	351
332	328

⑨

918	912
915	913

⑩

724	427
472	742

⑪

507	517
587	537

⑫

795	773
732	781

⑬

178	140
192	133

⑭

407	470
704	740

⑮

544	564
584	534

⑯

337	357
307	327

⑰

430	403
304	340

⑱

974	964
944	994

⑲

725	527
752	572

⑳

638	691
622	683

㉑

438	384
834	483

# 正しい九九を通過して

年 組 名前

/ 6

■ 正しい九九だけを通過して、スタートからゴールまで行きましょう。

①

スタート	7×5= 36	6×5= 30	3×3= 9	3×4= 12
2×4= 8	6×3= 19	2×9= 18	7×7= 48	9×3= 27
9×4= 36	7×8= 55	6×2= 12	5×5= 20	7×4= 28
6×6= 36	4×6= 24	5×3= 15	6×9= 45	7×3= 21
2×8= 14	3×2= 5	9×7= 62	4×5= 15	ゴール

④

9×5= 44	2×9= 18	7×3= 21	4×7= 28	ゴール
4×3= 8	9×9= 81	3×6= 17	5×5= 30	4×9= 37
2×6= 13	8×5= 40	9×8= 72	6×9= 54	6×7= 42
8×2= 15	6×6= 37	5×3= 20	8×4= 31	6×4= 24
スタート	2×4= 8	8×3= 24	4×4= 16	8×8= 64

②

4×4= 16	7×7= 49	6×6= 36	8×9= 64	ゴール
6×2= 12	7×6= 36	3×9= 27	4×2= 10	5×5= 25
7×8= 56	7×3= 18	3×3= 9	4×9= 35	9×7= 63
8×8= 64	3×5= 12	7×5= 35	2×7= 13	4×8= 32
スタート	6×4= 30	3×8= 24	8×2= 16	6×3= 18

⑤

7×6= 48	4×3= 13	7×8= 63	3×7= 22	ゴール
8×2= 18	5×4= 19	2×4= 6	2×5= 9	5×6= 30
7×4= 24	3×2= 4	9×7= 62	4×4= 15	6×2= 12
8×6= 49	2×7= 13	9×9= 82	8×8= 64	6×3= 18
スタート	5×5= 25	6×4= 24	9×6= 54	9×4= 35

③

スタート	5×6= 30	4×3= 11	8×8= 72	2×6= 18
4×5= 15	3×9= 27	8×6= 49	4×7= 29	9×6= 55
5×2= 12	4×4= 16	6×7= 42	2×7= 14	2×9= 16
4×2= 9	5×5= 24	6×4= 25	8×9= 72	8×4= 32
8×2= 14	6×6= 30	8×3= 27	3×7= 18	ゴール

⑥

スタート	9×3= 18	8×7= 57	8×8= 65	7×5= 28
2×6= 12	4×4= 16	8×6= 48	4×6= 24	4×8= 31
7×4= 27	8×3= 25	5×4= 16	6×5= 30	8×5= 32
6×6= 30	9×9= 80	8×2= 14	7×6= 42	7×3= 14
7×7= 48	2×5= 8	5×9= 40	3×4= 12	ゴール

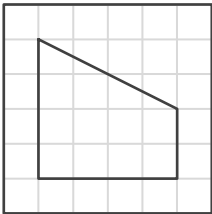
# 四角形

年 組 名前


/ 6

■ お手本と同じ四角形をかきましょう。

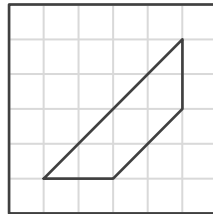
①




お手本



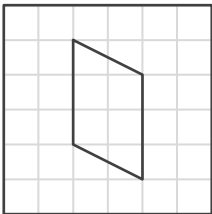
④




お手本



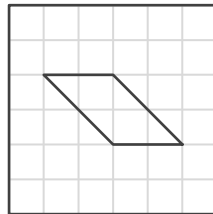
②




お手本



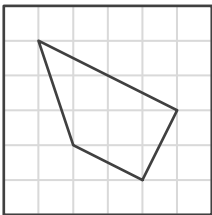
⑤




お手本



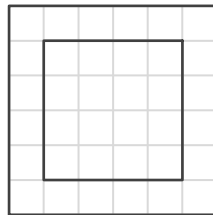
③




お手本



⑥



お手本



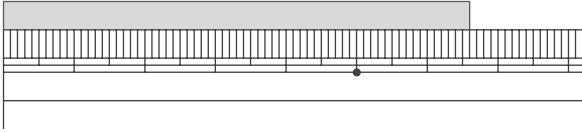
# 長さはどれくらい

\_\_\_\_年 \_\_\_\_組 名前

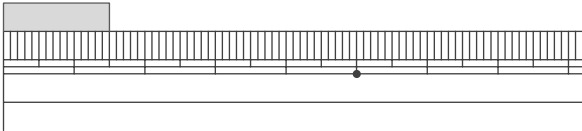
/10

■ ものさしをあてているものの長さを 答えましょう。

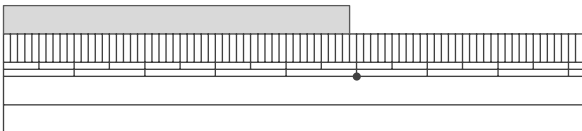
①



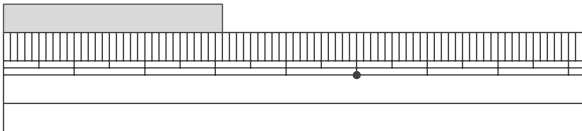
②



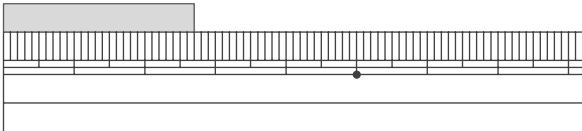
③



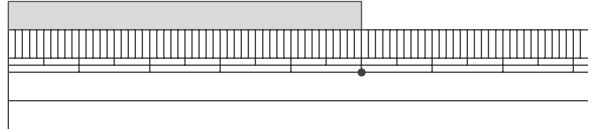
④



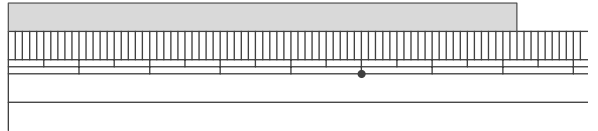
⑤



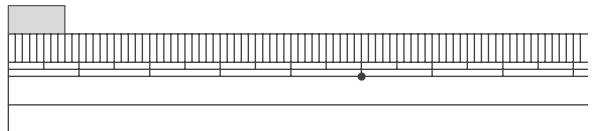
⑥



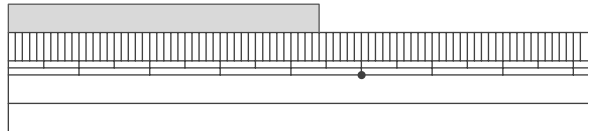
⑦



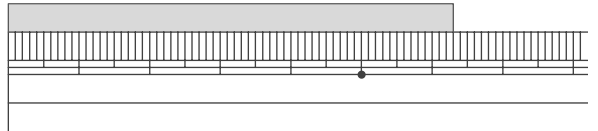
⑧



⑨



⑩



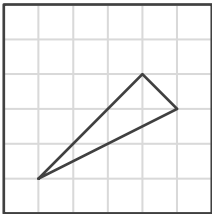
# 三角形

年 組 名前

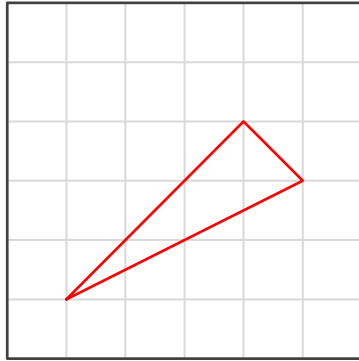
/ 6

■ お手本と同じ三角形をかきましょう。

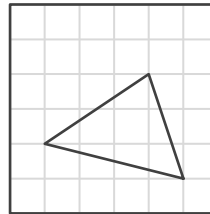
①



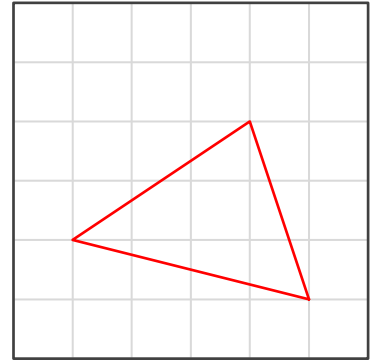
お手本



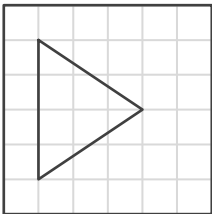
④



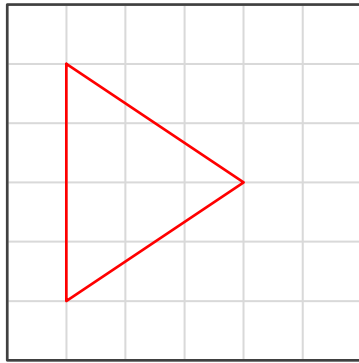
お手本



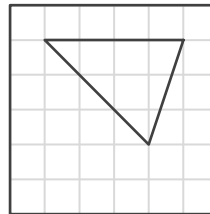
②



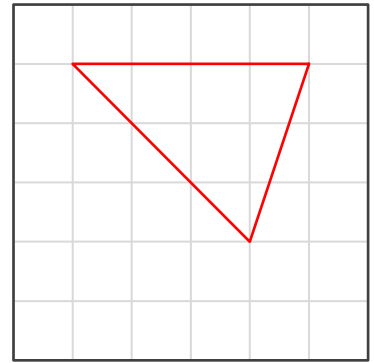
お手本



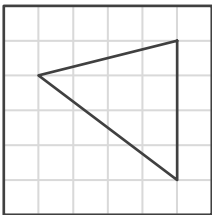
⑤



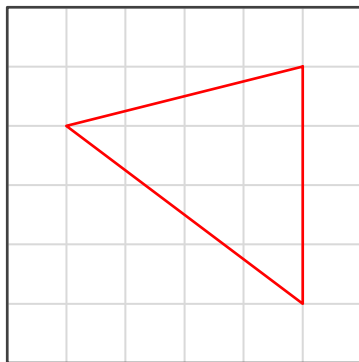
お手本



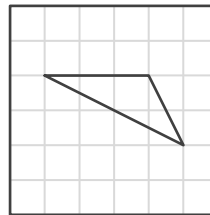
③



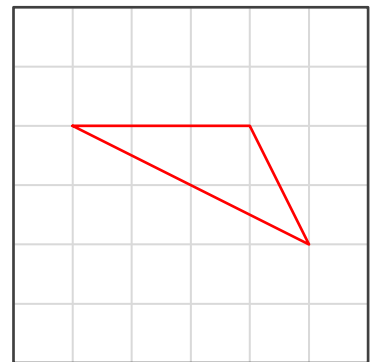
お手本



⑥



お手本



# 百をこえる数

年 組 名前

/21

■ 一番大きい数に丸(まる)をつけましょう。

①

141	145
140	147

②

497	947
794	749

③

213	813
513	613

④

785	587
758	578

⑤

460	467
468	466

⑥

249	429
294	492

⑦

712	711
715	718

⑧

375	351
332	328

⑨

918	912
915	913

⑩

724	427
472	742

⑪

507	517
587	537

⑫

795	773
732	781

⑬

178	140
192	133

⑭

407	470
704	740

⑮

544	564
584	534

⑯

337	357
307	327

⑰

430	403
304	340

⑱

974	964
944	994

⑲

725	527
752	572

⑳

638	691
622	683

㉑

438	384
834	483

# 正しい九九を通過して

年 組 名前

/ 6

■ 正しい九九だけを通過して、スタートからゴールまで行きましょう。

①

スタート	7×5= 36	6×5= 30	3×3= 9	3×4= 12
2×4= 8	6×3= 19	2×9= 18	7×7= 48	9×3= 27
9×4= 36	7×8= 55	6×2= 12	5×5= 20	7×4= 28
6×6= 36	4×6= 24	5×3= 15	6×9= 45	7×3= 21
2×8= 14	3×2= 5	9×7= 62	4×5= 15	ゴール

④

9×5= 44	2×9= 18	7×3= 21	4×7= 28	ゴール
4×3= 8	9×9= 81	3×6= 17	5×5= 30	4×9= 37
2×6= 13	8×5= 40	9×8= 72	6×9= 54	6×7= 42
8×2= 15	6×6= 37	5×3= 20	8×4= 31	6×4= 24
スタート	2×4= 8	8×3= 24	4×4= 16	8×8= 64

②

4×4= 16	7×7= 49	6×6= 36	8×9= 64	ゴール
6×2= 12	7×6= 36	3×9= 27	4×2= 10	5×5= 25
7×8= 56	7×3= 18	3×3= 9	4×9= 35	9×7= 63
8×8= 64	3×5= 12	7×5= 35	2×7= 13	4×8= 32
スタート	6×4= 30	3×8= 24	8×2= 16	6×3= 18

⑤

7×6= 48	4×3= 13	7×8= 63	3×7= 22	ゴール
8×2= 18	5×4= 19	2×4= 6	2×5= 9	5×6= 30
7×4= 24	3×2= 4	9×7= 62	4×4= 15	6×2= 12
8×6= 49	2×7= 13	9×9= 82	8×8= 64	6×3= 18
スタート	5×5= 25	6×4= 24	9×6= 54	9×4= 35

③

スタート	5×6= 30	4×3= 11	8×8= 72	2×6= 18
4×5= 15	3×9= 27	8×6= 49	4×7= 29	9×6= 55
5×2= 12	4×4= 16	6×7= 42	2×7= 14	2×9= 16
4×2= 9	5×5= 24	6×4= 25	8×9= 72	8×4= 32
8×2= 14	6×6= 30	8×3= 27	3×7= 18	ゴール

⑥

スタート	9×3= 18	8×7= 57	8×8= 65	7×5= 28
2×6= 12	4×4= 16	8×6= 48	4×6= 24	4×8= 31
7×4= 27	8×3= 25	5×4= 16	6×5= 30	8×5= 32
6×6= 30	9×9= 80	8×2= 14	7×6= 42	7×3= 14
7×7= 48	2×5= 8	5×9= 40	3×4= 12	ゴール

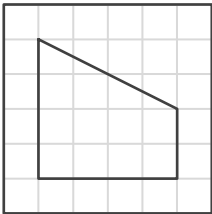
# 四角形

年 組 名前

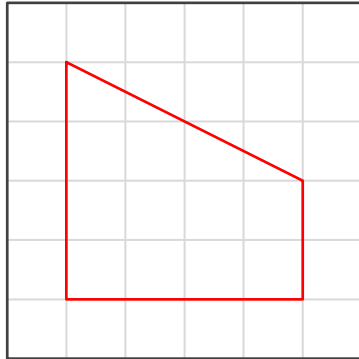
/ 6

■ お手本と同じ四角形をかきましょう。

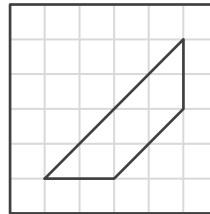
①



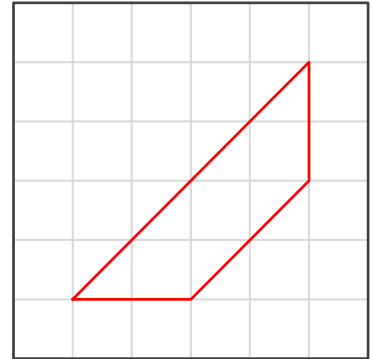
お手本



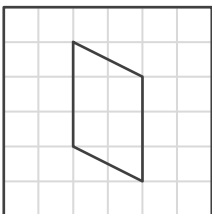
④



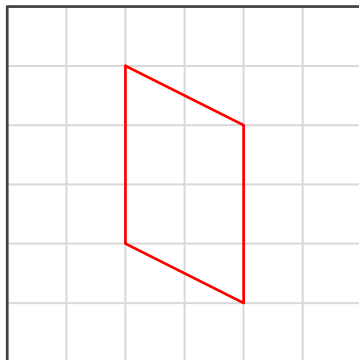
お手本



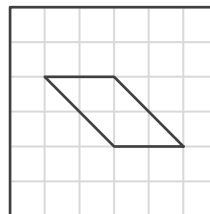
②



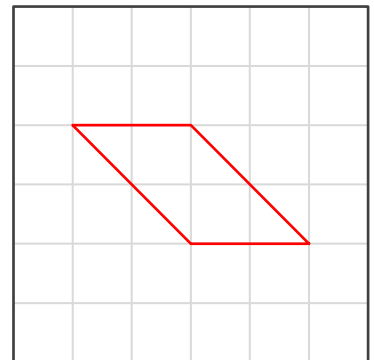
お手本



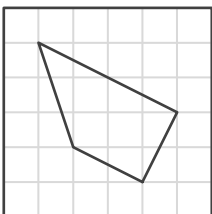
⑤



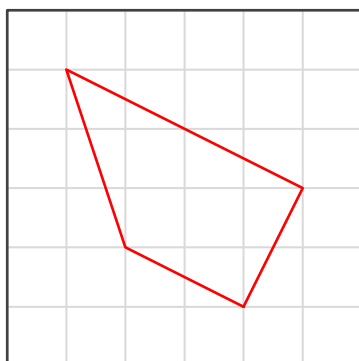
お手本



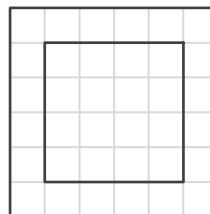
③



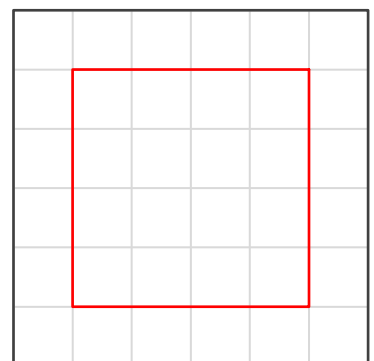
お手本



⑥



お手本



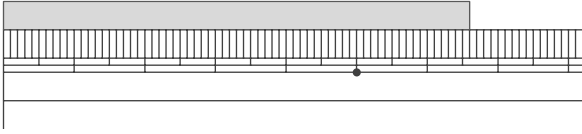
# 長さはどれくらい

年 組 名前

/10

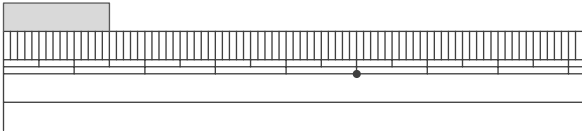
■ ものさしをあてているものの長さを 答えましょう。

①



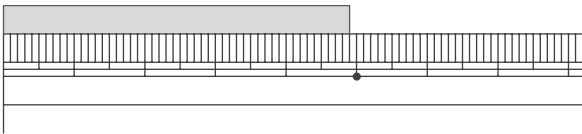
6cm 6mm

②



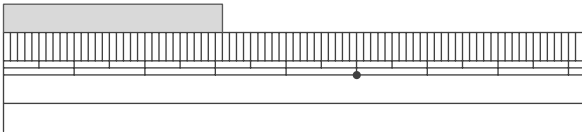
1cm 5mm

③



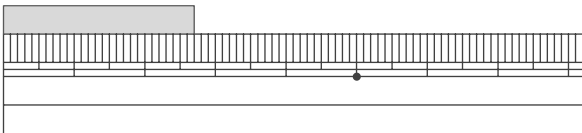
4cm 9mm

④



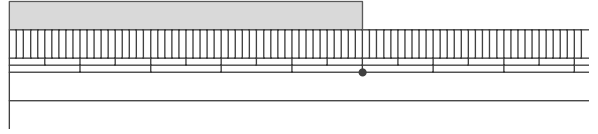
3cm 1mm

⑤



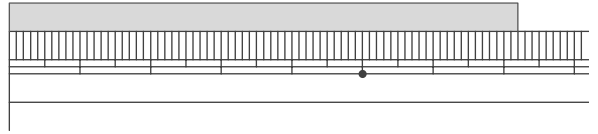
2cm 7mm

⑥



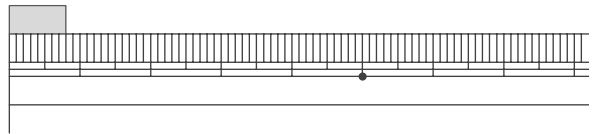
5cm

⑦



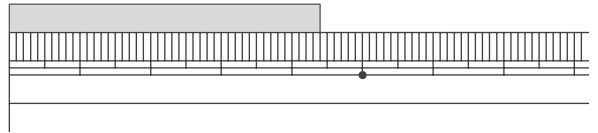
7cm 2mm

⑧



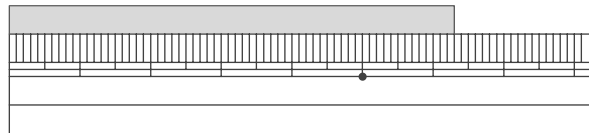
8mm

⑨



4cm 4mm

⑩



6cm 3mm