

free


¥0

期間限定

PICK UP PACKAGE

ピックアップパック

これできる？



- 2年生までに学習する内容からバランスよく収録
- 毎日(平日5日間)の自学にも最適な5枚セット
- 算数が好きな子には、1日1セットの「やり切り」もおすすめ!

小学 2 年生までの内容 -

パック

26

1まい目 - (2けた)-(1けた)の けい算

計算

2まい目 - 千を こえる 数 数字を かん字に

理解

3まい目 - かさを dL と mL で あらわす

理解

4まい目 - かさの かるた

理解

5まい目 - ひょうと グラフ

グラフ



(2けた) - (1けた)

年 組 名前

/24

■ ひき算をしましょう。

① $90 - 8 =$

② $74 - 9 =$

③ $15 - 4 =$

④ $78 - 5 =$

⑤ $48 - 9 =$

⑥ $64 - 7 =$

⑦ $30 - 5 =$

⑧ $53 - 6 =$

⑨ $36 - 7 =$

⑩ $73 - 5 =$

⑪ $12 - 2 =$

⑫ $61 - 5 =$

⑬ $49 - 8 =$

⑭ $81 - 8 =$

⑮ $95 - 8 =$

⑯ $44 - 6 =$

⑰ $47 - 1 =$

⑱ $83 - 9 =$

⑲ $66 - 8 =$

⑳ $31 - 2 =$

㉑ $42 - 3 =$

㉒ $27 - 9 =$

㉓ $88 - 1 =$

㉔ $64 - 1 =$

千をこえる数

年 組 名前

/18

■ つぎの数字で書かれた数を、かん字で書きましょう。

① 8305

| | | | |
|--|--|--|--|
| | | | |
|--|--|--|--|

② 7598

| | | | | | |
|--|--|--|--|--|--|
| | | | | | |
|--|--|--|--|--|--|

③ 6945

| | | | | | |
|--|--|--|--|--|--|
| | | | | | |
|--|--|--|--|--|--|

④ 5300

| | | |
|--|--|--|
| | | |
|--|--|--|

⑤ 3390

| | | | | | |
|--|--|--|--|--|--|
| | | | | | |
|--|--|--|--|--|--|

⑥ 9911

| | | | | | |
|--|--|--|--|--|--|
| | | | | | |
|--|--|--|--|--|--|

⑦ 2010

| | | |
|--|--|--|
| | | |
|--|--|--|

⑧ 1046

| | | | |
|--|--|--|--|
| | | | |
|--|--|--|--|

⑨ 3056

| | | | |
|--|--|--|--|
| | | | |
|--|--|--|--|

⑩ 4203

| | | | |
|--|--|--|--|
| | | | |
|--|--|--|--|

⑪ 4872

| | | | | | |
|--|--|--|--|--|--|
| | | | | | |
|--|--|--|--|--|--|

⑫ 5007

| | | |
|--|--|--|
| | | |
|--|--|--|

⑬ 1090

| | | |
|--|--|--|
| | | |
|--|--|--|

⑭ 7182

| | | | | | |
|--|--|--|--|--|--|
| | | | | | |
|--|--|--|--|--|--|

⑮ 8680

| | | | | | |
|--|--|--|--|--|--|
| | | | | | |
|--|--|--|--|--|--|

⑯ 6400

| | | | |
|--|--|--|--|
| | | | |
|--|--|--|--|

⑰ 9002

| | | |
|--|--|--|
| | | |
|--|--|--|

⑱ 2142

| | | | | | |
|--|--|--|--|--|--|
| | | | | | |
|--|--|--|--|--|--|

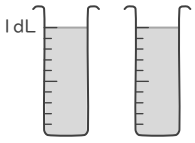
dL と mL

年 組 名前

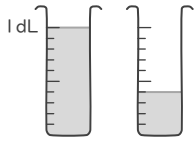
/15

■ かさを dL や mL をつかってあらわしましょう。

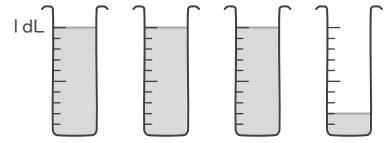
①



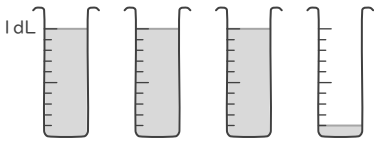
⑥



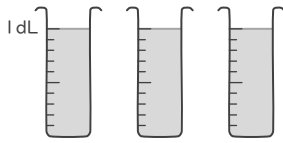
⑪



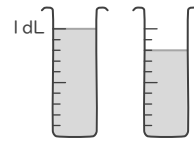
②



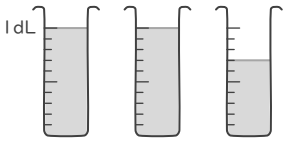
⑦



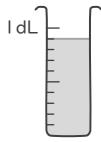
⑫



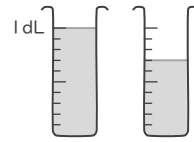
③



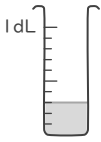
⑧



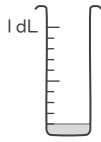
⑬



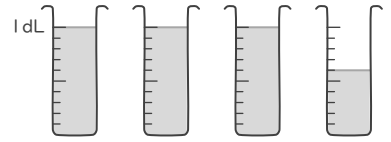
④



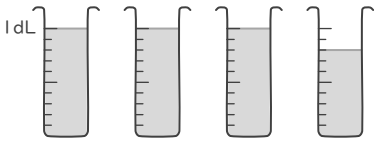
⑨



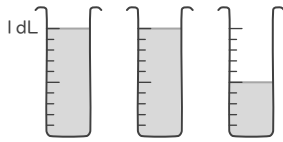
⑭



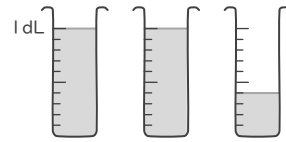
⑤



⑩



⑮



かさ

年 組 名前

/14

■ 正しい かが が 書かれた カードを えらんで きごう(あ~せ)で 答えましょう。

① 2L 8dL

⑥ 1dL 30mL

⑪ 5dL 90mL

② 1L 2dL

⑦ 8dL

⑫ 2dL 20mL

③ 50mL

⑧ 6dL 10mL

⑬ 3L 5dL

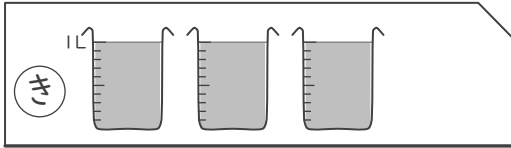
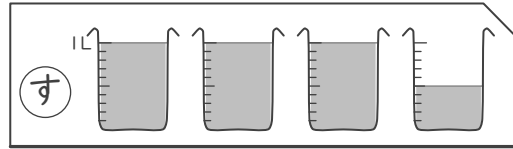
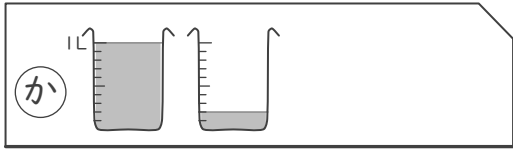
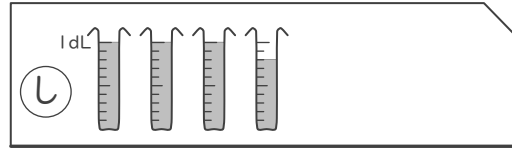
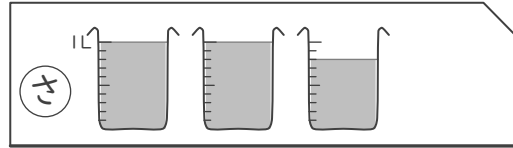
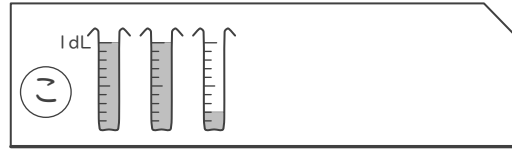
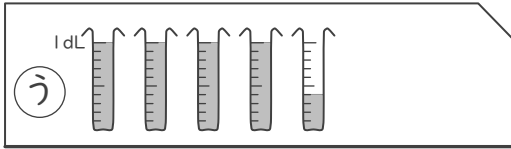
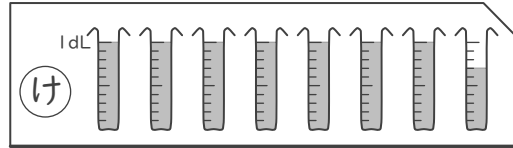
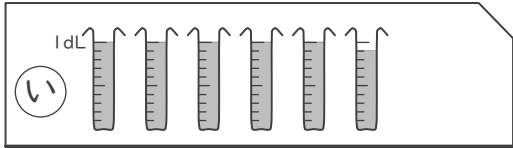
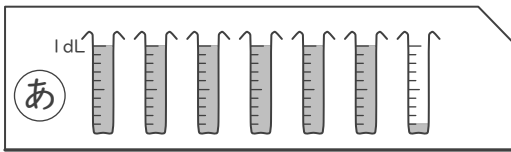
④ 2dL

⑨ 7dL 70mL

⑭ 3dL 80mL

⑤ 4dL 40mL

⑩ 3L



ひょうとグラフ

年 ぐみ 名まえ

17

■ みんなにすきないろを かいてもらった カードがあります。

| | | | | |
|-----|-----|-----|-----|-----|
| きいろ | みどり | くろ | みどり | |
| きいろ | しろ | あお | | みどり |
| | しろ | みどり | くろ | きいろ |
| みどり | くろ | みどり | しろ | |
| しろ | くろ | みどり | | |
| あか | あお | きいろ | みどり | あお |
| しろ | しろ | きいろ | あか | あか |
| あか | あか | あか | くろ | あお |

○をつかって、下のグラフにまとめましょう。また、ひょうに人数をかきましょう。

| | | | | | | |
|----|----|----|-----|-----|----|----|
| 10 | | | | | | |
| 9 | | | | | | |
| 8 | | | | | | |
| 7 | | | | | | |
| 6 | | | | | | |
| 5 | | | | | | |
| 4 | | | | | | |
| 3 | | | | | | |
| 2 | | | | | | |
| 1 | | | | | | |
| | あか | あお | きいろ | みどり | しろ | くろ |

すきないろしらべ

| | 人数(人) |
|-----|-------|
| あか | |
| あお | |
| きいろ | |
| みどり | |
| しろ | |
| くろ | |

(2けた) - (1けた)

年 組 名前

/24

■ ひき算をしましょう。

① $90 - 8 = 82$

② $74 - 9 = 65$

③ $15 - 4 = 11$

④ $78 - 5 = 73$

⑤ $48 - 9 = 39$

⑥ $64 - 7 = 57$

⑦ $30 - 5 = 25$

⑧ $53 - 6 = 47$

⑨ $36 - 7 = 29$

⑩ $73 - 5 = 68$

⑪ $12 - 2 = 10$

⑫ $61 - 5 = 56$

⑬ $49 - 8 = 41$

⑭ $81 - 8 = 73$

⑮ $95 - 8 = 87$

⑯ $44 - 6 = 38$

⑰ $47 - 1 = 46$

⑱ $83 - 9 = 74$

⑲ $66 - 8 = 58$

⑳ $31 - 2 = 29$

㉑ $42 - 3 = 39$

㉒ $27 - 9 = 18$

㉓ $88 - 1 = 87$

㉔ $64 - 1 = 63$

千をこえる数

年 組 名前

/18

■ つぎの数字で書かれた数を、かん字で書きましょう。

① 8305

八 千 三 百 五

② 7598

七 千 五 百 九 十 八

③ 6945

六 千 九 百 四 十 五

④ 5300

五 千 三 百

⑤ 3390

三 千 三 百 九 十

⑥ 9911

九 千 九 百 十 一

⑦ 2010

二 千 十

⑧ 1046

千 四 十 六

⑨ 3056

三 千 五 十 六

⑩ 4203

四 千 二 百 三

⑪ 4872

四 千 八 百 七 十 二

⑫ 5007

五 千 七

⑬ 1090

千 九 十

⑭ 7182

七 千 百 八 十 二

⑮ 8680

八 千 六 百 八 十

⑯ 6400

六 千 四 百

⑰ 9002

九 千 二

⑱ 2142

二 千 百 四 十 二

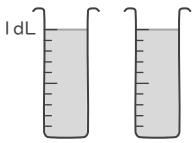
dL と mL

年 組 名前

/15

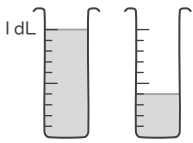
■ かさを dL や mL をつかってあらわしましょう。

①



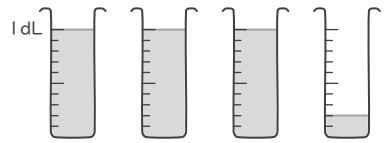
2dL

⑥



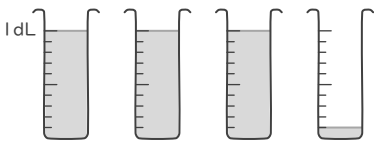
1dL 40mL

⑪



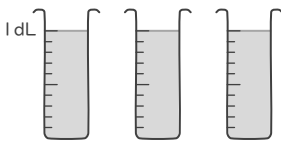
3dL 20mL

②



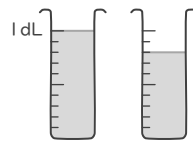
3dL 10mL

⑦



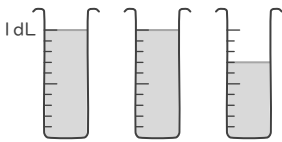
3dL

⑫



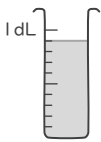
1dL 80mL

③



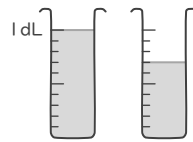
2dL 70mL

⑧



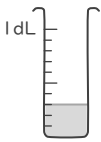
90mL

⑬



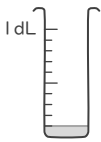
1dL 70mL

④



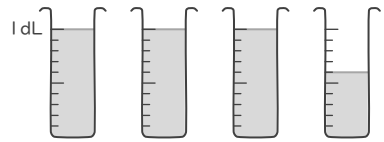
30mL

⑨



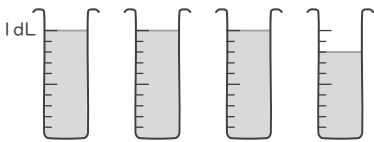
10mL

⑭



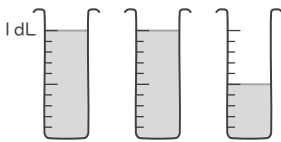
3dL 60mL

⑤



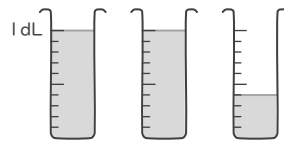
3dL 80mL

⑩



2dL 50mL

⑮



2dL 40mL

■ 正しい かが が 書かれた カードを えらんで きごう(あ~せ)で 答えましょう。

① 2L 8dL

さ

⑥ 1dL 30mL

お

⑪ 5dL 90mL

い

② 1L 2dL

か

⑦ 8dL

え

⑫ 2dL 20mL

こ

③ 50mL

く

⑧ 6dL 10mL

あ

⑬ 3L 5dL

す

④ 2dL

せ

⑨ 7dL 70mL

け

⑭ 3dL 80mL


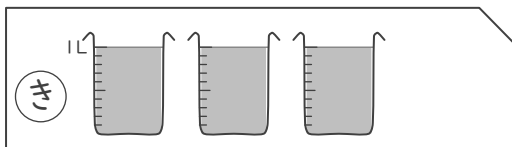
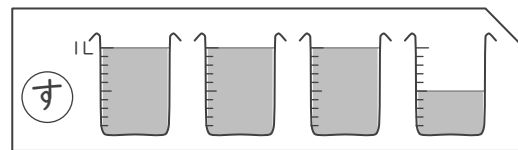
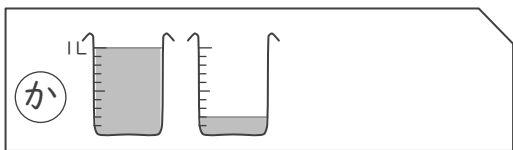
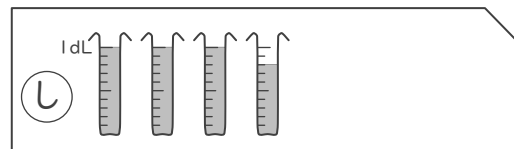
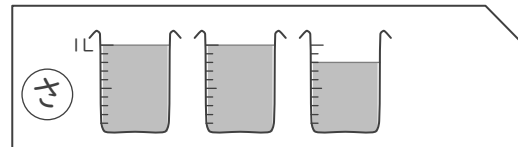
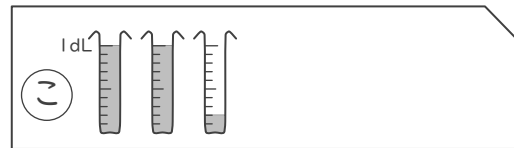
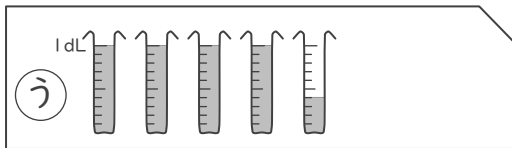
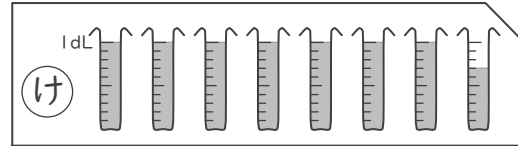
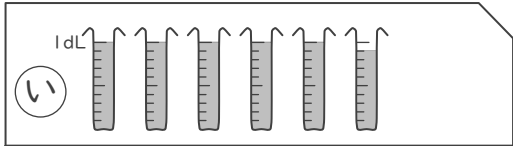
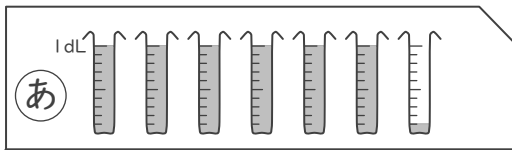
し

⑤ 4dL 40mL

う

⑩ 3L

き



ひょうとグラフ

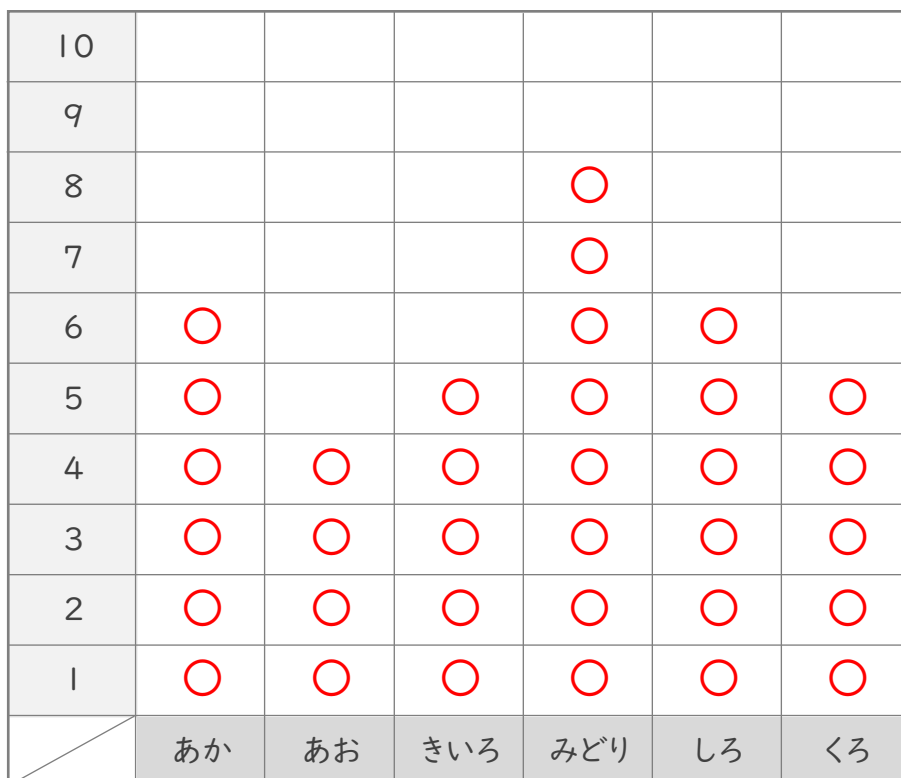
年 ぐみ 名まえ

/ 7

■ みんなにすきないろを かいてもらった カードが あります。

| | | | | |
|-----|-----|-----|-----|-----|
| きいろ | みどり | くろ | みどり | |
| きいろ | しろ | あお | | みどり |
| | しろ | みどり | くろ | きいろ |
| みどり | くろ | みどり | しろ | |
| しろ | くろ | みどり | | |
| あか | あお | きいろ | みどり | あお |
| しろ | しろ | きいろ | あか | あか |
| あか | あか | あか | くろ | あお |

○をつかって、下のグラフにまとめましょう。また、ひょうに人数をかきましょう。



すきないろしらべ

| | 人数(人) |
|-----|-------|
| あか | 6 |
| あお | 4 |
| きいろ | 5 |
| みどり | 8 |
| しろ | 6 |
| くろ | 5 |