

free

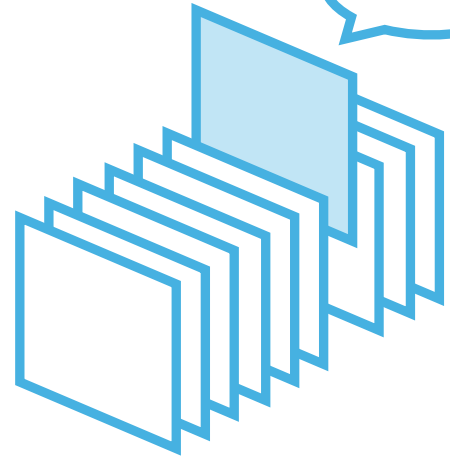
¥0

期間限定

PICK UP PACKAGE

ピックアップパック

これできる？



- 2年生までに学習する内容からバランスよく収録
- 毎日(平日5日間)の自学にも最適な5枚セット
- 算数が好きな子には、1日1セットの「やり切り」もおすすめ!

小学 2 年生までの内容 -

パック

29

- 1まい目 - 百をこえる数の大小
- 2まい目 - 九九のまちがいを見つけて
- 3まい目 - かさの大小
- 4まい目 - 長さのひき算 cmとmm
- 5まい目 - 三角形や四角形を切り分けて

理解

理解

理解

理解

図形



数の大小

年 組 名前

/26

■ つぎの2つの数の大小を、>か<をつかってあらわしましょう。

① 200 500

② 624 724

③ 231 132

④ 600 599

⑤ 865 921

⑥ 358 248

⑦ 667 662

⑧ 849 489

⑨ 41 825

⑩ 199 205

⑪ 807 805

⑫ 500 501

⑬ 266 261

⑭ 950 930

⑮ 136 130

⑯ 547 754

⑰ 169 175

⑱ 899 900

⑲ 137 139

⑳ 763 465

㉑ 172 721

㉒ 610 600

㉓ 62 618

㉔ 683 638

㉕ 79 780

㉖ 800 793

九九のまちがいさがし

年 組 名前

/12

■ まちがえている九九を1つえらんで○をつけましょう。正しい答えもかきましょう。

① 正しい答えは

7のだん

し 7×1=	し 7×2=	し 7×3=
7	14	21
し 7×4=	し 7×5=	し 7×6=
34	35	42
し 7×7=	し 7×8=	し 7×9=
49	56	63

⑤ 正しい答えは

4のだん

し 4×1=	し 4×2=	し 4×3=
4	8	15
し 4×4=	し 4×5=	し 4×6=
16	20	24
し 4×7=	し 4×8=	し 4×9=
28	32	36

⑨ 正しい答えは

2のだん

に 2×1=	に 2×2=	に 2×3=
2	4	6
に 2×4=	に 2×5=	に 2×6=
8	9	12
に 2×7=	に 2×8=	に 2×9=
14	16	18

② 正しい答えは

4のだん

し 4×1=	し 4×2=	し 4×3=
4	8	12
し 4×4=	し 4×5=	し 4×6=
16	20	24
し 4×7=	し 4×8=	し 4×9=
28	30	36

⑥ 正しい答えは

5のだん

ご 5×1=	ご 5×2=	ご 5×3=
5	10	17
ご 5×4=	ご 5×5=	ご 5×6=
20	25	30
ご 5×7=	ご 5×8=	ご 5×9=
35	40	45

⑩ 正しい答えは

9のだん

く 9×1=	く 9×2=	く 9×3=
9	18	27
く 9×4=	く 9×5=	く 9×6=
32	45	54
く 9×7=	く 9×8=	く 9×9=
63	72	81

③ 正しい答えは

6のだん

ろく 6×1=	ろく 6×2=	ろく 6×3=
6	12	18
ろく 6×4=	ろく 6×5=	ろく 6×6=
24	30	36
ろく 6×7=	ろく 6×8=	ろく 6×9=
42	48	51

⑦ 正しい答えは

9のだん

く 9×1=	く 9×2=	く 9×3=
9	18	27
く 9×4=	く 9×5=	く 9×6=
36	52	54
く 9×7=	く 9×8=	く 9×9=
63	72	81

⑪ 正しい答えは

5のだん

ご 5×1=	ご 5×2=	ご 5×3=
5	10	15
ご 5×4=	ご 5×5=	ご 5×6=
20	25	30
ご 5×7=	ご 5×8=	ご 5×9=
35	34	45

④ 正しい答えは

3のだん

さん 3×1=	さん 3×2=	さん 3×3=
3	6	9
さん 3×4=	さん 3×5=	さん 3×6=
12	15	14
さん 3×7=	さん 3×8=	さん 3×9=
21	24	27

⑧ 正しい答えは

3のだん

さん 3×1=	さん 3×2=	さん 3×3=
3	6	9
さん 3×4=	さん 3×5=	さん 3×6=
12	15	18
さん 3×7=	さん 3×8=	さん 3×9=
21	24	25

⑫ 正しい答えは

8のだん

はち 8×1=	はち 8×2=	はち 8×3=
8	16	24
はち 8×4=	はち 8×5=	はち 8×6=
32	40	48
はち 8×7=	はち 8×8=	はち 8×9=
63	64	72

かさの大小

年 組 名前

/30

■ 次の2つの かさの大小を等号(=)や不等号(>, <)を使って表しましょう。

- | | | | | | | | |
|------|----------|----------------------|-----------|------|----------|----------------------|----------|
| (1) | 3000mL | <input type="text"/> | 8L | (16) | 4L | <input type="text"/> | 80dL |
| (2) | 20dL | <input type="text"/> | 7L | (17) | 2000mL | <input type="text"/> | 6L |
| (3) | 6000mL | <input type="text"/> | 10dL | (18) | 9dL | <input type="text"/> | 1L |
| (4) | 2dL 30mL | <input type="text"/> | 140mL | (19) | 1L | <input type="text"/> | 10mL |
| (5) | 4L | <input type="text"/> | 4mL | (20) | 7dL | <input type="text"/> | 5000mL |
| (6) | 70mL | <input type="text"/> | 5dL | (21) | 3L | <input type="text"/> | 3dL |
| (7) | 6L 200mL | <input type="text"/> | 9L 6dL | (22) | 6L | <input type="text"/> | 2dL |
| (8) | 440mL | <input type="text"/> | 5dL 10mL | (23) | 2000mL | <input type="text"/> | 2L |
| (9) | 9L | <input type="text"/> | 90dL | (24) | 2dL | <input type="text"/> | 20mL |
| (10) | 7L | <input type="text"/> | 70dL | (25) | 6dL | <input type="text"/> | 600mL |
| (11) | 4dL | <input type="text"/> | 30mL | (26) | 4000mL | <input type="text"/> | 20dL |
| (12) | 3L | <input type="text"/> | 60dL | (27) | 3dL 40mL | <input type="text"/> | 450mL |
| (13) | 900mL | <input type="text"/> | 9L | (28) | 3000mL | <input type="text"/> | 3L |
| (14) | 5000mL | <input type="text"/> | 70dL | (29) | 5L | <input type="text"/> | 5dL |
| (15) | 5L 4dL | <input type="text"/> | 7L 700 mL | (30) | 840mL | <input type="text"/> | 4dL 60mL |

長さのひき算

年 組 名前

/14

■ 長さのひき算をしましょう。

① $5\text{cm } 9\text{mm} - 2\text{cm } 2\text{mm} =$

② $6\text{cm } 4\text{mm} - 3\text{cm } 2\text{mm} =$

③ $8\text{cm } 5\text{mm} - 3\text{cm } 4\text{mm} =$

④ $1\text{cm} - 7\text{mm} =$

⑤ $3\text{mm} - 2\text{mm} =$

⑥ $7\text{cm} - 1\text{cm} =$

⑦ $1\text{cm} - 2\text{mm} =$

⑧ $8\text{cm } 6\text{mm} - 2\text{cm} =$

⑨ $8\text{cm } 8\text{mm} - 5\text{mm} =$

⑩ $4\text{cm } 6\text{mm} - 4\text{cm } 2\text{mm} =$

⑪ $9\text{cm } 5\text{mm} - 3\text{cm } 2\text{mm} =$

⑫ $6\text{cm } 7\text{mm} - 4\text{cm } 4\text{mm} =$

⑬ $6\text{cm } 2\text{mm} - 5\text{cm } 2\text{mm} =$

⑭ $8\text{cm } 4\text{mm} - 4\text{cm } 1\text{mm} =$

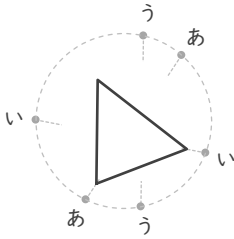
直線で切り分けて

年 組 名前

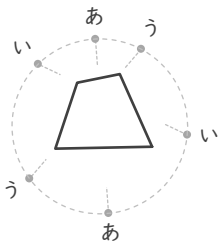
/15

■ 言われた通りに分けられるように、あ～うのどれか1組をものさしてつなぎましょう。

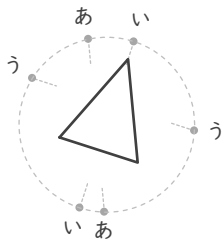
① 三角形と四角形に



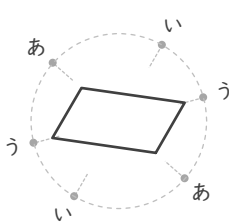
② 2つの三角形に



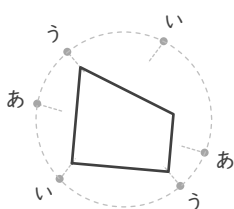
③ 2つの三角形に



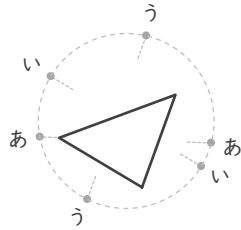
④ 2つの四角形に



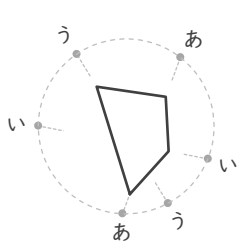
⑤ 三角形と四角形に



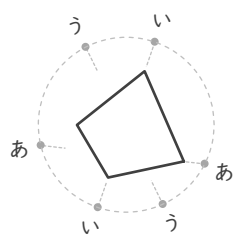
⑥ 2つの三角形に



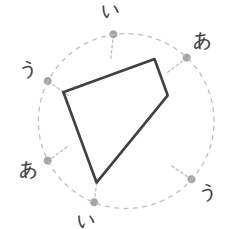
⑦ 2つの三角形に



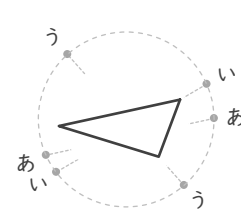
⑧ 三角形と四角形に



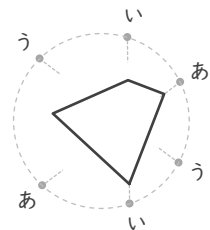
⑨ 2つの四角形に



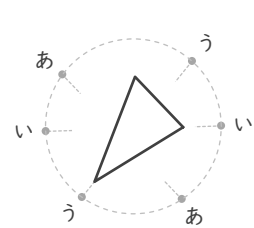
⑩ 三角形と四角形に



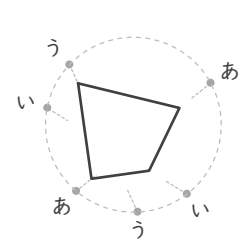
⑪ 三角形と四角形に



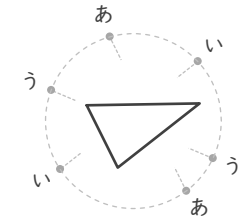
⑫ 三角形と四角形に



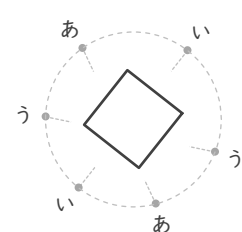
⑬ 2つの三角形に



⑭ 2つの三角形に



⑮ 2つの四角形に



数の大小

年 組 名前

/26

■ つぎの2つの数の大小を、>か<をつかってあらわしましょう。

① 200 < 500

② 624 < 724

③ 231 > 132

④ 600 > 599

⑤ 865 < 921

⑥ 358 > 248

⑦ 667 > 662

⑧ 849 > 489

⑨ 41 < 825

⑩ 199 < 205

⑪ 807 > 805

⑫ 500 < 501

⑬ 266 > 261

⑭ 950 > 930

⑮ 136 > 130

⑯ 547 < 754

⑰ 169 < 175

⑱ 899 < 900

⑲ 137 < 139

⑳ 763 > 465

㉑ 172 < 721

㉒ 610 > 600

㉓ 62 < 618

㉔ 683 > 638

㉕ 79 < 780

㉖ 800 > 793

九九のまちがいさがし

年 組 名前

/12

■ まちがえている九九を1つえらんで○をつけましょう。正しい答えもかきましょう。

① 正しい答えは **28**

7のだん

し ち が $7 \times 1 =$ 7	し ち に が $7 \times 2 =$ 14	し ち さん が $7 \times 3 =$ 21
し ち が $7 \times 4 =$ 34	し ち ご が $7 \times 5 =$ 35	し ち ろく が $7 \times 6 =$ 42
し ち しち が $7 \times 7 =$ 49	し ち はち が $7 \times 8 =$ 56	し ち く が $7 \times 9 =$ 63

⑤ 正しい答えは **12**

4のだん

し いち が $4 \times 1 =$ 4	し に が $4 \times 2 =$ 8	し さん が $4 \times 3 =$ 15
し し が $4 \times 4 =$ 16	し ご が $4 \times 5 =$ 20	し ろく が $4 \times 6 =$ 24
し しち が $4 \times 7 =$ 28	し はち が $4 \times 8 =$ 32	し く が $4 \times 9 =$ 36

⑨ 正しい答えは **10**

2のだん

に いち が $2 \times 1 =$ 2	に にん が $2 \times 2 =$ 4	に さん が $2 \times 3 =$ 6
に し が $2 \times 4 =$ 8	に ご が $2 \times 5 =$ 9	に ろく が $2 \times 6 =$ 12
に しち が $2 \times 7 =$ 14	に はち が $2 \times 8 =$ 16	に く が $2 \times 9 =$ 18

② 正しい答えは **32**

4のだん

し いち が $4 \times 1 =$ 4	し に が $4 \times 2 =$ 8	し さん が $4 \times 3 =$ 12
し し が $4 \times 4 =$ 16	し ご が $4 \times 5 =$ 20	し ろく が $4 \times 6 =$ 24
し しち が $4 \times 7 =$ 28	し はち が $4 \times 8 =$ 30	し く が $4 \times 9 =$ 36

⑥ 正しい答えは **15**

5のだん

ご いち が $5 \times 1 =$ 5	ご に が $5 \times 2 =$ 10	ご さん が $5 \times 3 =$ 17
ご し が $5 \times 4 =$ 20	ご ご が $5 \times 5 =$ 25	ご ろく が $5 \times 6 =$ 30
ご しち が $5 \times 7 =$ 35	ご はち が $5 \times 8 =$ 40	ご く が $5 \times 9 =$ 45

⑩ 正しい答えは **36**

9のだん

く いち が $9 \times 1 =$ 9	く に が $9 \times 2 =$ 18	く さん が $9 \times 3 =$ 27
く し が $9 \times 4 =$ 32	く ご が $9 \times 5 =$ 45	く ろく が $9 \times 6 =$ 54
く しち が $9 \times 7 =$ 63	く はち が $9 \times 8 =$ 72	く く が $9 \times 9 =$ 81

③ 正しい答えは **54**

6のだん

ろく いち が $6 \times 1 =$ 6	ろく に が $6 \times 2 =$ 12	ろく さん が $6 \times 3 =$ 18
ろく し が $6 \times 4 =$ 24	ろく ご が $6 \times 5 =$ 30	ろく ろく が $6 \times 6 =$ 36
ろく しち が $6 \times 7 =$ 42	ろく はち が $6 \times 8 =$ 48	ろく く が $6 \times 9 =$ 51

⑦ 正しい答えは **45**

9のだん

く いち が $9 \times 1 =$ 9	く に が $9 \times 2 =$ 18	く さん が $9 \times 3 =$ 27
く し が $9 \times 4 =$ 36	く ご が $9 \times 5 =$ 52	く ろく が $9 \times 6 =$ 54
く しち が $9 \times 7 =$ 63	く はち が $9 \times 8 =$ 72	く く が $9 \times 9 =$ 81

⑪ 正しい答えは **40**

5のだん

ご いち が $5 \times 1 =$ 5	ご に が $5 \times 2 =$ 10	ご さん が $5 \times 3 =$ 15
ご し が $5 \times 4 =$ 20	ご ご が $5 \times 5 =$ 25	ご ろく が $5 \times 6 =$ 30
ご しち が $5 \times 7 =$ 35	ご はち が $5 \times 8 =$ 34	ご く が $5 \times 9 =$ 45

④ 正しい答えは **18**

3のだん

さん いち が $3 \times 1 =$ 3	さん に が $3 \times 2 =$ 6	さん さん が $3 \times 3 =$ 9
さん し が $3 \times 4 =$ 12	さん ご が $3 \times 5 =$ 15	さん ろく が $3 \times 6 =$ 14
さん しち が $3 \times 7 =$ 21	さん ぱち が $3 \times 8 =$ 24	さん く が $3 \times 9 =$ 27

⑧ 正しい答えは **27**

3のだん

さん いち が $3 \times 1 =$ 3	さん に が $3 \times 2 =$ 6	さん さん が $3 \times 3 =$ 9
さん し が $3 \times 4 =$ 12	さん ご が $3 \times 5 =$ 15	さん ろく が $3 \times 6 =$ 18
さん しち が $3 \times 7 =$ 21	さん ぱち が $3 \times 8 =$ 24	さん く が $3 \times 9 =$ 25

⑫ 正しい答えは **56**

8のだん

はち いち が $8 \times 1 =$ 8	はち に が $8 \times 2 =$ 16	はち さん が $8 \times 3 =$ 24
はち し が $8 \times 4 =$ 32	はち ご が $8 \times 5 =$ 40	はち ろく が $8 \times 6 =$ 48
はち しち が $8 \times 7 =$ 63	はち ぱち が $8 \times 8 =$ 64	はち く が $8 \times 9 =$ 72

かさの大小

年 組 名前

/30

■ 次の2つの かさの大小を等号(=)や不等号(>, <)を使って表しましょう。

- | | | | | | | | |
|------|----------|---|-----------|------|----------|---|----------|
| (1) | 3000mL | < | 8L | (16) | 4L | < | 80dL |
| (2) | 20dL | < | 7L | (17) | 2000mL | < | 6L |
| (3) | 6000mL | > | 10dL | (18) | 9dL | < | 1L |
| (4) | 2dL 30mL | > | 140mL | (19) | 1L | > | 10mL |
| (5) | 4L | > | 4mL | (20) | 7dL | < | 5000mL |
| (6) | 70mL | < | 5dL | (21) | 3L | > | 3dL |
| (7) | 6L 200mL | < | 9L 6dL | (22) | 6L | > | 2dL |
| (8) | 440mL | < | 5dL 10mL | (23) | 2000mL | = | 2L |
| (9) | 9L | = | 90dL | (24) | 2dL | > | 20mL |
| (10) | 7L | = | 70dL | (25) | 6dL | = | 600mL |
| (11) | 4dL | > | 30mL | (26) | 4000mL | > | 20dL |
| (12) | 3L | < | 60dL | (27) | 3dL 40mL | < | 450mL |
| (13) | 900mL | < | 9L | (28) | 3000mL | = | 3L |
| (14) | 5000mL | < | 70dL | (29) | 5L | > | 5dL |
| (15) | 5L 4dL | < | 7L 700 mL | (30) | 840mL | > | 4dL 60mL |

長さのひき算

年 組 名前

/14

■ 長さのひき算をしましょう。

① $5\text{cm } 9\text{mm} - 2\text{cm } 2\text{mm} =$ 3 cm 7 mm

② $6\text{cm } 4\text{mm} - 3\text{cm } 2\text{mm} =$ 3 cm 2 mm

③ $8\text{cm } 5\text{mm} - 3\text{cm } 4\text{mm} =$ 5 cm 1 mm

④ $1\text{cm} - 7\text{mm} =$ 3 mm

⑤ $3\text{mm} - 2\text{mm} =$ 1 mm

⑥ $7\text{cm} - 1\text{cm} =$ 6 cm

⑦ $1\text{cm} - 2\text{mm} =$ 8 mm

⑧ $8\text{cm } 6\text{mm} - 2\text{cm} =$ 6 cm 6 mm

⑨ $8\text{cm } 8\text{mm} - 5\text{mm} =$ 8 cm 3 mm

⑩ $4\text{cm } 6\text{mm} - 4\text{cm } 2\text{mm} =$ 4 mm

⑪ $9\text{cm } 5\text{mm} - 3\text{cm } 2\text{mm} =$ 6 cm 3 mm

⑫ $6\text{cm } 7\text{mm} - 4\text{cm } 4\text{mm} =$ 2 cm 3 mm

⑬ $6\text{cm } 2\text{mm} - 5\text{cm } 2\text{mm} =$ 1 cm

⑭ $8\text{cm } 4\text{mm} - 4\text{cm } 1\text{mm} =$ 4 cm 3 mm

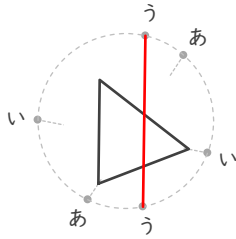
直線で切り分けて

年 組 名前

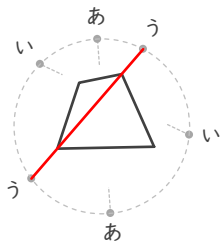
/15

■ 言われた通りに分けられるように、あ～うのどれか1組をものさしてつなぎましょう。

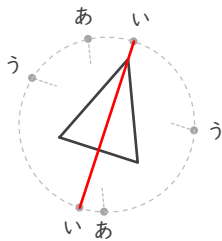
① 三角形と四角形に



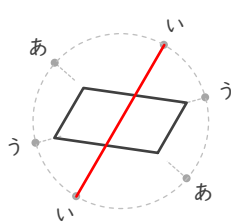
② 2つの三角形に



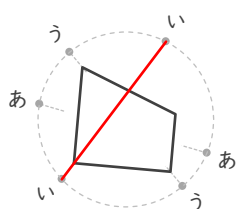
③ 2つの三角形に



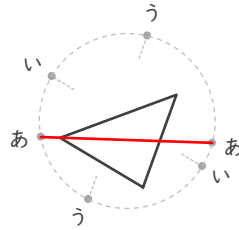
④ 2つの四角形に



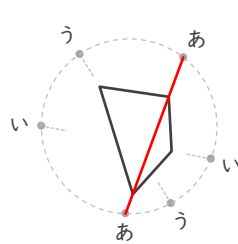
⑤ 三角形と四角形に



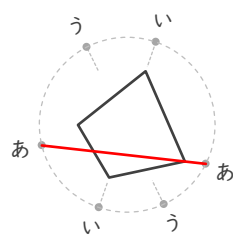
⑥ 2つの三角形に



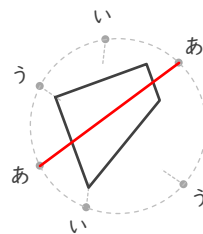
⑦ 2つの三角形に



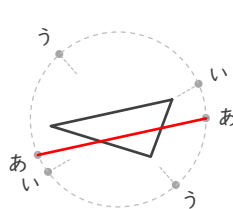
⑧ 三角形と四角形に



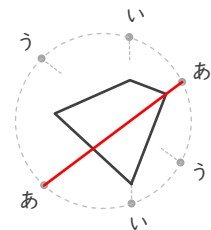
⑨ 2つの四角形に



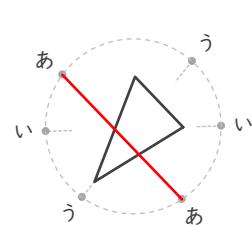
⑩ 三角形と四角形に



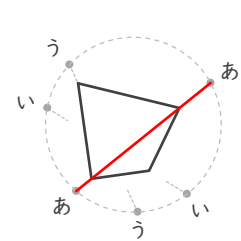
⑪ 三角形と四角形に



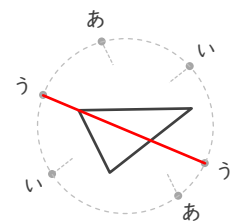
⑫ 三角形と四角形に



⑬ 2つの三角形に



⑭ 2つの三角形に



⑮ 2つの四角形に

