

free


¥0

期間限定

PICK UP PACKAGE

ピックアップパック

これできる？



- 3年生までに学習する内容からバランスよく収録
- 毎日(平日5日間)の自学にも最適な5枚セット
- 算数が好きな子には、1日1セットの「やり切り」もおすすめ!

小学 3 年生までの内容 -

パック

08

1まい目 - □を使った式の計算

計算

2まい目 - 1km をこえる長さのたんいがえ

理解

3まい目 - (2けた)-(2けた)の暗算

計算

4まい目 - 時間の長さを比べよう 分と秒

理解

5まい目 - ぼうグラフをかく

グラフ



□を使った式

年 組 名前

/20

■ □に入る数を答えましょう。

① $10 + \square = 50$

② $\square - 6 = 13$

③ $\square - 20 = 10$

④ $\square \times 2 = 82$

⑤ $\square + 10 = 40$

⑥ $\square + 3 = 19$

⑦ $18 + \square = 26$

⑧ $\square \times 2 = 44$

⑨ $80 - \square = 20$

⑩ $\square + 5 = 20$

⑪ $\square \times 3 = 99$

⑫ $\square + 30 = 90$

⑬ $60 + \square = 70$

⑭ $\square \times 4 = 88$

⑮ $21 - \square = 14$

⑯ $\square - 10 = 70$

⑰ $40 - \square = 20$

⑱ $\square - 5 = 19$

⑲ $21 - \square = 17$

⑳ $11 + \square = 19$

■ 同じ長さになるように数字を入れましょう。

① 3940m = km m

② 1690m = km m

③ 10km 100m = m

④ 8020m = km m

⑤ 110km = m

⑥ 86000m = km

⑦ 700000m = km

⑧ 5km 50m = m

⑨ 1km 5m = m

⑩ 109km = m

⑪ 80km 800m = m

⑫ 2km 850m = m

⑬ 1006m = km m

⑭ 85300m = km m

⑮ 12km 700m = m

⑯ 8km = m

⑰ 13000m = km

⑱ 2km 7m = m

⑲ 1km 710m = m

⑳ 640000m = km

㉑ 10900m = km m

㉒ 150000m = km

㉓ 1km 10m = m

㉔ 60000m = km

ひき算の暗算

年 組 名前

/30

■ つぎのひき算を暗算でしましょう。

① $94 - 61 =$

② $63 - 28 =$

③ $92 - 36 =$

④ $93 - 66 =$

⑤ $61 - 32 =$

⑥ $33 - 19 =$

⑦ $40 - 13 =$

⑧ $72 - 24 =$

⑨ $55 - 21 =$

⑩ $67 - 44 =$

⑪ $82 - 15 =$

⑫ $71 - 17 =$

⑬ $82 - 63 =$

⑭ $64 - 24 =$

⑮ $45 - 34 =$

⑯ $90 - 51 =$

⑰ $61 - 43 =$

⑱ $82 - 48 =$

⑲ $50 - 22 =$

⑳ $44 - 28 =$

㉑ $62 - 57 =$

㉒ $25 - 19 =$

㉓ $83 - 74 =$

㉔ $99 - 86 =$

㉕ $56 - 32 =$

㉖ $34 - 23 =$

㉗ $80 - 34 =$

㉘ $79 - 63 =$

㉙ $57 - 45 =$

㉚ $80 - 27 =$

時間の長さをくらべよう

年 組 名前

/22

■ 次の2つの時間の長さをくらべて、等号(=)や不等号(>, <)を使って表しましょう。

(1) 1分 3秒 66秒

(2) 100秒 1分 30秒

(3) 2分 123秒

(4) 1分 60秒

(5) 115秒 1分 46秒

(6) 71秒 1分 12秒

(7) 117秒 2分

(8) 1分 15秒 79秒

(9) 1分 51秒

(10) 2分 120秒

(11) 1分 50秒 80秒

(12) 1分 36秒 96秒

(13) 1分 7秒 64秒

(14) 1分 27秒 87秒

(15) 1分 48秒 108秒

(16) 89秒 1分 19秒

(17) 89秒 1分 37秒

(18) 1分 9秒 69秒

(19) 1分 52秒 112秒

(20) 1分 69秒

(21) 1分 10秒 70秒

(22) 1分 46秒 96秒

ぼうグラフ

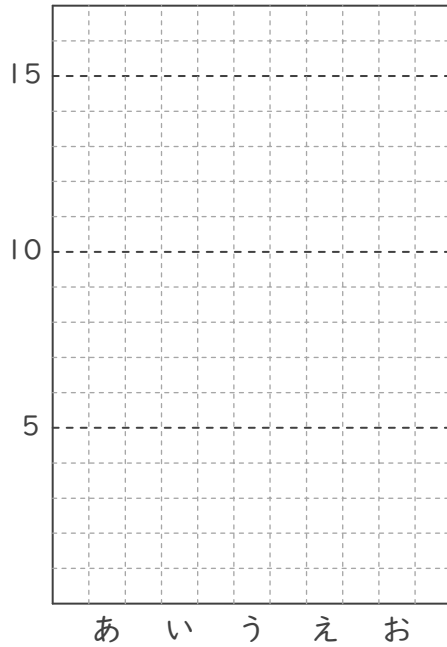
年 組 名前

/ 4

■ 表を見て、ぼうグラフをかきましょう。

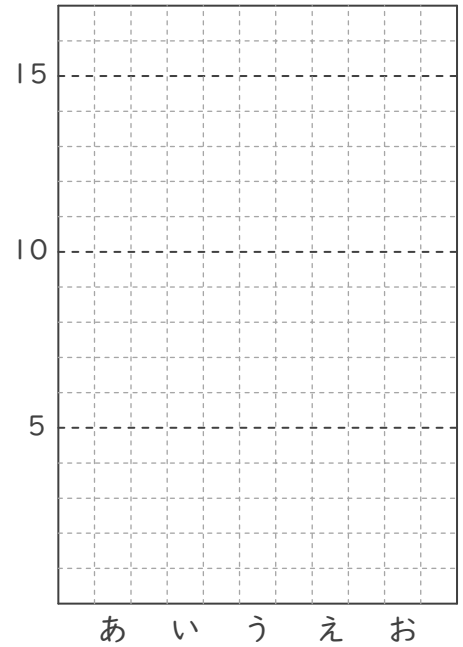
①

あ	11
い	6
う	4
え	12
お	1



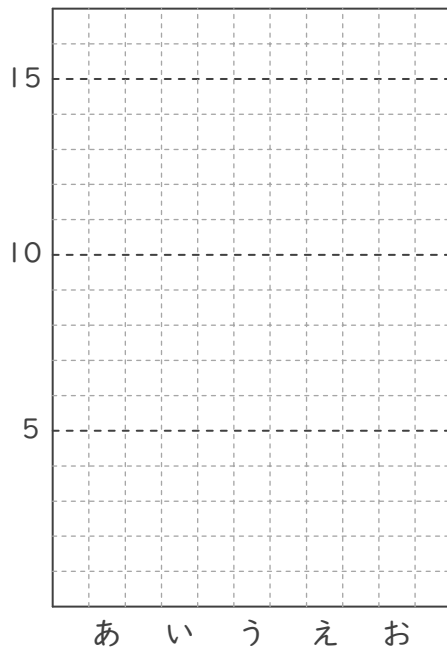
③

あ	7
い	9
う	8
え	6
お	11



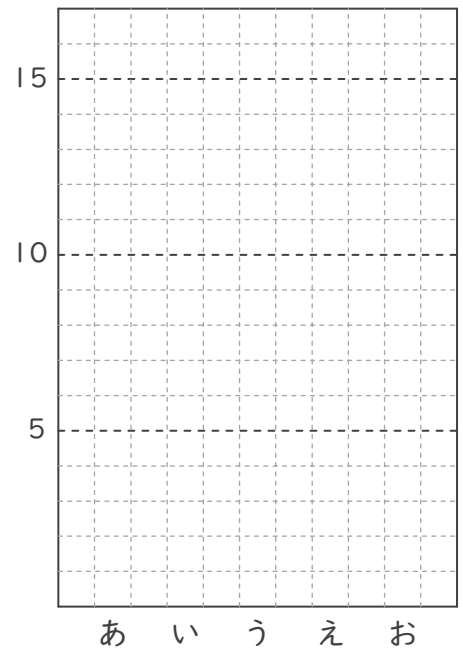
②

あ	7
い	13
う	2
え	3
お	12



④

あ	4
い	5
う	9
え	5
お	10



□を使った式

____年 ____組 名前

/20

■ □に入る数を答えましょう。

① $10 + \boxed{40} = 50$

② $\boxed{19} - 6 = 13$

③ $\boxed{30} - 20 = 10$

④ $\boxed{41} \times 2 = 82$

⑤ $\boxed{30} + 10 = 40$

⑥ $\boxed{16} + 3 = 19$

⑦ $18 + \boxed{8} = 26$

⑧ $\boxed{22} \times 2 = 44$

⑨ $80 - \boxed{60} = 20$

⑩ $\boxed{15} + 5 = 20$

⑪ $\boxed{33} \times 3 = 99$

⑫ $\boxed{60} + 30 = 90$

⑬ $60 + \boxed{10} = 70$

⑭ $\boxed{22} \times 4 = 88$

⑮ $21 - \boxed{7} = 14$

⑯ $\boxed{80} - 10 = 70$

⑰ $40 - \boxed{20} = 20$

⑱ $\boxed{24} - 5 = 19$

⑲ $21 - \boxed{4} = 17$

⑳ $11 + \boxed{8} = 19$

■ 同じ長さになるように数字を入れましょう。

① 3940m = 3 km 940 m

② 1690m = 1 km 690 m

③ 10km 100m = 10100 m

④ 8020m = 8 km 20 m

⑤ 110km = 110000 m

⑥ 86000m = 86 km

⑦ 700000m = 700 km

⑧ 5km 50m = 5050 m

⑨ 1km 5m = 1005 m

⑩ 109km = 109000 m

⑪ 80km 800m = 80800 m

⑫ 2km 850m = 2850 m

⑬ 1006m = 1 km 6 m

⑭ 85300m = 85 km 300 m

⑮ 12km 700m = 12700 m

⑯ 8km = 8000 m

⑰ 13000m = 13 km

⑱ 2km 7m = 2007 m

⑲ 1km 710m = 1710 m

⑳ 640000m = 640 km

㉑ 10900m = 10 km 900 m

㉒ 150000m = 150 km

㉓ 1km 10m = 1010 m

㉔ 60000m = 60 km

ひき算の暗算

年 組 名前

/30

■ つぎのひき算を暗算でしましょう。

① $94 - 61 =$

② $63 - 28 =$

③ $92 - 36 =$

④ $93 - 66 =$

⑤ $61 - 32 =$

⑥ $33 - 19 =$

⑦ $40 - 13 =$

⑧ $72 - 24 =$

⑨ $55 - 21 =$

⑩ $67 - 44 =$

⑪ $82 - 15 =$

⑫ $71 - 17 =$

⑬ $82 - 63 =$

⑭ $64 - 24 =$

⑮ $45 - 34 =$

⑯ $90 - 51 =$

⑰ $61 - 43 =$

⑱ $82 - 48 =$

⑲ $50 - 22 =$

⑳ $44 - 28 =$

㉑ $62 - 57 =$

㉒ $25 - 19 =$

㉓ $83 - 74 =$

㉔ $99 - 86 =$

㉕ $56 - 32 =$

㉖ $34 - 23 =$

㉗ $80 - 34 =$

㉘ $79 - 63 =$

㉙ $57 - 45 =$

㉚ $80 - 27 =$

時間の長さをくらべよう

年 組 名前

/22

■ 次の2つの時間の長さをくらべて、等号(=)や不等号(>, <)を使って表しましょう。

(1) 1分 3秒 < 66秒

(2) 100秒 > 1分 30秒

(3) 2分 < 123秒

(4) 1分 = 60秒

(5) 115秒 > 1分 46秒

(6) 71秒 < 1分 12秒

(7) 117秒 < 2分

(8) 1分 15秒 < 79秒

(9) 1分 > 51秒

(10) 2分 = 120秒

(11) 1分 50秒 > 80秒

(12) 1分 36秒 = 96秒

(13) 1分 7秒 > 64秒

(14) 1分 27秒 = 87秒

(15) 1分 48秒 = 108秒

(16) 89秒 > 1分 19秒

(17) 89秒 < 1分 37秒

(18) 1分 9秒 = 69秒

(19) 1分 52秒 = 112秒

(20) 1分 < 69秒

(21) 1分 10秒 = 70秒

(22) 1分 46秒 > 96秒

ぼうグラフ

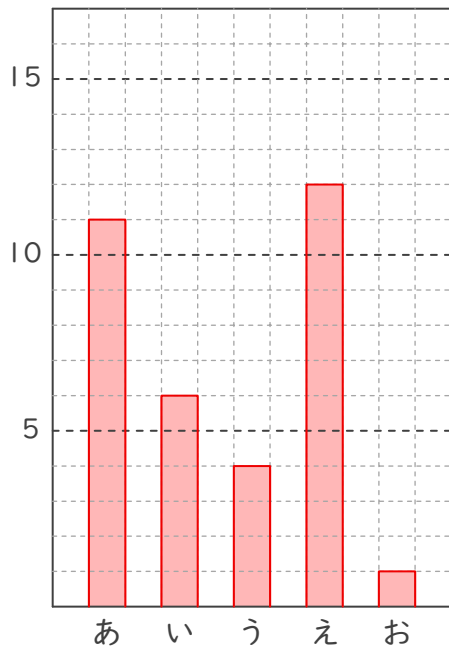
年 組 名前

/ 4

■ 表を見て、ぼうグラフをかきましょう。

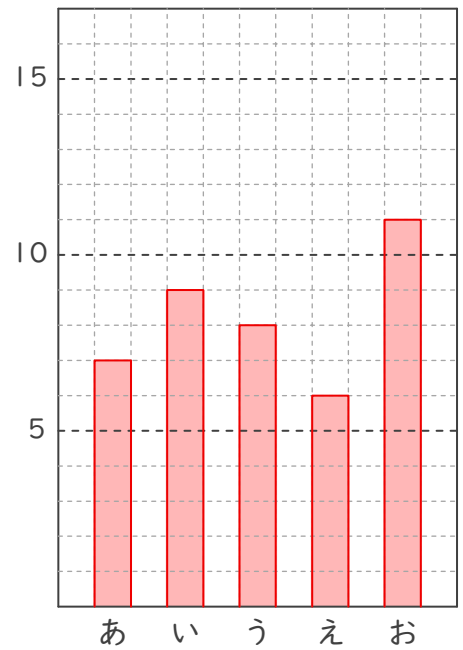
①

あ	11
い	6
う	4
え	12
お	1



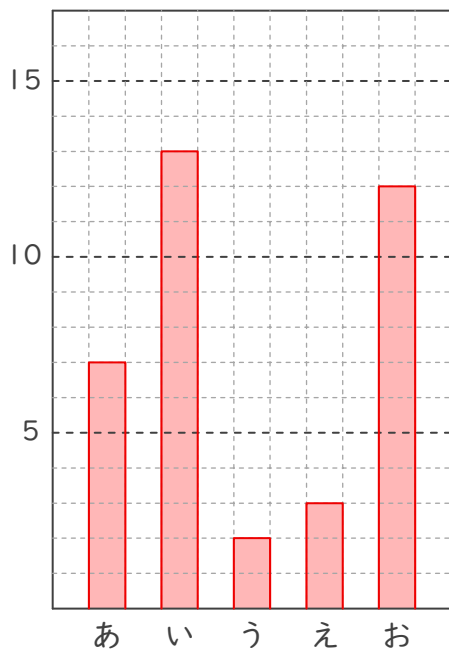
③

あ	7
い	9
う	8
え	6
お	11



②

あ	7
い	13
う	2
え	3
お	12



④

あ	4
い	5
う	9
え	5
お	10

