

free


¥0

期間限定

PICK UP PACKAGE

ピックアップパック

これできる？



- 3年生までに学習する内容からバランスよく収録
- 毎日(平日5日間)の自学にも最適な5枚セット
- 算数が好きな子には、1日1セットの「やり切り」もおすすめ!

小学 3 年生までの内容 -

パック

13

1 まい目 - 小数の大小

理解

2 まい目 - あまりのあるわり算

計算

3 まい目 - 長さの大小 km と m

理解

4 まい目 - 正の字をかいて

グラフ

5 まい目 - かさのかるた

理解



小数の大小

年 組 名前

/20

■ 次の2つの数の大小を不等号(>, <)を使って表しましょう。

① 0.5 0.8

② 0.3 1

③ 0.9 0.7

④ 0.2 0.4

⑤ 0.6 0.1

⑥ 3.3 4.9

⑦ 2.4 1.2

⑧ 5.7 3.1

⑨ 5.4 3.2

⑩ 3.4 4.1

⑪ 2.6 4.8

⑫ 5.5 6.3

⑬ 0.7 1.5

⑭ 3 4.9

⑮ 3.3 2.6

⑯ 3.1 1.7

⑰ 5.6 4.8

⑱ 0.2 2

⑲ 2 2.9

⑳ 2.5 3.8

あまりのあるわり算

年 組 名前

/26

■ つぎのわり算をしましょう。

① $29 \div 4 =$ あまり

② $62 \div 9 =$ あまり

③ $13 \div 3 =$ あまり

④ $19 \div 2 =$ あまり

⑤ $22 \div 5 =$ あまり

⑥ $44 \div 5 =$ あまり

⑦ $17 \div 4 =$ あまり

⑧ $8 \div 5 =$ あまり

⑨ $50 \div 9 =$ あまり

⑩ $21 \div 6 =$ あまり

⑪ $27 \div 8 =$ あまり

⑫ $36 \div 5 =$ あまり

⑬ $21 \div 4 =$ あまり

⑭ $26 \div 3 =$ あまり

⑮ $35 \div 6 =$ あまり

⑯ $78 \div 8 =$ あまり

⑰ $13 \div 5 =$ あまり

⑱ $33 \div 7 =$ あまり

⑲ $22 \div 3 =$ あまり

⑳ $9 \div 7 =$ あまり

㉑ $26 \div 7 =$ あまり

㉒ $44 \div 6 =$ あまり

㉓ $40 \div 6 =$ あまり

㉔ $19 \div 9 =$ あまり

㉕ $51 \div 7 =$ あまり

㉖ $46 \div 8 =$ あまり

長さの大小

年 組 名前

/30

■ 次の2つの長さの大小を等号(=)や不等号(>, <)を使って表しましょう。

(1) 7km 30000m

(2) 9km 80000m

(3) 4km 800m 4200m

(4) 39km 330000m

(5) 340m 3km 800m

(6) 51km 5600m

(7) 60km 600m

(8) 300000m 90km

(9) 60000m 300km

(10) 3000m 30km

(11) 900km 700000m

(12) 50km 3000m

(13) 60000m 50km

(14) 800m 8km

(15) 2300m 2km 600m

(16) 83000m 82km

(17) 80km 70000m

(18) 24000m 25km

(19) 9200m 98km

(20) 40km 400000m

(21) 900km 900000m

(22) 37000m 38km

(23) 7800m 7km 400m

(24) 2000m 2km

(25) 8000m 3km

(26) 6km 600m 67000m

(27) 50000m 800km

(28) 80km 200000m

(29) 70km 70000m

(30) 210m 2km 300m

正の字をかいて

____年 ____組 名前

/11

■ 下のノートは、3年3組の 32 人にきいた、すきなくだものをまとめたものです。

すきなくだもの調べ			3年3組
もも	バナナ	りんご	りんご
バナナ	りんご	みかん	バナナ
メロン	メロン	りんご	バナナ
みかん	いちご	いちご	もも
りんご	いちご	バナナ	いちご
さくらんぼ	いちご	さくらんぼ	
さくらんぼ	みかん	スイカ	
もも	いちご	メロン	
いちご	さくらんぼ	メロン	

① それぞれのくだもの数を、正の字をかいて数えて、表にまとめましょう。

くだもの	正の字	人数(人)	くだもの	正の字	人数(人)
りんご			メロン		
ぶどう			さくらんぼ		
もも			バナナ		
スイカ			いちご		
みかん			パイナップル		

② すきな人がいちばん多いくだものは何ですか。

かさ

年 組 名前

/14

■ 正しい かが が 書かれた カードを えらんで きごう(あ~せ)で 答えましょう。

① 90mL

⑥ 50mL

⑪ 3L 9dL

② 3dL 40mL

⑦ 5dL 20mL

⑫ 3dL 30mL

③ 1dL 10mL

⑧ 5dL 80mL

⑬ 1L 1dL


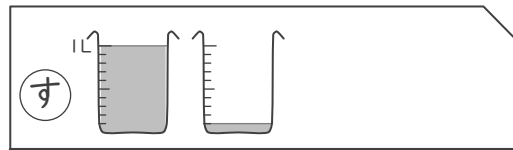
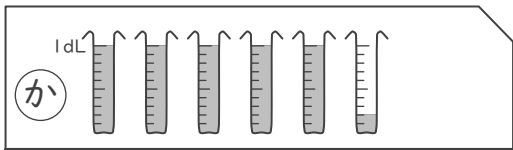
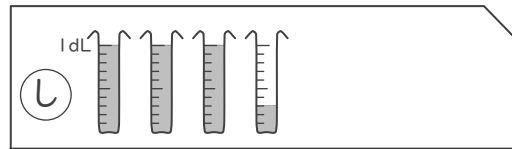
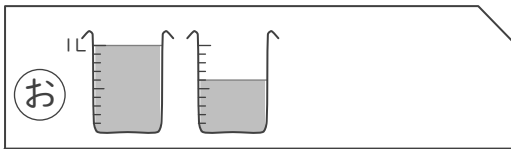
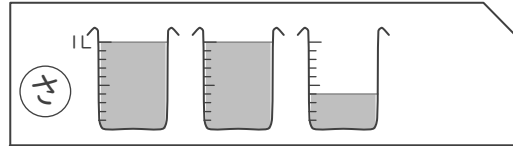
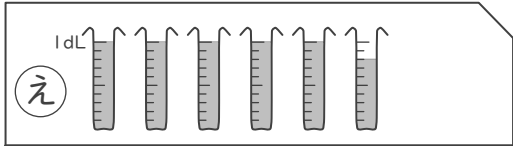
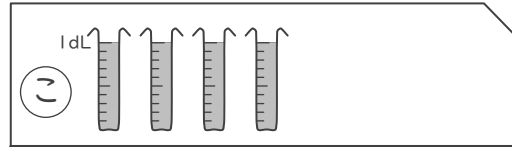
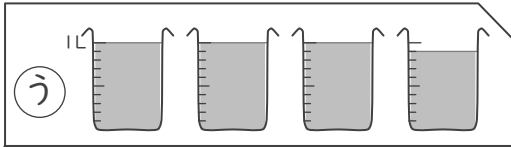
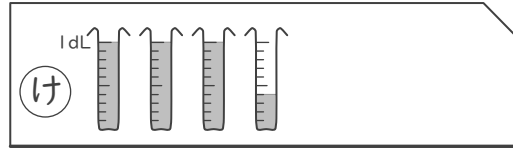
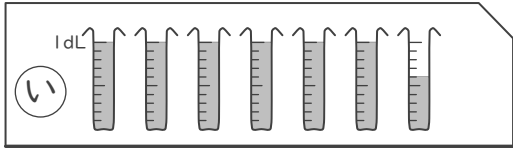
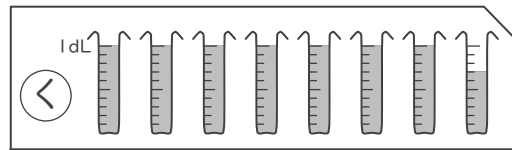
④ 7dL 70mL

⑨ 6dL 60mL

⑭ 4dL

⑤ 2L 4dL

⑩ 1L 6dL



小数の大小

年 組 名前

/20

■ 次の2つの数の大小を不等号(>, <)を使って表しましょう。

① 0.5 < 0.8

② 0.3 < 1

③ 0.9 > 0.7

④ 0.2 < 0.4

⑤ 0.6 > 0.1

⑥ 3.3 < 4.9

⑦ 2.4 > 1.2

⑧ 5.7 > 3.1

⑨ 5.4 > 3.2

⑩ 3.4 < 4.1

⑪ 2.6 < 4.8

⑫ 5.5 < 6.3

⑬ 0.7 < 1.5

⑭ 3 < 4.9

⑮ 3.3 > 2.6

⑯ 3.1 > 1.7

⑰ 5.6 > 4.8

⑱ 0.2 < 2

⑲ 2 < 2.9

⑳ 2.5 < 3.8

あまりのあるわり算

年 組 名前

/26

■ つぎのわり算をしましょう。

① $29 \div 4 = 7$ あまり 1

② $62 \div 9 = 6$ あまり 8

③ $13 \div 3 = 4$ あまり 1

④ $19 \div 2 = 9$ あまり 1

⑤ $22 \div 5 = 4$ あまり 2

⑥ $44 \div 5 = 8$ あまり 4

⑦ $17 \div 4 = 4$ あまり 1

⑧ $8 \div 5 = 1$ あまり 3

⑨ $50 \div 9 = 5$ あまり 5

⑩ $21 \div 6 = 3$ あまり 3

⑪ $27 \div 8 = 3$ あまり 3

⑫ $36 \div 5 = 7$ あまり 1

⑬ $21 \div 4 = 5$ あまり 1

⑭ $26 \div 3 = 8$ あまり 2

⑮ $35 \div 6 = 5$ あまり 5

⑯ $78 \div 8 = 9$ あまり 6

⑰ $13 \div 5 = 2$ あまり 3

⑱ $33 \div 7 = 4$ あまり 5

⑲ $22 \div 3 = 7$ あまり 1

⑳ $9 \div 7 = 1$ あまり 2

㉑ $26 \div 7 = 3$ あまり 5

㉒ $44 \div 6 = 7$ あまり 2

㉓ $40 \div 6 = 6$ あまり 4

㉔ $19 \div 9 = 2$ あまり 1

㉕ $51 \div 7 = 7$ あまり 2

㉖ $46 \div 8 = 5$ あまり 6

長さの大小

年 組 名前

/30

■ 次の2つの長さの大小を等号(=)や不等号(>, <)を使って表しましょう。

- | | | | | | | | |
|------|----------|---|----------|------|----------|---|----------|
| (1) | 7km | < | 30000m | (16) | 83000m | > | 82km |
| (2) | 9km | < | 80000m | (17) | 80km | > | 70000m |
| (3) | 4km 800m | > | 4200m | (18) | 24000m | < | 25km |
| (4) | 39km | < | 330000m | (19) | 9200m | < | 98km |
| (5) | 340m | < | 3km 800m | (20) | 40km | < | 400000m |
| (6) | 51km | > | 5600m | (21) | 900km | = | 900000m |
| (7) | 60km | > | 600m | (22) | 37000m | < | 38km |
| (8) | 300000m | > | 90km | (23) | 7800m | > | 7km 400m |
| (9) | 60000m | < | 300km | (24) | 2000m | = | 2km |
| (10) | 3000m | < | 30km | (25) | 8000m | > | 3km |
| (11) | 900km | > | 700000m | (26) | 6km 600m | < | 67000m |
| (12) | 50km | > | 3000m | (27) | 50000m | < | 800km |
| (13) | 60000m | > | 50km | (28) | 80km | < | 200000m |
| (14) | 800m | < | 8km | (29) | 70km | = | 70000m |
| (15) | 2300m | < | 2km 600m | (30) | 210m | < | 2km 300m |

正の字をかいて

年 組 名前

/11

■ 下のノートは、3年3組の 32 人にきいた、すきなくだものをまとめたものです。

すきなくだもの調べ			3年3組
もも	バナナ	りんご	りんご
バナナ	りんご	みかん	バナナ
メロン	メロン	りんご	バナナ
みかん	いちご	いちご	もも
りんご	いちご	バナナ	いちご
さくらんぼ	いちご	さくらんぼ	
さくらんぼ	みかん	スイカ	
もも	いちご	メロン	
いちご	さくらんぼ	メロン	

① それぞれのくだもの数を、正の字をかいて数えて、表にまとめましょう。

くだもの	正の字	人数(人)	くだもの	正の字	人数(人)
りんご	省略	5	メロン	省略	4
ぶどう	省略	0	さくらんぼ	省略	4
もも	省略	3	バナナ	省略	5
スイカ	省略	1	いちご	省略	7
みかん	省略	3	パイナップル	省略	0

② すきな人がいちばん多いくだものは何ですか。

いちご

■ 正しい かが が 書かれた カードを えらんで きごう(あ~せ)で 答えましょう。

① 90mL

あ

⑥ 50mL

き

⑪ 3L 9dL

う

② 3dL 40mL

け

⑦ 5dL 20mL

か

⑫ 3dL 30mL

し

③ 1dL 10mL

せ

⑧ 5dL 80mL

え

⑬ 1L 1dL

す

④ 7dL 70mL

く

⑨ 6dL 60mL

い

⑭ 4dL

こ

⑤ 2L 4dL

さ

⑩ 1L 6dL

お

