

free


¥0

期間限定

PICK UP PACKAGE

ピックアップパック

これできる？



- 3年生までに学習する内容からバランスよく収録
- 毎日(平日5日間)の自学にも最適な5枚セット
- 算数が好きな子には、1日1セットの「やり切り」もおすすめ!

小学 3 年生までの内容 -

パック

18

1まい目 - あまりのアリナシのまざったわり算

計算

2まい目 - 何倍でしょう

文章

3まい目 - 間の数 何 m でしょう

理解

4まい目 - 重さのひき算

計算

5まい目 - はかりの使い方 kg と g

理解



わり算の練習

年 組 名前

/26

■ わり算をしましょう。あまりがないときは、チェック(✓)を、あるときはその数を書きましょう。

① $9 \div 3 =$ チェック あまりなし 数字を書く
 あまり

② $17 \div 2 =$ チェック あまりなし 数字を書く
 あまり

③ $30 \div 5 =$ チェック あまりなし 数字を書く
 あまり

④ $19 \div 8 =$ チェック あまりなし 数字を書く
 あまり

⑤ $15 \div 2 =$ チェック あまりなし 数字を書く
 あまり

⑥ $35 \div 7 =$ チェック あまりなし 数字を書く
 あまり

⑦ $17 \div 4 =$ チェック あまりなし 数字を書く
 あまり

⑧ $81 \div 9 =$ チェック あまりなし 数字を書く
 あまり

⑨ $78 \div 8 =$ チェック あまりなし 数字を書く
 あまり

⑩ $24 \div 3 =$ チェック あまりなし 数字を書く
 あまり

⑪ $8 \div 2 =$ チェック あまりなし 数字を書く
 あまり

⑫ $34 \div 6 =$ チェック あまりなし 数字を書く
 あまり

⑬ $15 \div 5 =$ チェック あまりなし 数字を書く
 あまり

⑭ $59 \div 8 =$ チェック あまりなし 数字を書く
 あまり

⑮ $9 \div 9 =$ チェック あまりなし 数字を書く
 あまり

⑯ $65 \div 9 =$ チェック あまりなし 数字を書く
 あまり

⑰ $18 \div 6 =$ チェック あまりなし 数字を書く
 あまり

⑱ $20 \div 3 =$ チェック あまりなし 数字を書く
 あまり

⑲ $49 \div 6 =$ チェック あまりなし 数字を書く
 あまり

⑳ $25 \div 5 =$ チェック あまりなし 数字を書く
 あまり

㉑ $36 \div 8 =$ チェック あまりなし 数字を書く
 あまり

㉒ $63 \div 7 =$ チェック あまりなし 数字を書く
 あまり

㉓ $5 \div 2 =$ チェック あまりなし 数字を書く
 あまり

㉔ $18 \div 9 =$ チェック あまりなし 数字を書く
 あまり

㉕ $36 \div 4 =$ チェック あまりなし 数字を書く
 あまり

㉖ $2 \div 2 =$ チェック あまりなし 数字を書く
 あまり

何倍でしょう

年 組 名前

/ 6

- (1) かんには24こ、ふくろには3このあめが入っています。

かんに入っているあめの数は、ふくろにはいっているあめの数の何倍ですか。

(式)

倍

- (2) 去年は3さつ、今年は12さつの本を読みました。

今年読んだ本の数は、去年読んだ本の数の何倍ですか。

(式)

倍

- (3) 青色のリボンは40m、黒色のリボンは8mあります。

青色のリボンの長さは黒色のリボンの長さの何倍ですか。

(式)

倍

- (4) はこには18まい、ふくろには3まいのクッキーが入っています。

はこに入っているクッキーの数は、ふくろにはいっているクッキーの数の何倍ですか。

(式)

倍

- (5) 赤色の色紙は7まい、黄色の色紙は42まいあります。

黄色の色紙の数は赤色の色紙の数の何倍ですか。

(式)

倍

- (6) 緑色の車のおもちゃは4m、水色の車のおもちゃは16m走りました。

水色の車のおもちゃは緑色の車のおもちゃの何倍の長さを走りましたか。

(式)

倍

間の数

年 組 名前

/ 4

- ① 9本の木を1列に並べて植えます。

木を7m ずつはなして植えるとき、両はしの木の間は何mになりますか。

m

- ② 11本の木を1列に並べて植えます。

木を6m ずつはなして植えるとき、両はしの木の間は何mになりますか。

m

- ③ 14本の木を1列に並べて植えます。

木を2m ずつはなして植えるとき、両はしの木の間は何mになりますか。

m

- ④ 16本の木を1列に並べて植えます。

木を4m ずつはなして植えるとき、両はしの木の間は何mになりますか。

m

重さのひき算

年 組 名前

/14

■ 重さのひき算をしましょう。

① $1\text{kg } 400\text{g} - 800\text{g} =$

② $7\text{kg} - 4\text{kg } 900\text{g} =$

③ $6\text{kg} - 5\text{kg } 500\text{g} =$

④ $4\text{kg } 600\text{g} - 900\text{g} =$

⑤ $3\text{kg } 700\text{g} - 2\text{kg } 900\text{g} =$

⑥ $6\text{kg } 800\text{g} - 5\text{kg } 800\text{g} =$

⑦ $6\text{kg } 700\text{g} - 3\text{kg} =$

⑧ $5\text{kg } 200\text{g} - 4\text{kg } 100\text{g} =$

⑨ $1\text{kg } 100\text{g} - 500\text{g} =$

⑩ $6\text{kg } 200\text{g} - 3\text{kg } 600\text{g} =$

⑪ $3\text{kg} - 1\text{kg } 700\text{g} =$

⑫ $900\text{g} - 400\text{g} =$

⑬ $8\text{kg } 300\text{g} - 5\text{kg } 400\text{g} =$

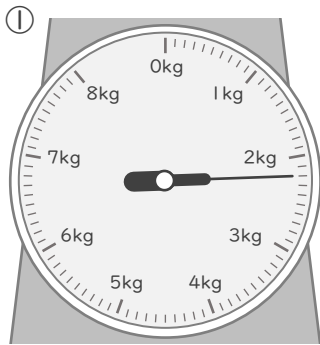
⑭ $8\text{kg } 400\text{g} - 4\text{kg } 500\text{g} =$

はかりの使い方

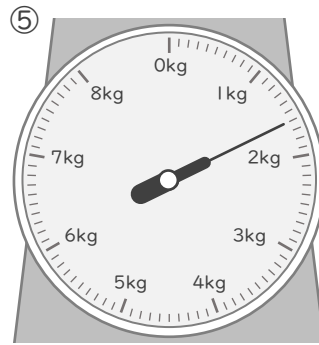
年 組 名前

/ 8

■ はかりは 何kg 何g をさしていますか。



kg g



kg g



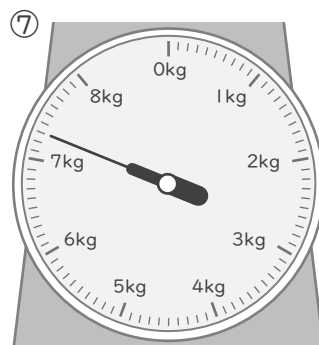
kg g



kg g



kg g



kg g



kg g



kg g

わり算の練習

年 組 名前

/26

■ わり算をしましょう。あまりがないときは、チェック(✓)を、あるときはその数を書きましょう。

① $9 \div 3 =$ チェック ありなし 数字を書く
 あまり →

② $17 \div 2 =$ チェック ありなし 数字を書く
 あまり →

③ $30 \div 5 =$ チェック ありなし 数字を書く
 あまり →

④ $19 \div 8 =$ チェック ありなし 数字を書く
 あまり →

⑤ $15 \div 2 =$ チェック ありなし 数字を書く
 あまり →

⑥ $35 \div 7 =$ チェック ありなし 数字を書く
 あまり →

⑦ $17 \div 4 =$ チェック ありなし 数字を書く
 あまり →

⑧ $81 \div 9 =$ チェック ありなし 数字を書く
 あまり →

⑨ $78 \div 8 =$ チェック ありなし 数字を書く
 あまり →

⑩ $24 \div 3 =$ チェック ありなし 数字を書く
 あまり →

⑪ $8 \div 2 =$ チェック ありなし 数字を書く
 あまり →

⑫ $34 \div 6 =$ チェック ありなし 数字を書く
 あまり →

⑬ $15 \div 5 =$ チェック ありなし 数字を書く
 あまり →

⑭ $59 \div 8 =$ チェック ありなし 数字を書く
 あまり →

⑮ $9 \div 9 =$ チェック ありなし 数字を書く
 あまり →

⑯ $65 \div 9 =$ チェック ありなし 数字を書く
 あまり →

⑰ $18 \div 6 =$ チェック ありなし 数字を書く
 あまり →

⑱ $20 \div 3 =$ チェック ありなし 数字を書く
 あまり →

⑲ $49 \div 6 =$ チェック ありなし 数字を書く
 あまり →

⑳ $25 \div 5 =$ チェック ありなし 数字を書く
 あまり →

㉑ $36 \div 8 =$ チェック ありなし 数字を書く
 あまり →

㉒ $63 \div 7 =$ チェック ありなし 数字を書く
 あまり →

㉓ $5 \div 2 =$ チェック ありなし 数字を書く
 あまり →

㉔ $18 \div 9 =$ チェック ありなし 数字を書く
 あまり →

㉕ $36 \div 4 =$ チェック ありなし 数字を書く
 あまり →

㉖ $2 \div 2 =$ チェック ありなし 数字を書く
 あまり →

何倍でしょう

年 組 名前

/6

- (1) かんには24こ、ふくろには3このあめが入っています。

かんに入っているあめの数は、ふくろにはいつているあめの数の何倍ですか。

(式)

$$24 \div 3 = 8$$

8 倍

- (2) 去年は3さつ、今年は12さつの本を読みました。

今年読んだ本の数は、去年読んだ本の数の何倍ですか。

(式)

$$12 \div 3 = 4$$

4 倍

- (3) 青色のリボンは40m、黒色のリボンは8mあります。

青色のリボンの長さは黒色のリボンの長さの何倍ですか。

(式)

$$40 \div 8 = 5$$

5 倍

- (4) はこには18まい、ふくろには3まいのクッキーが入っています。

はこに入っているクッキーの数は、ふくろにはいつているクッキーの数の何倍ですか。

(式)

$$18 \div 3 = 6$$

6 倍

- (5) 赤色の色紙は7まい、黄色の色紙は42まいあります。

黄色の色紙の数は赤色の色紙の数の何倍ですか。

(式)

$$42 \div 7 = 6$$

6 倍

- (6) 緑色の車のおもちゃは4m、水色の車のおもちゃは16m走りました。

水色の車のおもちゃは緑色の車のおもちゃの何倍の長さを走りましたか。

(式)

$$16 \div 4 = 4$$

4 倍

間の数

年 組 名前

/ 4

- ① 9本の木を1列に並べて植えます。

木を7m ずつはなして植えるとき、両はしの木の間は何mになりますか。

9本の木の間は全部で8か所

$$8 \times 7 = 56$$

56 m

- ② 11本の木を1列に並べて植えます。

木を6m ずつはなして植えるとき、両はしの木の間は何mになりますか。

11本の木の間は全部で10か所

$$10 \times 6 = 60$$

60 m

- ③ 14本の木を1列に並べて植えます。

木を2m ずつはなして植えるとき、両はしの木の間は何mになりますか。

14本の木の間は全部で13か所

$$13 \times 2 = 26$$

26 m

- ④ 16本の木を1列に並べて植えます。

木を4m ずつはなして植えるとき、両はしの木の間は何mになりますか。

16本の木の間は全部で15か所

$$15 \times 4 = 60$$

60 m

重さのひき算

年 組 名前

/14

■ 重さのひき算をしましょう。

① $1\text{ kg } 400\text{ g} - 800\text{ g} =$ 600 g

② $7\text{ kg} - 4\text{ kg } 900\text{ g} =$ 2 kg 100 g

③ $6\text{ kg} - 5\text{ kg } 500\text{ g} =$ 500 g

④ $4\text{ kg } 600\text{ g} - 900\text{ g} =$ 3 kg 700 g

⑤ $3\text{ kg } 700\text{ g} - 2\text{ kg } 900\text{ g} =$ 800 g

⑥ $6\text{ kg } 800\text{ g} - 5\text{ kg } 800\text{ g} =$ 1 kg

⑦ $6\text{ kg } 700\text{ g} - 3\text{ kg} =$ 3 kg 700 g

⑧ $5\text{ kg } 200\text{ g} - 4\text{ kg } 100\text{ g} =$ 1 kg 100 g

⑨ $1\text{ kg } 100\text{ g} - 500\text{ g} =$ 600 g

⑩ $6\text{ kg } 200\text{ g} - 3\text{ kg } 600\text{ g} =$ 2 kg 600 g

⑪ $3\text{ kg} - 1\text{ kg } 700\text{ g} =$ 1 kg 300 g

⑫ $900\text{ g} - 400\text{ g} =$ 500 g

⑬ $8\text{ kg } 300\text{ g} - 5\text{ kg } 400\text{ g} =$ 2 kg 900 g

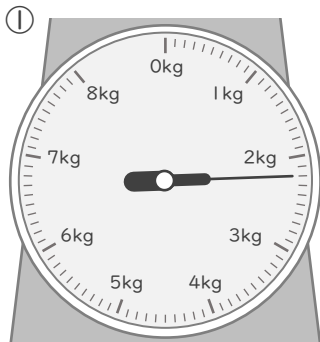
⑭ $8\text{ kg } 400\text{ g} - 4\text{ kg } 500\text{ g} =$ 3 kg 900 g

はかりの使い方

年 組 名前

/ 8

■ はかりは 何kg 何g をさしていますか。



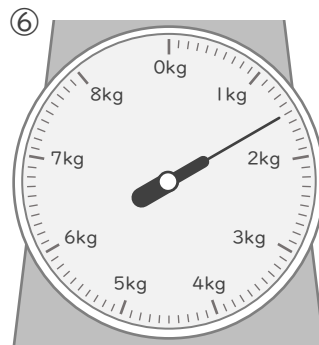
2 kg 200 g



1 kg 600 g



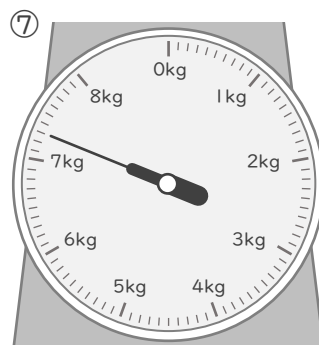
4 kg 800 g



1 kg 500 g



3 kg 400 g



7 kg 300 g



6 kg 100 g



5 kg 900 g