

ドットプロット

年 組 名前

/ 2

■ 下の記録は、6年1組と6年2組で行われたソフトボール投げの結果を表したものです。

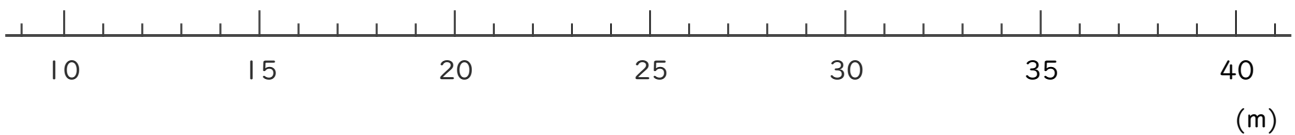
6年1組の記録

番号	きょり(m)	番号	きょり(m)
①	24	⑮	37
②	37	⑯	35
③	29	⑰	32
④	35	⑱	29
⑤	27	⑲	25
⑥	36	⑳	27
⑦	30	㉑	33
⑧	25	㉒	27
⑨	33	㉓	26
⑩	19	㉔	28
⑪	36	㉕	27
⑫	28		
⑬	21		
⑭	21		

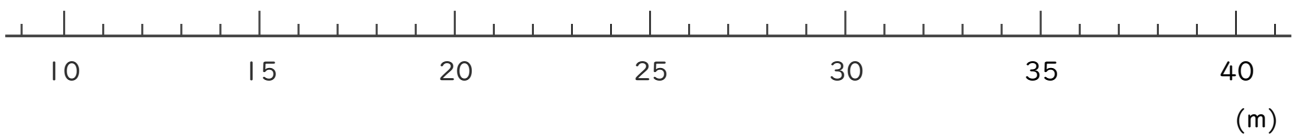
6年2組の記録

番号	きょり(m)	番号	きょり(m)
①	20	⑮	17
②	20	⑯	14
③	24	⑰	28
④	21	⑱	17
⑤	20	⑲	21
⑥	18	⑳	30
⑦	24	㉑	27
⑧	19	㉒	23
⑨	20	㉓	21
⑩	20	㉔	22
⑪	16	㉕	14
⑫	25	㉖	18
⑬	15	㉗	25
⑭	28		

① 6年1組全員の記録をドットプロットを使って数直線に表しましょう。



② 6年2組全員の記録をドットプロットを使って数直線に表しましょう。



ドットプロット

年 組 名前

/ 2

■ 下の記録は、6年1組と6年2組で行われたソフトボール投げの結果を表したものです。

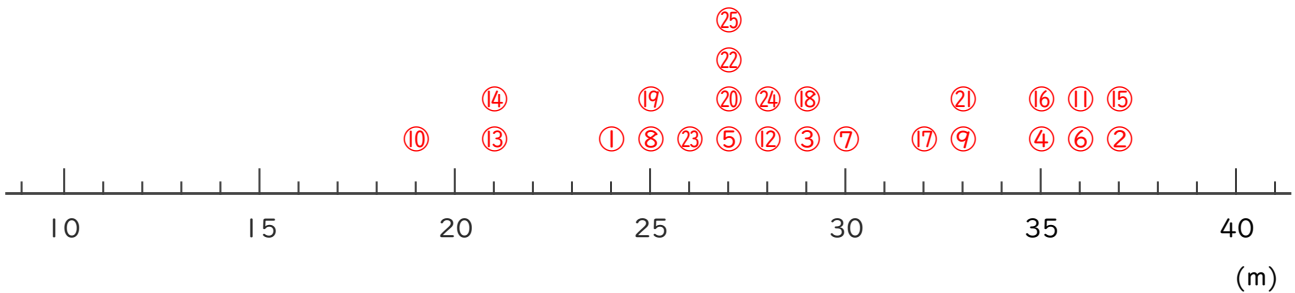
6年1組の記録

番号	きょり(m)	番号	きょり(m)
①	24	⑮	37
②	37	⑯	35
③	29	⑰	32
④	35	⑱	29
⑤	27	⑲	25
⑥	36	⑳	27
⑦	30	㉑	33
⑧	25	㉒	27
⑨	33	㉓	26
⑩	19	㉔	28
⑪	36	㉕	27
⑫	28		
⑬	21		
⑭	21		

6年2組の記録

番号	きょり(m)	番号	きょり(m)
①	20	⑮	17
②	20	⑯	14
③	24	⑰	28
④	21	⑱	17
⑤	20	⑲	21
⑥	18	⑳	30
⑦	24	㉑	27
⑧	19	㉒	23
⑨	20	㉓	21
⑩	20	㉔	22
⑪	16	㉕	14
⑫	25	㉖	18
⑬	15	㉗	25
⑭	28		

① 6年1組全員の記録をドットプロットを使って数直線に表しましょう。



② 6年2組全員の記録をドットプロットを使って数直線に表しましょう。

