

ドットプロット

年 組 名前

/ 2

■ 下の記録は、6年1組と6年2組で行われたソフトボール投げの結果を表したものです。

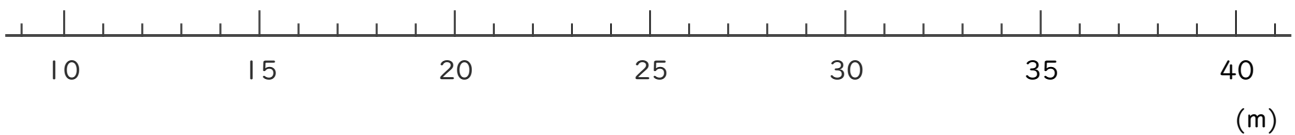
6年1組の記録

番号	きより(m)	番号	きより(m)
①	33	⑮	25
②	26	⑯	27
③	34	⑰	26
④	24	⑱	32
⑤	31	⑲	38
⑥	34	⑳	30
⑦	36	㉑	27
⑧	21	㉒	28
⑨	21	㉓	27
⑩	32	㉔	22
⑪	29	㉕	30
⑫	24	㉖	27
⑬	27	㉗	26
⑭	24	㉘	23

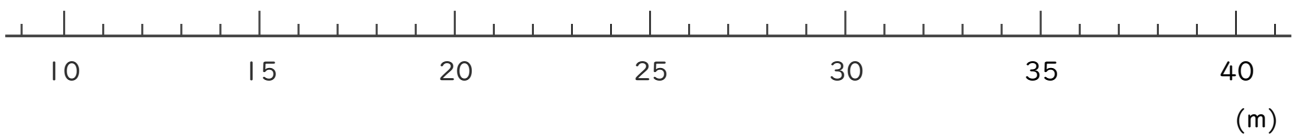
6年2組の記録

番号	きより(m)	番号	きより(m)
①	30	⑮	24
②	33	⑯	36
③	28	⑰	29
④	32	⑱	29
⑤	29	⑲	31
⑥	33	⑳	30
⑦	29	㉑	29
⑧	26	㉒	35
⑨	34	㉓	32
⑩	28	㉔	32
⑪	20		
⑫	27		
⑬	22		
⑭	25		

① 6年1組全員の記録をドットプロットを使って数直線に表しましょう。



② 6年2組全員の記録をドットプロットを使って数直線に表しましょう。



ドットプロット

年 組 名前

/ 2

■ 下の記録は、6年1組と6年2組で行われたソフトボール投げの結果を表したものです。

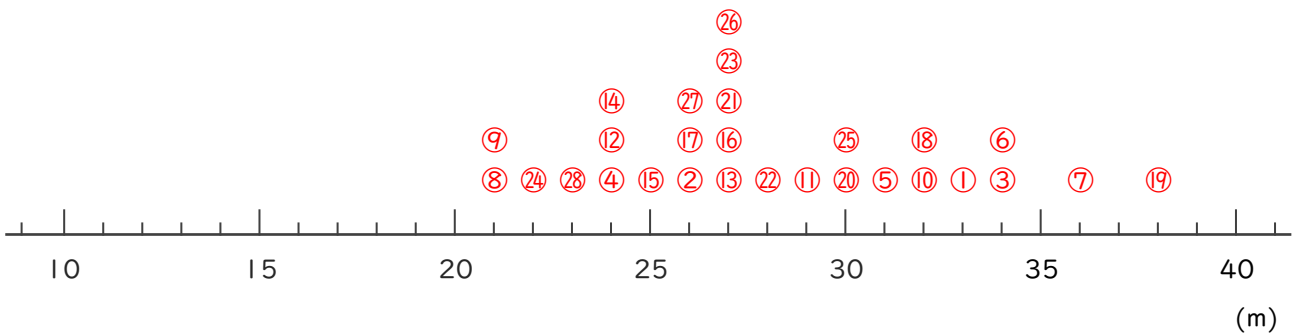
6年1組の記録

番号	きょり(m)	番号	きょり(m)
①	33	⑮	25
②	26	⑯	27
③	34	⑰	26
④	24	⑱	32
⑤	31	⑲	38
⑥	34	⑳	30
⑦	36	㉑	27
⑧	21	㉒	28
⑨	21	㉓	27
⑩	32	㉔	22
⑪	29	㉕	30
⑫	24	㉖	27
⑬	27	㉗	26
⑭	24	㉘	23

6年2組の記録

番号	きょり(m)	番号	きょり(m)
①	30	⑮	24
②	33	⑯	36
③	28	⑰	29
④	32	⑱	29
⑤	29	⑲	31
⑥	33	⑳	30
⑦	29	㉑	29
⑧	26	㉒	35
⑨	34	㉓	32
⑩	28	㉔	32
⑪	20		
⑫	27		
⑬	22		
⑭	25		

① 6年1組全員の記録をドットプロットを使って数直線に表しましょう。



② 6年2組全員の記録をドットプロットを使って数直線に表しましょう。

