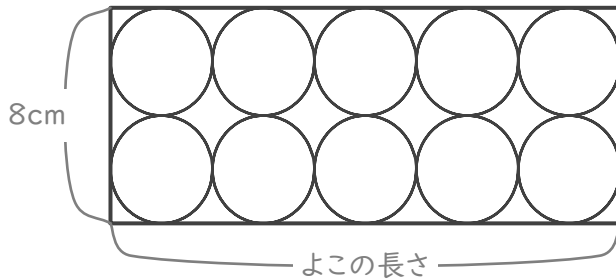


円と長方形

年 組 名前

/ 6

■ 下の図のように、長方形の中に10この円がぴったり入っています。



① 円の直径は何cmですか。

cm

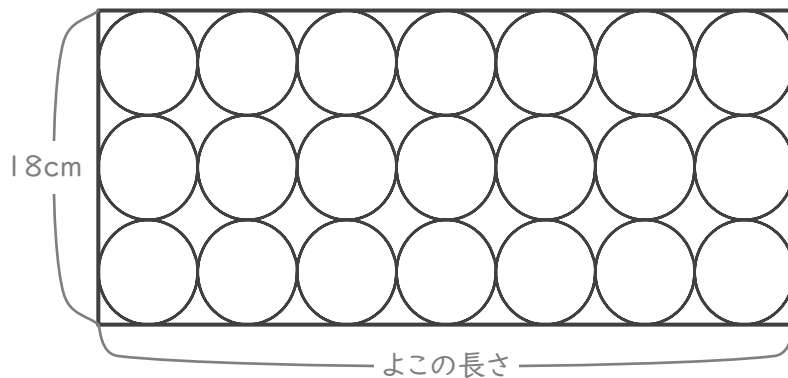
② 円の半径は何cmですか。

cm

③ 長方形のよこの長さは何cmですか。

cm

■ 下の図のように、長方形の中に21この円がぴったり入っています。



④ 円の直径は何cmですか。

cm

⑤ 円の半径は何cmですか。

cm

⑥ 長方形のよこの長さは何cmですか。

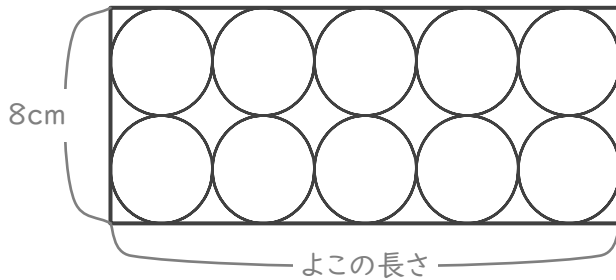
cm

円と長方形

年 組 名前

/ 6

■ 下の図のように、長方形の中に10この円がぴったり入っています。



① 円の直径は何cmですか。

$$8 \div 2 = 4$$

4 cm

② 円の半径は何cmですか。

$$4 \div 2 = 2$$

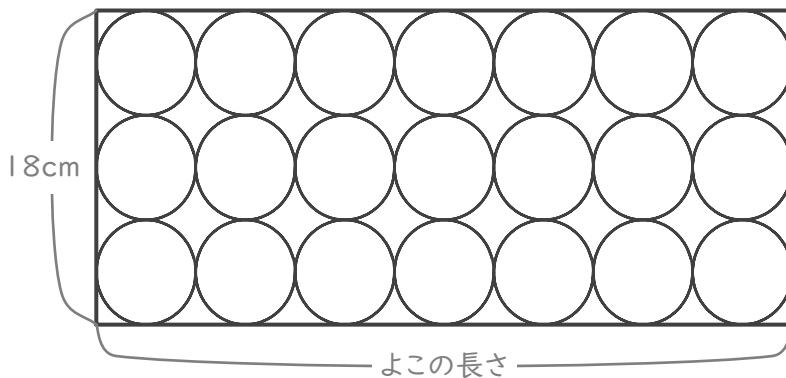
2 cm

③ 長方形のよこの長さは何cmですか。

$$4 \times 5 = 20$$

20 cm

■ 下の図のように、長方形の中に21この円がぴったり入っています。



④ 円の直径は何cmですか。

$$18 \div 3 = 6$$

6 cm

⑤ 円の半径は何cmですか。

$$6 \div 2 = 3$$

3 cm

⑥ 長方形のよこの長さは何cmですか。

$$6 \times 7 = 42$$

42 cm