

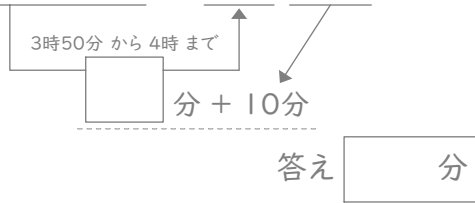
# 時こくと時間

年 組 名前

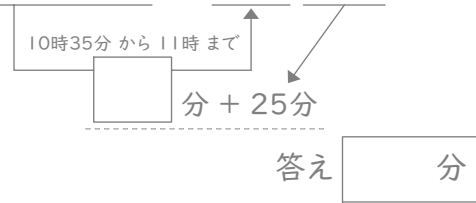
/24

■ 四角に数字をあてはめて、間の時間を考えましょう。

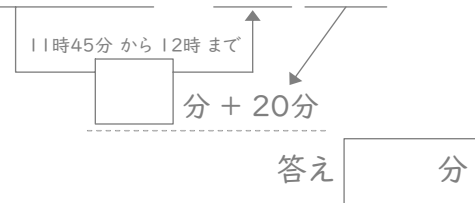
① 3時50分と4時10分の間



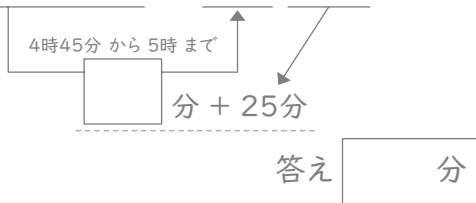
⑦ 10時35分と11時25分の間



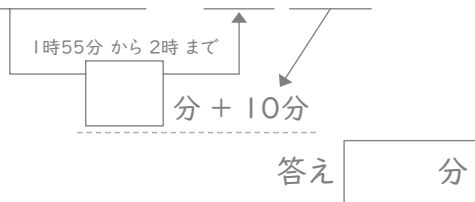
② 11時45分と12時20分の間



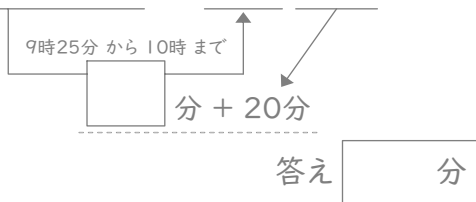
⑧ 4時45分と5時25分の間



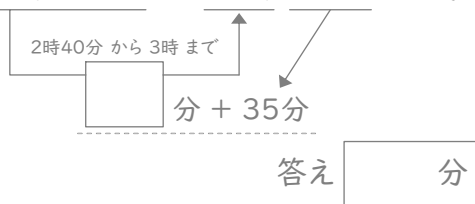
③ 1時55分と2時10分の間



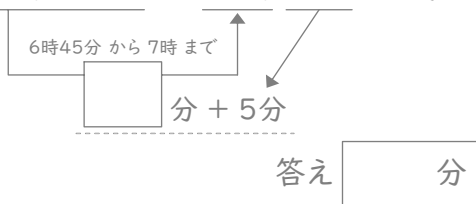
⑨ 9時25分と10時20分の間



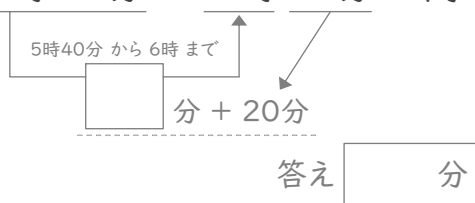
④ 2時40分と3時35分の間



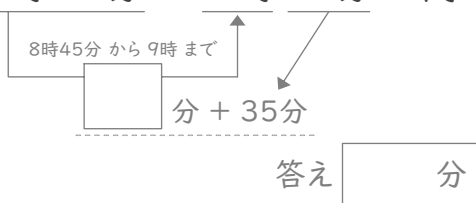
⑩ 6時45分と7時5分の間



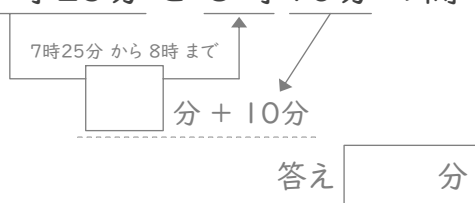
⑤ 5時40分と6時20分の間



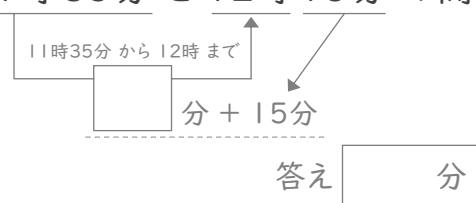
⑪ 8時45分と9時35分の間



⑥ 7時25分と8時10分の間



⑫ 11時35分と12時15分の間



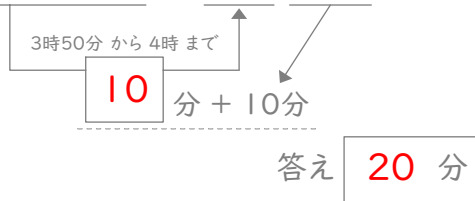
# 時こくと時間

年 組 名前

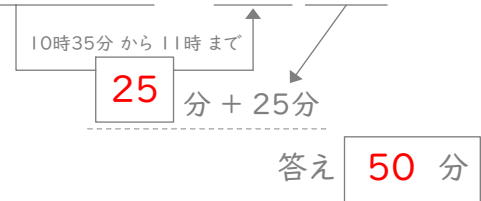
/24

■ 四角に数字をあてはめて、間の時間を考えましょう。

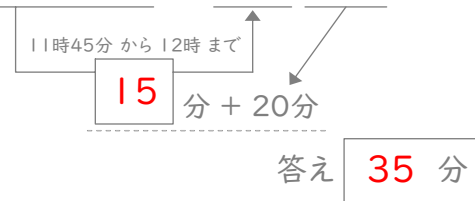
① 3時50分と4時10分の間



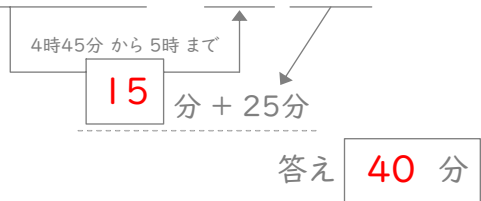
⑦ 10時35分と11時25分の間



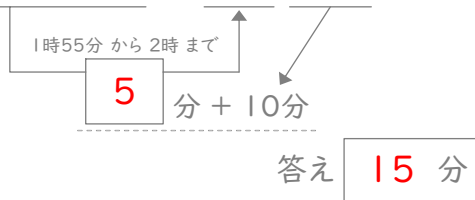
② 11時45分と12時20分の間



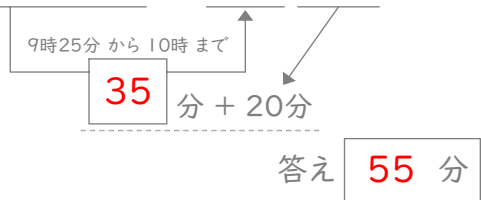
⑧ 4時45分と5時25分の間



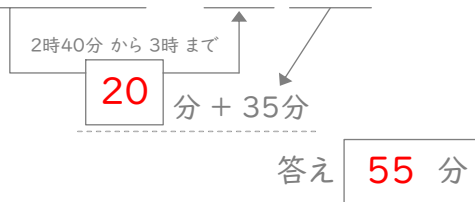
③ 1時55分と2時10分の間



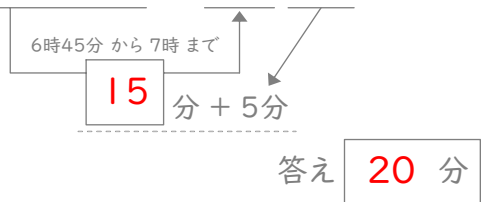
⑨ 9時25分と10時20分の間



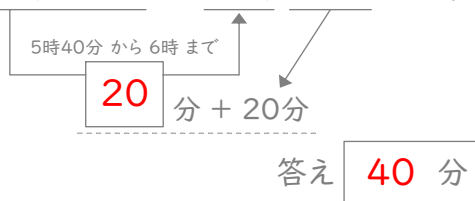
④ 2時40分と3時35分の間



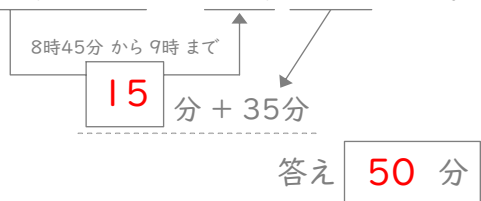
⑩ 6時45分と7時5分の間



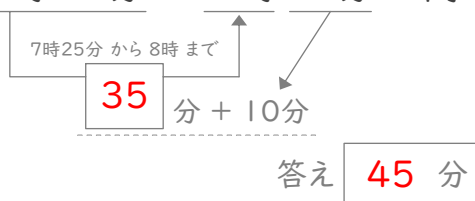
⑤ 5時40分と6時20分の間



⑪ 8時45分と9時35分の間



⑥ 7時25分と8時10分の間



⑫ 11時35分と12時15分の間

