


わり算の考え方

年 組 名前

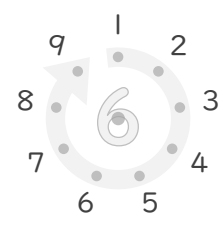
/19

■ ☆ にならって、まん中の点を、わり算の答えになる点とつなぎましょう。


☆ $24 \div 3$



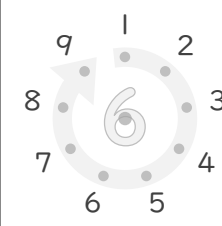
① $36 \div 6$




② $49 \div 7$




③ $54 \div 6$



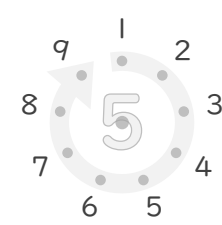
④ $27 \div 9$



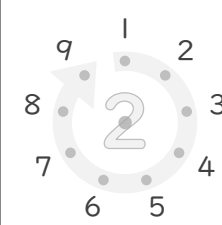
⑤ $9 \div 3$




⑥ $10 \div 5$




⑦ $6 \div 2$




⑧ $64 \div 8$



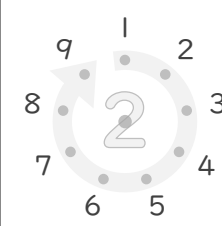
⑨ $56 \div 7$




⑩ $24 \div 4$




⑪ $8 \div 2$



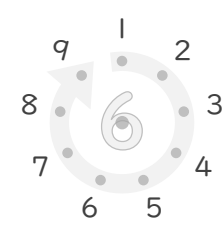
⑫ $4 \div 2$




⑬ $35 \div 5$




⑭ $18 \div 6$



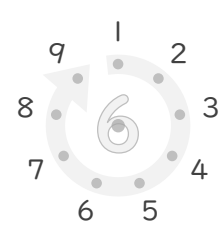
⑮ $14 \div 7$



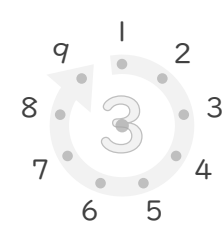
⑯ $18 \div 9$




⑰ $42 \div 6$



⑱ $12 \div 3$



⑲ $16 \div 4$



わり算の考え方

年 組 名前

/19

■ ☆ にならって、まん中の点を、わり算の答えになる点とつなぎましょう。

