

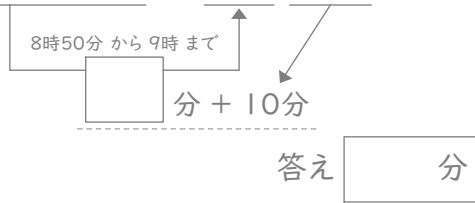
時こくと時間

年 組 名前

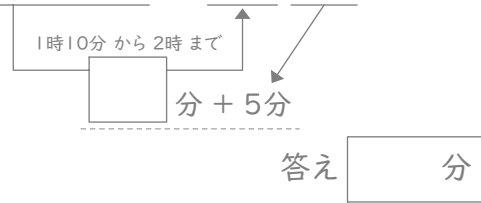
/24

■ 四角に数字をあてはめて、間の時間を考えましょう。

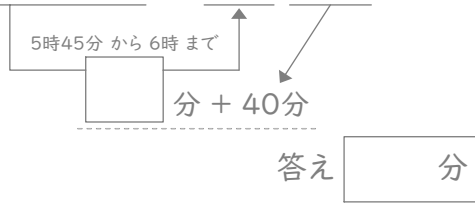
① 8時50分と9時10分の間



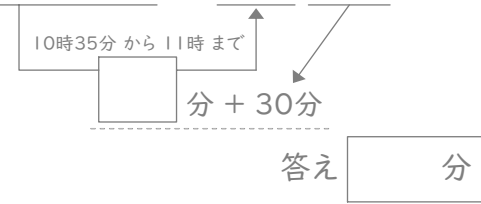
⑦ 1時10分と2時5分の間



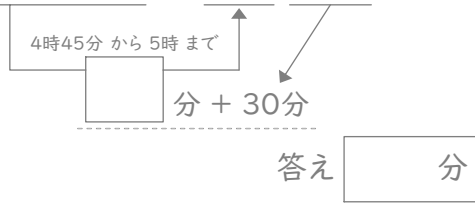
② 5時45分と6時40分の間



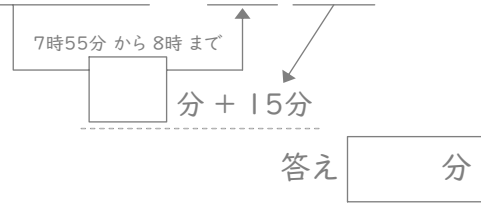
⑧ 10時35分と11時30分の間



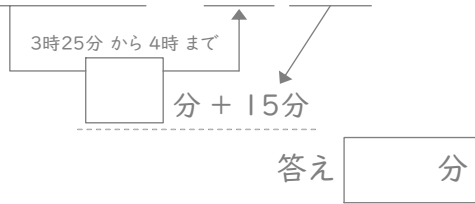
③ 4時45分と5時30分の間



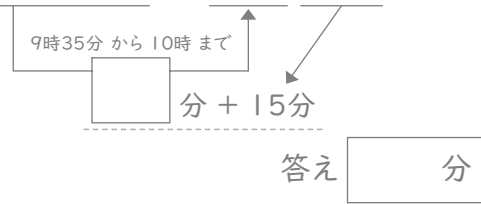
⑨ 7時55分と8時15分の間



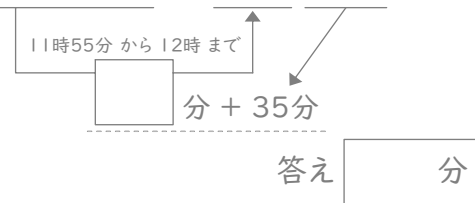
④ 3時25分と4時15分の間



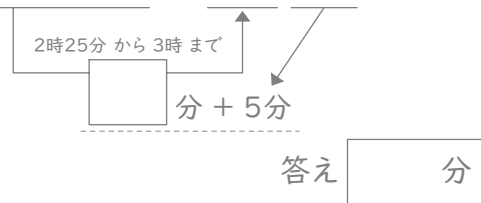
⑩ 9時35分と10時15分の間



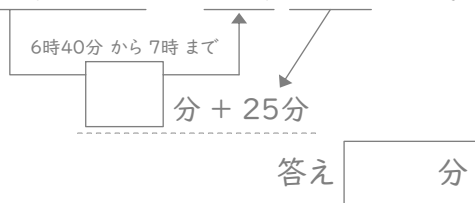
⑤ 11時55分と12時35分の間



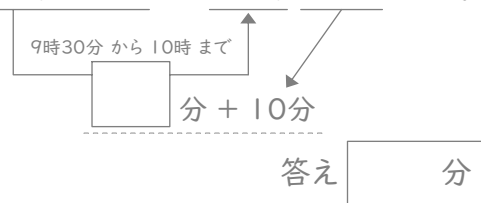
⑪ 2時25分と3時5分の間



⑥ 6時40分と7時25分の間



⑫ 9時30分と10時10分の間



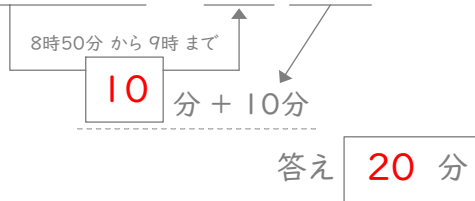
時こくと時間

年 組 名前

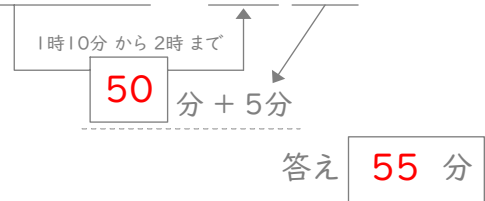
/24

■ 四角に数字をあてはめて、間の時間を考えましょう。

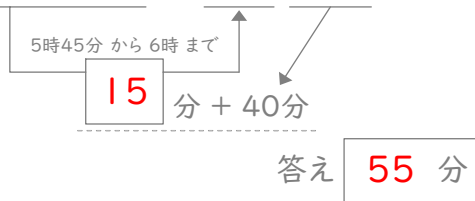
① 8時50分と9時10分の間



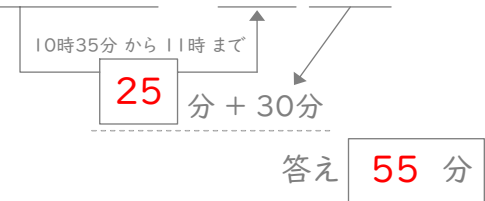
⑦ 1時10分と2時5分の間



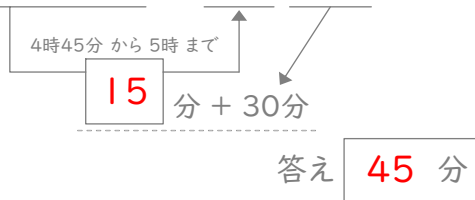
② 5時45分と6時40分の間



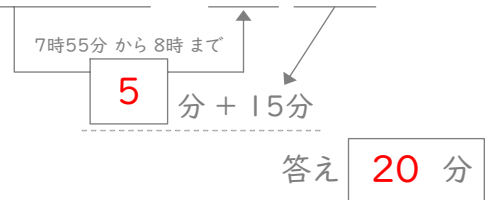
⑧ 10時35分と11時30分の間



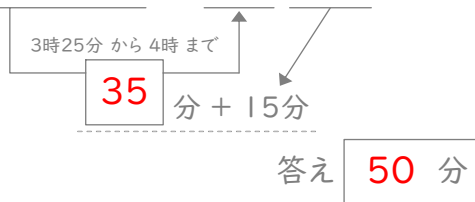
③ 4時45分と5時30分の間



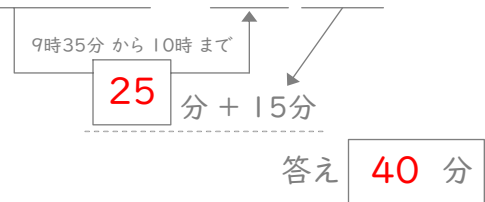
⑨ 7時55分と8時15分の間



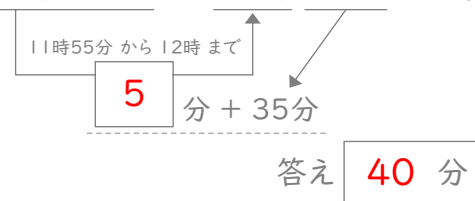
④ 3時25分と4時15分の間



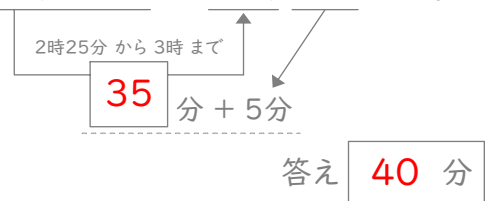
⑩ 9時35分と10時15分の間



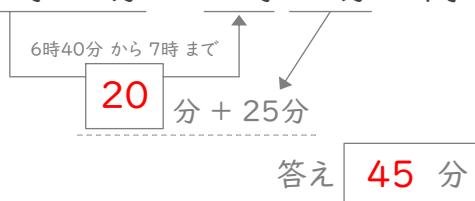
⑤ 11時55分と12時35分の間



⑪ 2時25分と3時5分の間



⑥ 6時40分と7時25分の間



⑫ 9時30分と10時10分の間

