

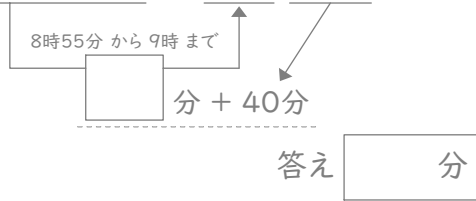
時こくと時間

年 組 名前

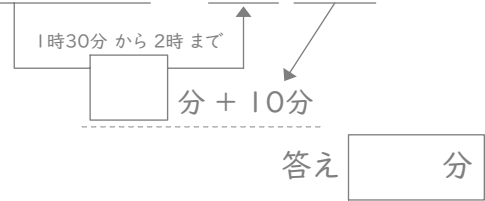
/24

■ 四角に数字をあてはめて、間の時間を考えましょう。

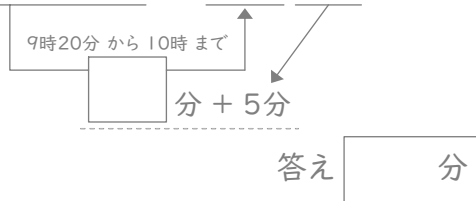
① 8時55分と9時40分の間



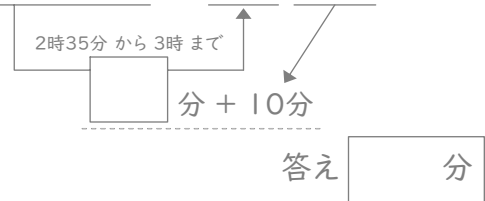
⑦ 1時30分と2時10分の間



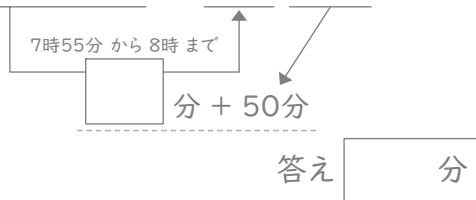
② 9時20分と10時5分の間



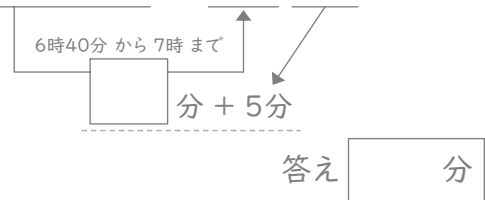
⑧ 2時35分と3時10分の間



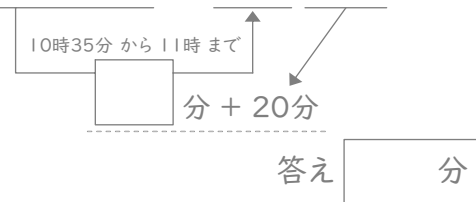
③ 7時55分と8時50分の間



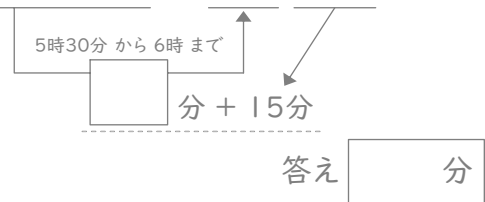
⑨ 6時40分と7時5分の間



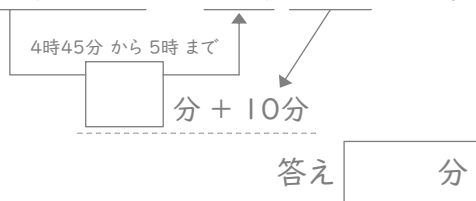
④ 10時35分と11時20分の間



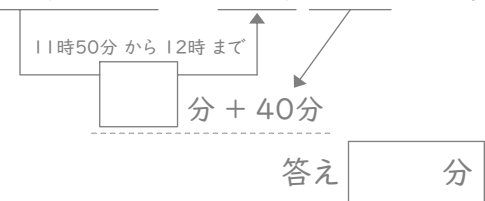
⑩ 5時30分と6時15分の間



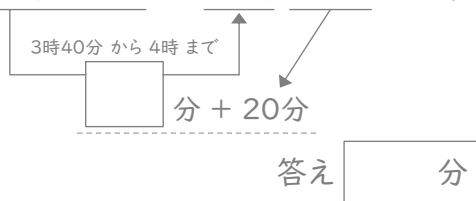
⑤ 4時45分と5時10分の間



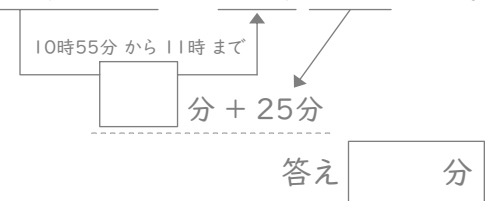
⑪ 11時50分と12時40分の間



⑥ 3時40分と4時20分の間



⑫ 10時55分と11時25分の間



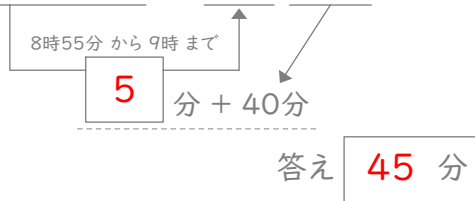
時こくと時間

年 組 名前

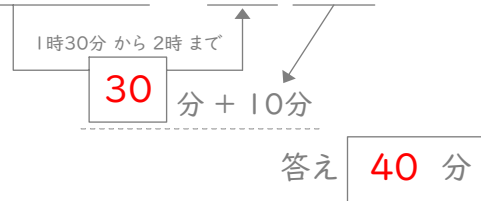
/24

■ 四角に数字をあてはめて、間の時間を考えましょう。

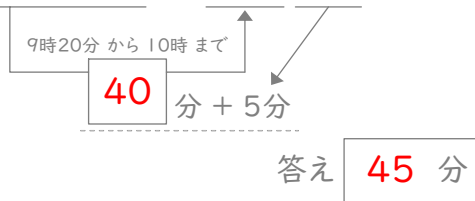
① 8時55分と9時40分の間



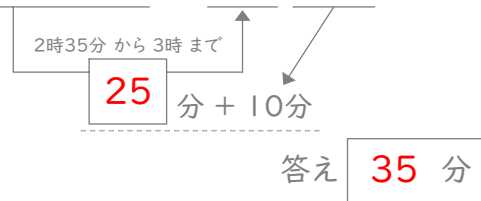
⑦ 1時30分と2時10分の間



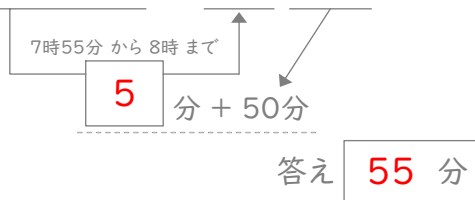
② 9時20分と10時5分の間



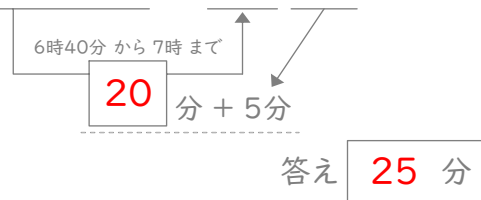
⑧ 2時35分と3時10分の間



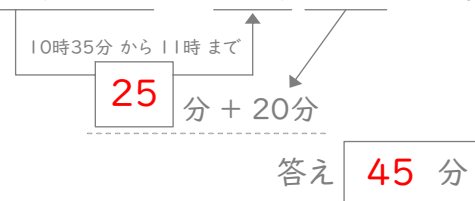
③ 7時55分と8時50分の間



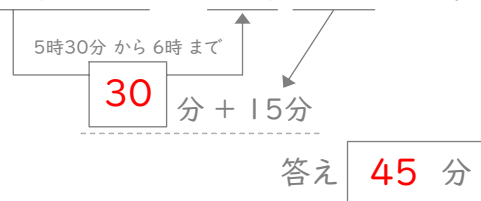
⑨ 6時40分と7時5分の間



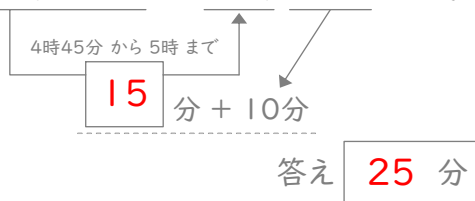
④ 10時35分と11時20分の間



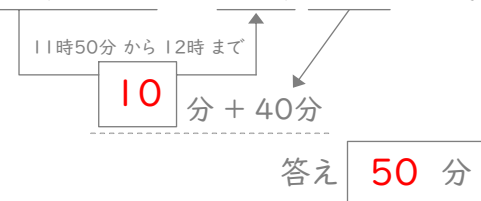
⑩ 5時30分と6時15分の間



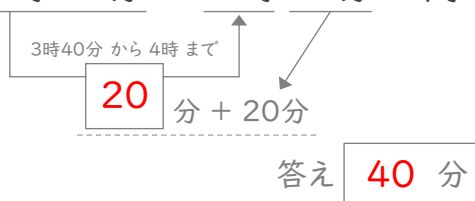
⑤ 4時45分と5時10分の間



⑪ 11時50分と12時40分の間



⑥ 3時40分と4時20分の間



⑫ 10時55分と11時25分の間

