

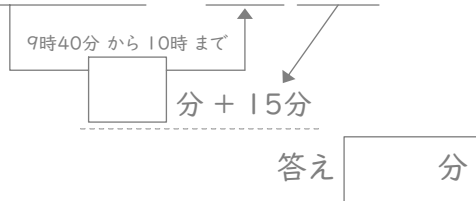
時こくと時間

年 組 名前

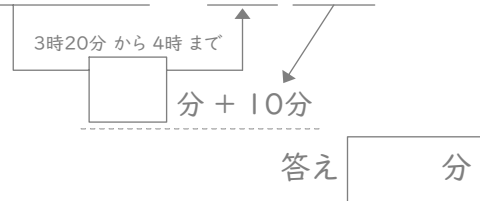
/24

■ 四角に数字をあてはめて、間の時間を考えましょう。

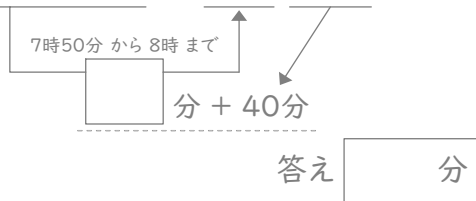
① 9時40分と10時15分の間



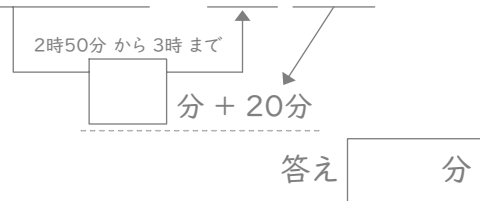
⑦ 3時20分と4時10分の間



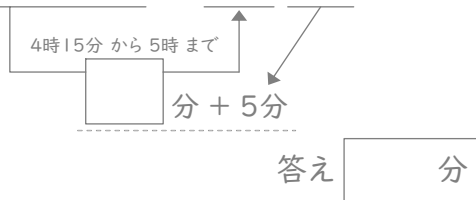
② 7時50分と8時40分の間



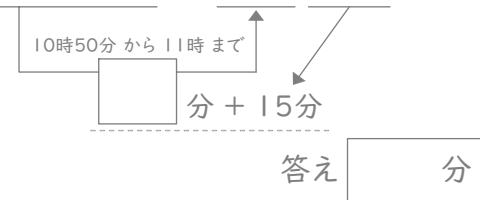
⑧ 2時50分と3時20分の間



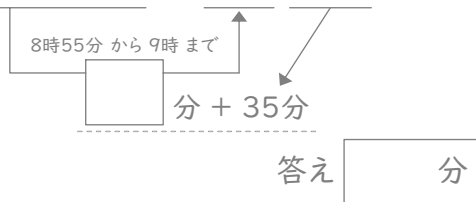
③ 4時15分と5時5分の間



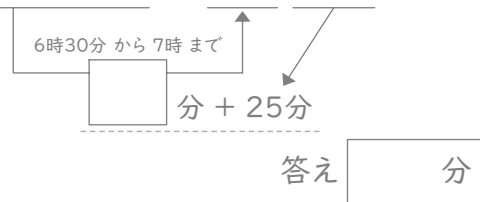
⑨ 10時50分と11時15分の間



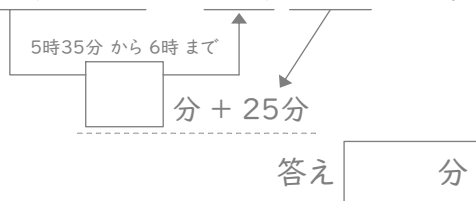
④ 8時55分と9時35分の間



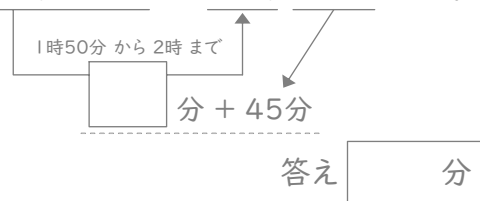
⑩ 6時30分と7時25分の間



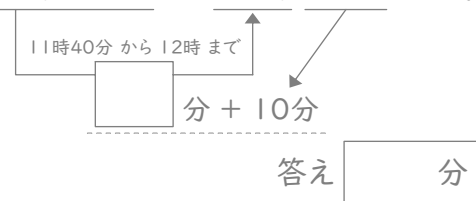
⑤ 5時35分と6時25分の間



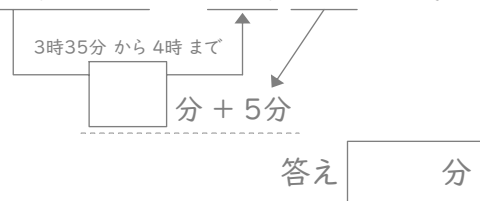
⑪ 1時50分と2時45分の間



⑥ 11時40分と12時10分の間



⑫ 3時35分と4時5分の間



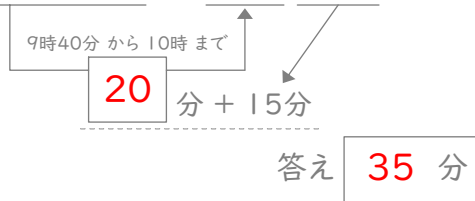
時こくと時間

年 組 名前

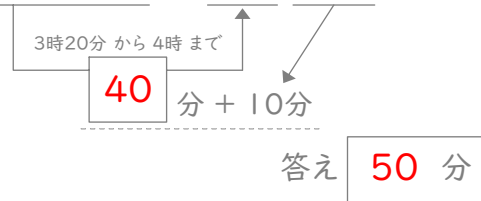
/24

■ 四角に数字をあてはめて、間の時間を考えましょう。

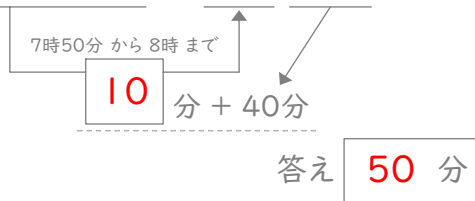
① 9時40分と10時15分の間



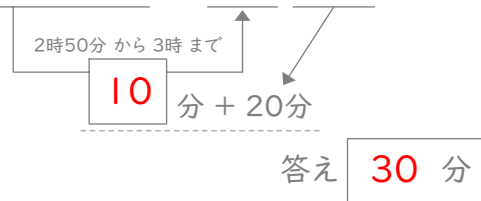
⑦ 3時20分と4時10分の間



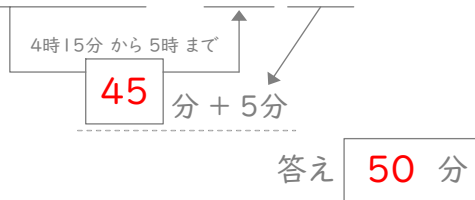
② 7時50分と8時40分の間



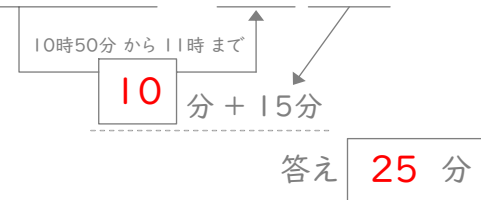
⑧ 2時50分と3時20分の間



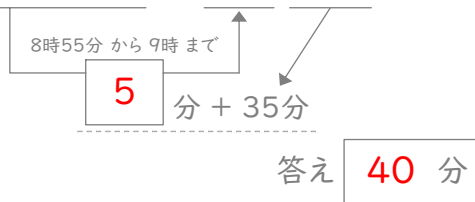
③ 4時15分と5時5分の間



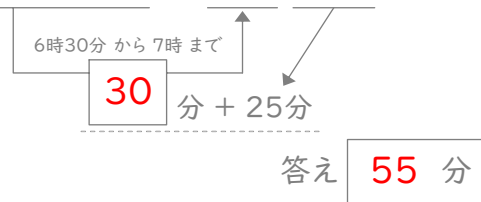
⑨ 10時50分と11時15分の間



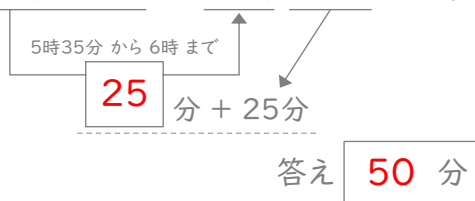
④ 8時55分と9時35分の間



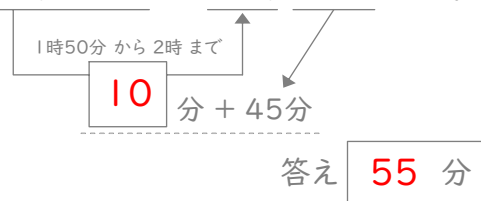
⑩ 6時30分と7時25分の間



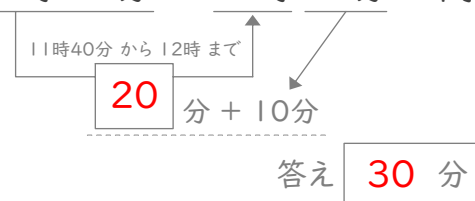
⑤ 5時35分と6時25分の間



⑪ 1時50分と2時45分の間



⑥ 11時40分と12時10分の間



⑫ 3時35分と4時5分の間

