

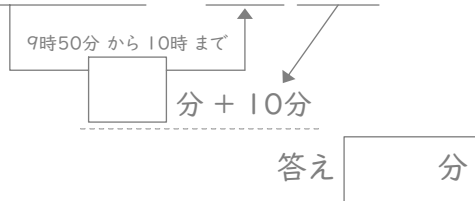
# 時こくと時間

年 組 名前

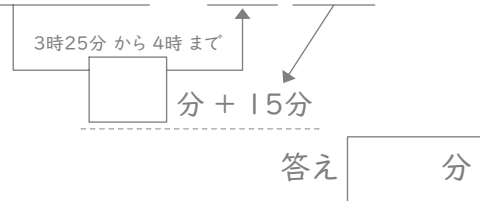
/24

■ 四角に数字をあてはめて、間の時間を考えましょう。

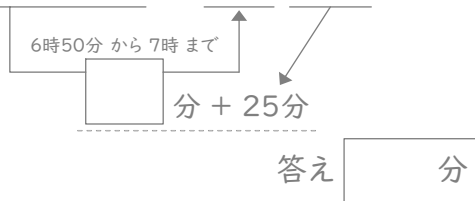
① 9時50分と10時10分の間



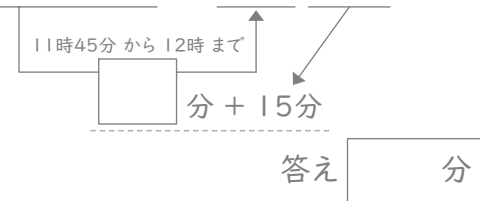
⑦ 3時25分と4時15分の間



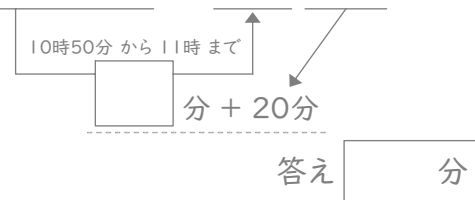
② 6時50分と7時25分の間



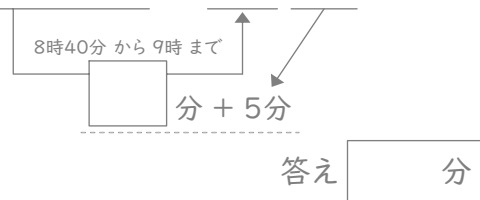
⑧ 11時45分と12時15分の間



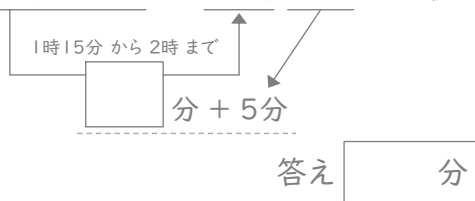
③ 10時50分と11時20分の間



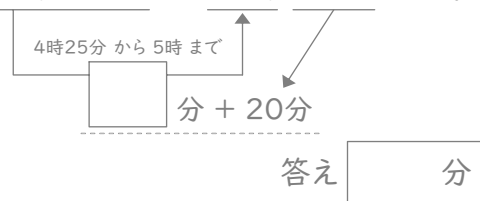
⑨ 8時40分と9時5分の間



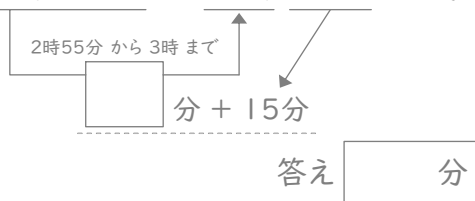
④ 1時15分と2時5分の間



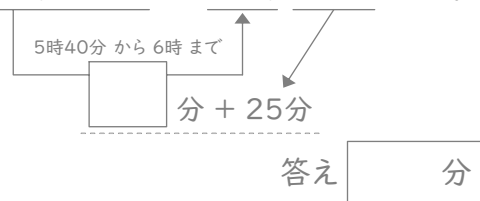
⑩ 4時25分と5時20分の間



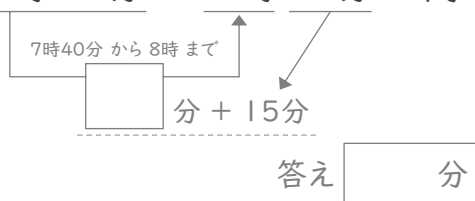
⑤ 2時55分と3時15分の間



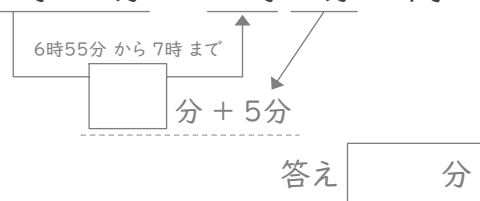
⑪ 5時40分と6時25分の間



⑥ 7時40分と8時15分の間



⑫ 6時55分と7時5分の間



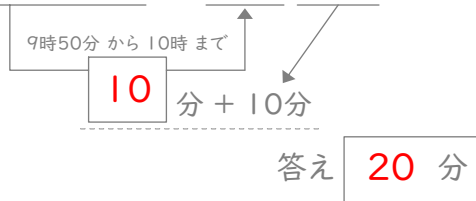
# 時こくと時間

年 組 名前

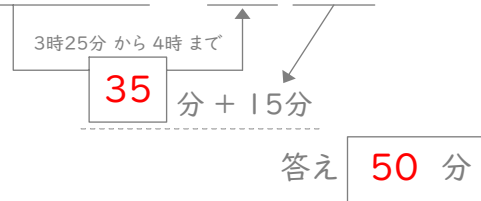
/24

■ 四角に数字をあてはめて、間の時間を考えましょう。

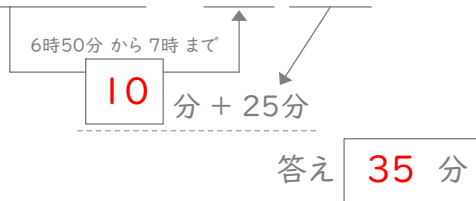
① 9時50分と10時10分の間



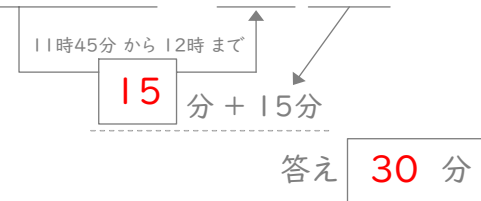
⑦ 3時25分と4時15分の間



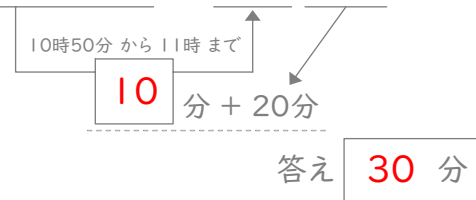
② 6時50分と7時25分の間



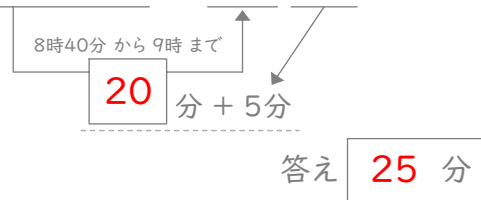
⑧ 11時45分と12時15分の間



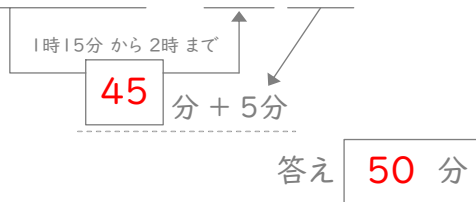
③ 10時50分と11時20分の間



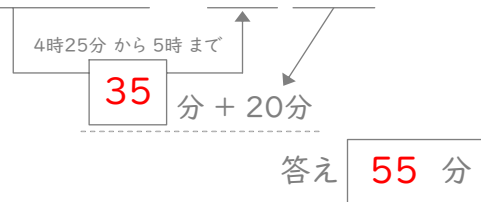
⑨ 8時40分と9時5分の間



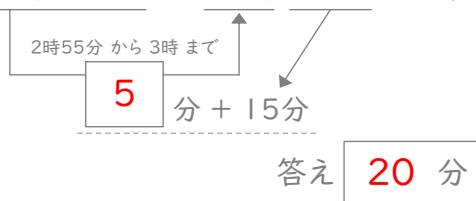
④ 1時15分と2時5分の間



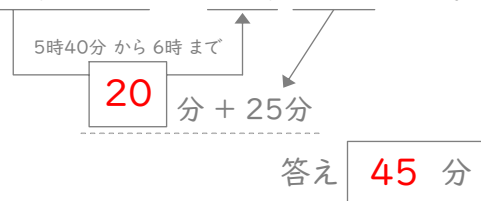
⑩ 4時25分と5時20分の間



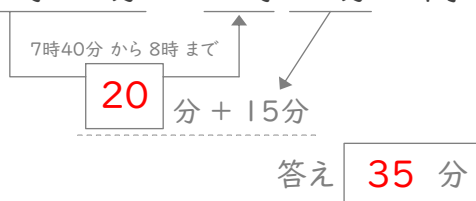
⑤ 2時55分と3時15分の間



⑪ 5時40分と6時25分の間



⑥ 7時40分と8時15分の間



⑫ 6時55分と7時5分の間

