

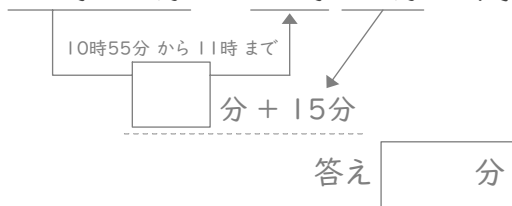
時こくと時間

年 組 名前

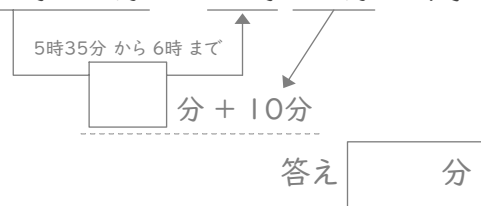
/24

■ 四角に数字をあてはめて、間の時間を考えましょう。

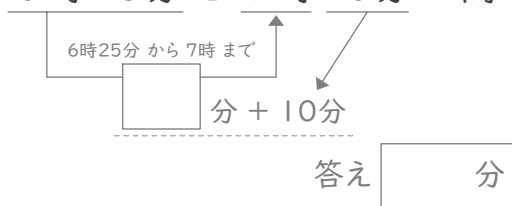
① 10時55分と11時15分の間



⑦ 5時35分と6時10分の間



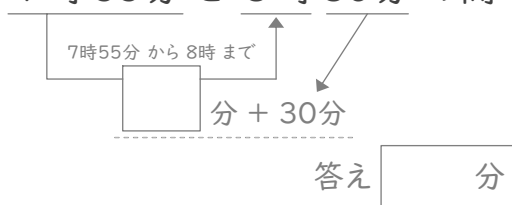
② 6時25分と7時10分の間



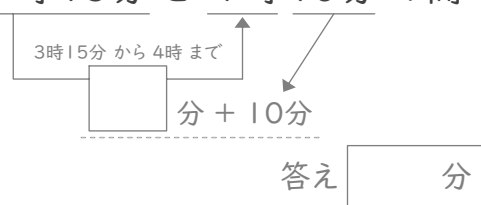
⑧ 2時50分と3時20分の間



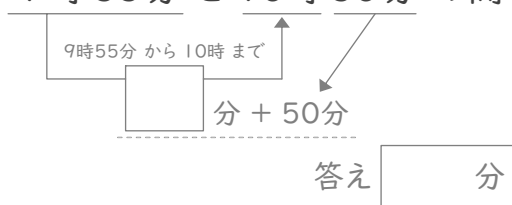
③ 7時55分と8時30分の間



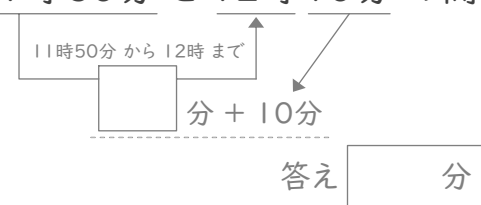
⑨ 3時15分と4時10分の間



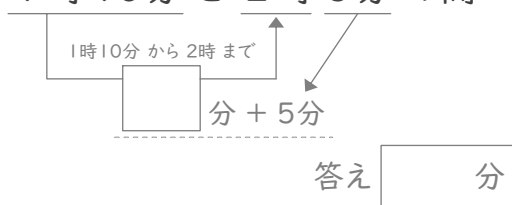
④ 9時55分と10時50分の間



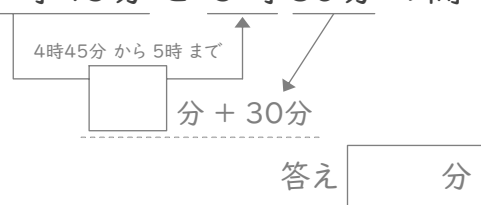
⑩ 11時50分と12時10分の間



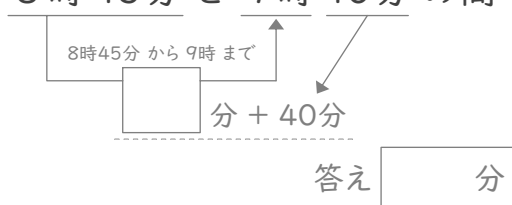
⑤ 1時10分と2時5分の間



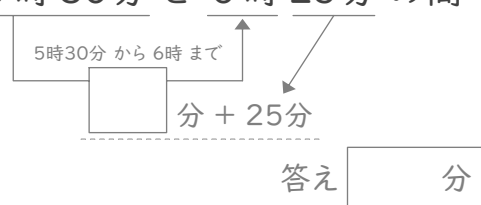
⑪ 4時45分と5時30分の間



⑥ 8時45分と9時40分の間



⑫ 5時30分と6時25分の間



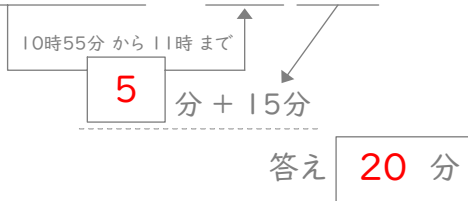
時こくと時間

年 組 名前

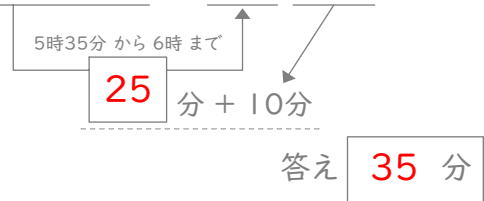
/24

■ 四角に数字をあてはめて、間の時間を考えましょう。

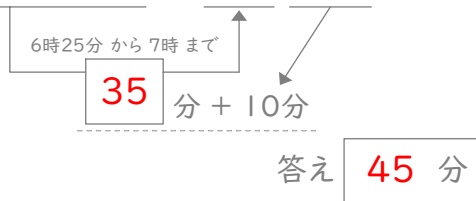
① 10時55分と11時15分の間



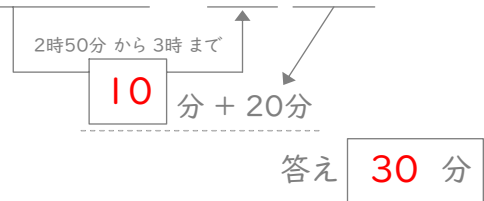
⑦ 5時35分と6時10分の間



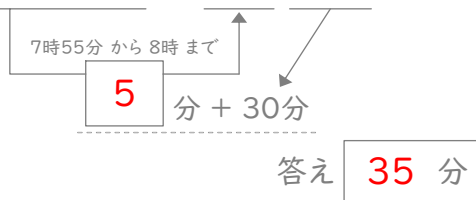
② 6時25分と7時10分の間



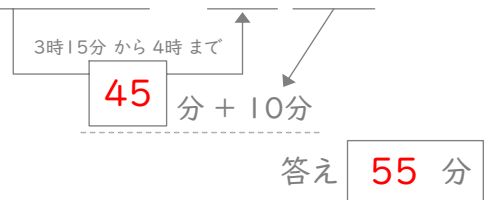
⑧ 2時50分と3時20分の間



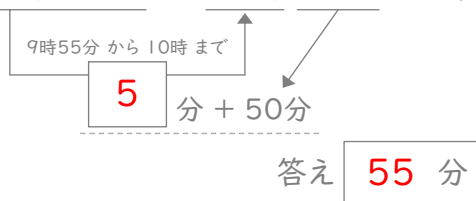
③ 7時55分と8時30分の間



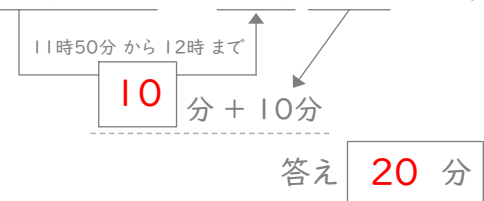
⑨ 3時15分と4時10分の間



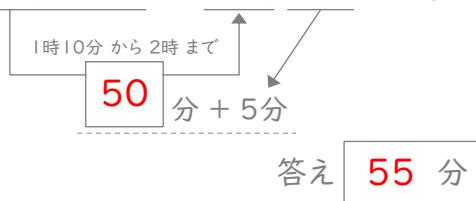
④ 9時55分と10時50分の間



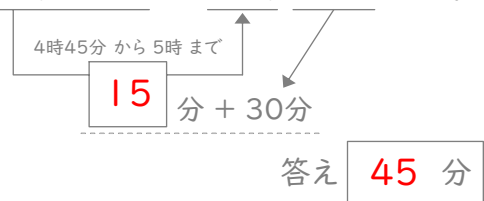
⑩ 11時50分と12時10分の間



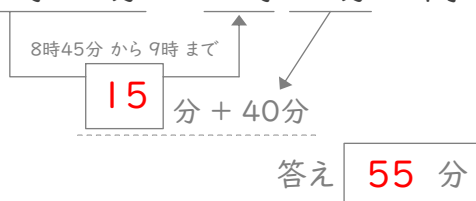
⑤ 1時10分と2時5分の間



⑪ 4時45分と5時30分の間



⑥ 8時45分と9時40分の間



⑫ 5時30分と6時25分の間

