

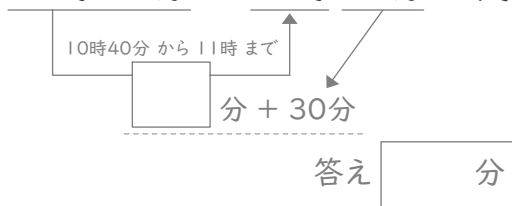
時こくと時間

年 組 名前

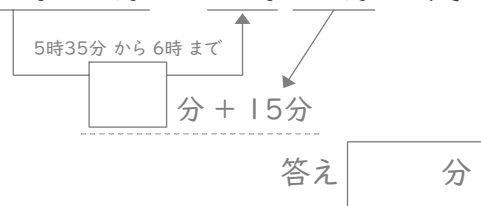
/24

■ 四角に数字をあてはめて、間の時間を考えましょう。

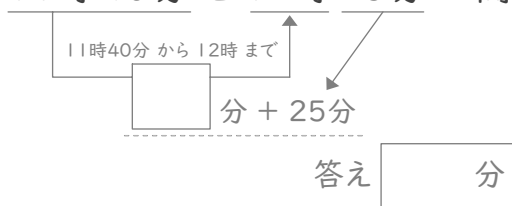
① 10時40分と11時30分の間



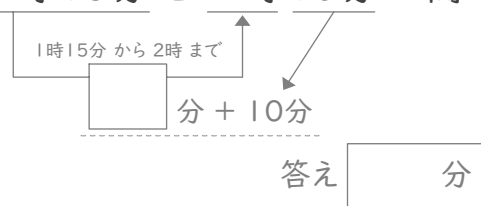
⑦ 5時35分と6時15分の間



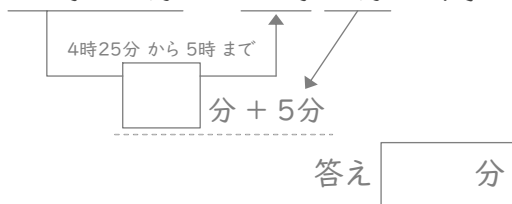
② 11時40分と12時25分の間



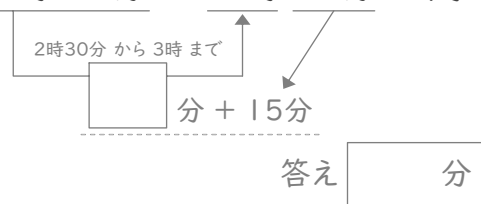
⑧ 1時15分と2時10分の間



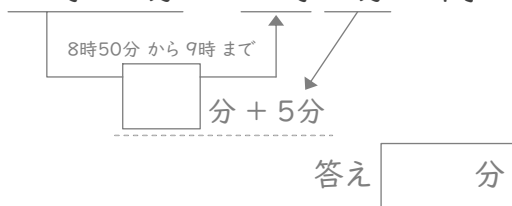
③ 4時25分と5時5分の間



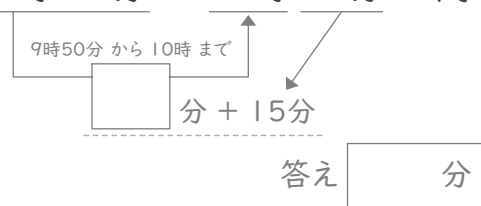
⑨ 2時30分と3時15分の間



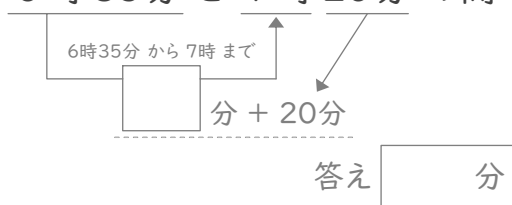
④ 8時50分と9時5分の間



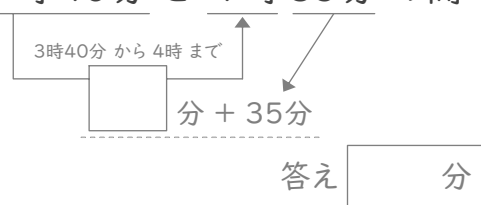
⑩ 9時50分と10時15分の間



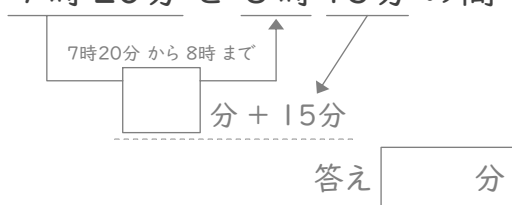
⑤ 6時35分と7時20分の間



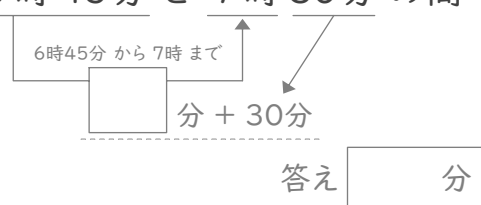
⑪ 3時40分と4時35分の間



⑥ 7時20分と8時15分の間



⑫ 6時45分と7時30分の間



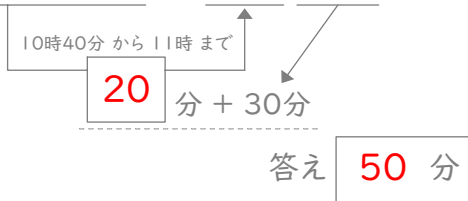
時こくと時間

年 組 名前

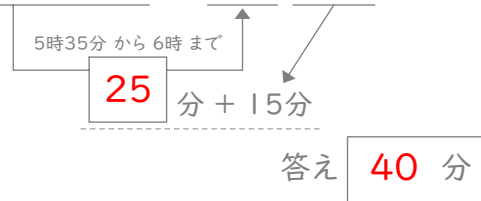
/24

■ 四角に数字をあてはめて、間の時間を考えましょう。

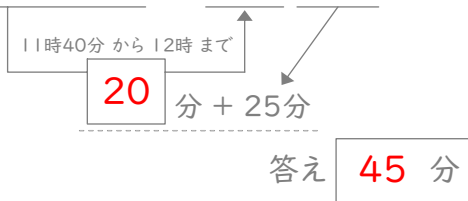
① 10時40分と11時30分の間



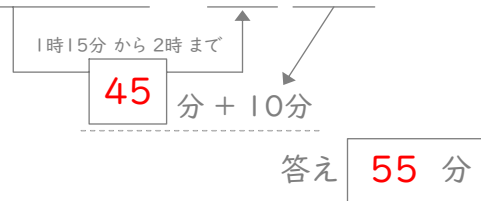
⑦ 5時35分と6時15分の間



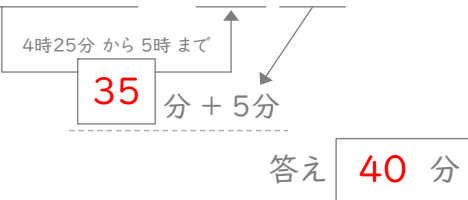
② 11時40分と12時25分の間



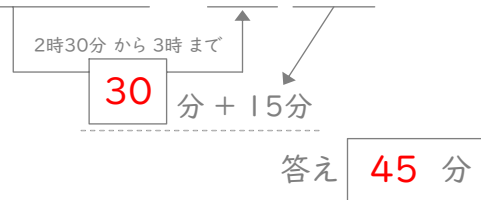
⑧ 1時15分と2時10分の間



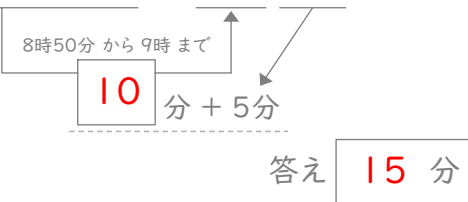
③ 4時25分と5時5分の間



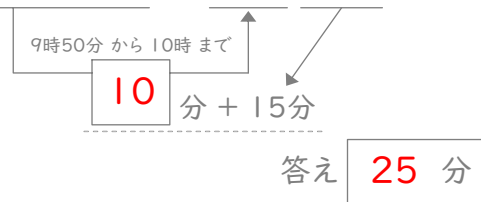
⑨ 2時30分と3時15分の間



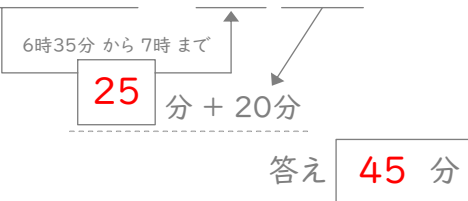
④ 8時50分と9時5分の間



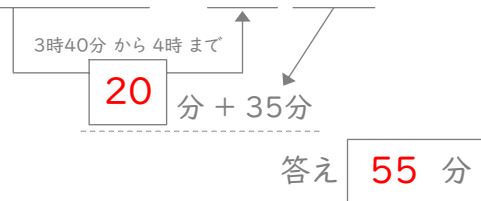
⑩ 9時50分と10時15分の間



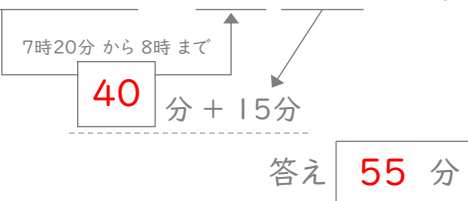
⑤ 6時35分と7時20分の間



⑪ 3時40分と4時35分の間



⑥ 7時20分と8時15分の間



⑫ 6時45分と7時30分の間

