

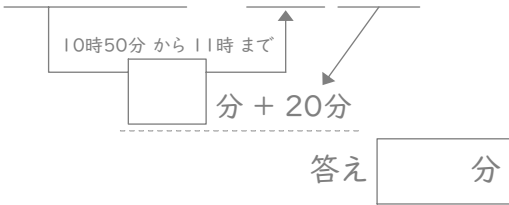
時こくと時間

年 組 名前

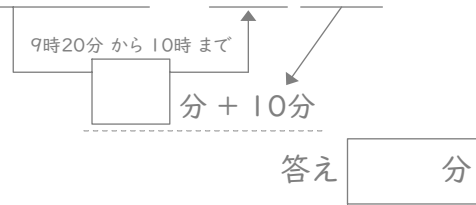
/24

■ 四角に数字をあてはめて、間の時間を考えましょう。

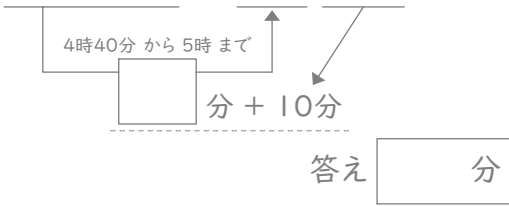
① 10時50分と11時20分の間



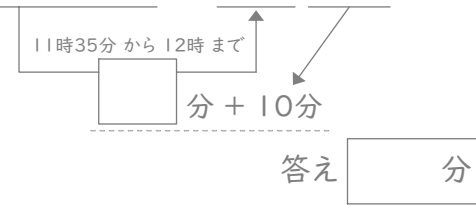
⑦ 9時20分と10時10分の間



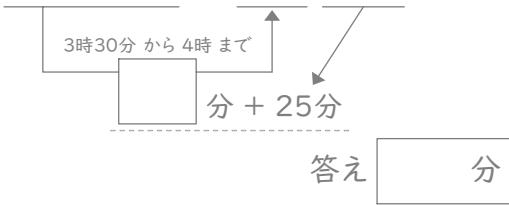
② 4時40分と5時10分の間



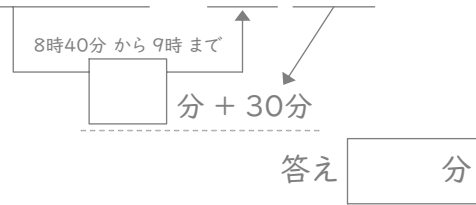
⑧ 11時35分と12時10分の間



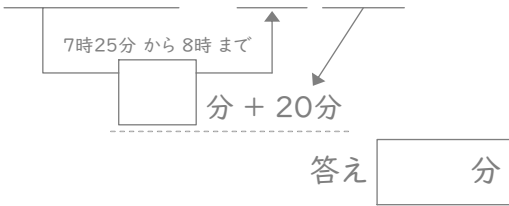
③ 3時30分と4時25分の間



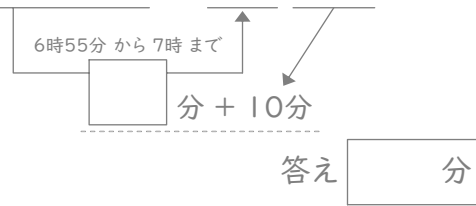
⑨ 8時40分と9時30分の間



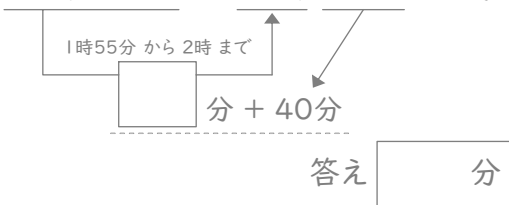
④ 7時25分と8時20分の間



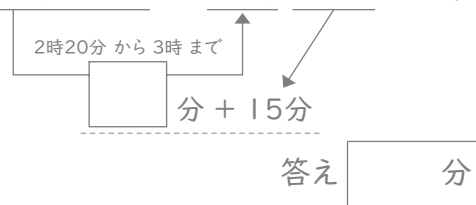
⑩ 6時55分と7時10分の間



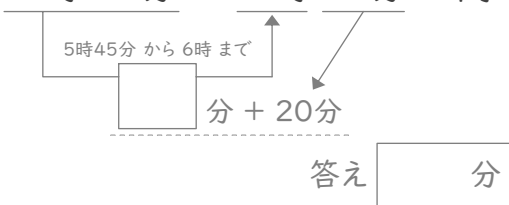
⑤ 1時55分と2時40分の間



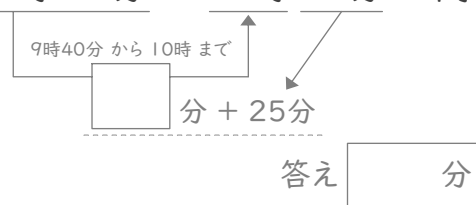
⑪ 2時20分と3時15分の間



⑥ 5時45分と6時20分の間



⑫ 9時40分と10時25分の間



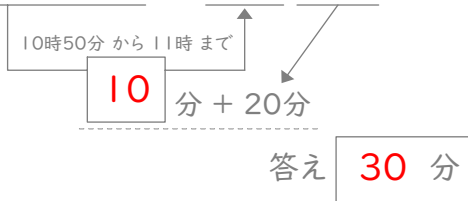
時こくと時間

年 組 名前

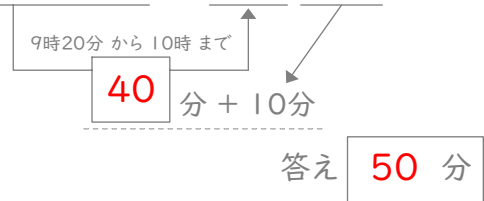
/24

■ 四角に数字をあてはめて、間の時間を考えましょう。

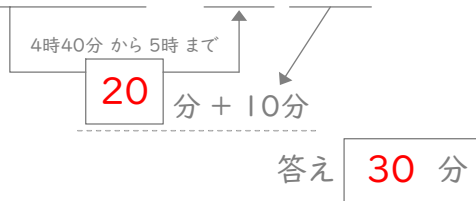
① 10時50分と11時20分の間



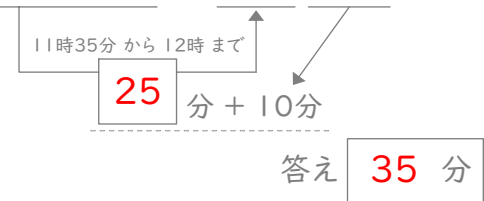
⑦ 9時20分と10時10分の間



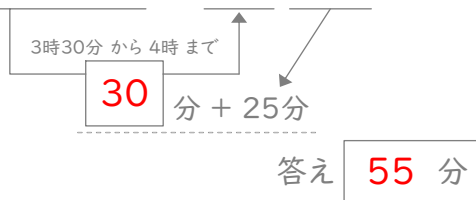
② 4時40分と5時10分の間



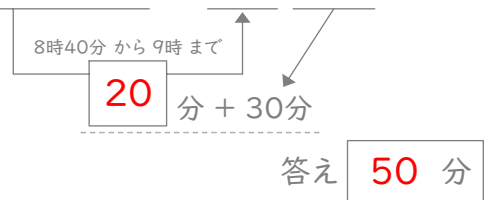
⑧ 11時35分と12時10分の間



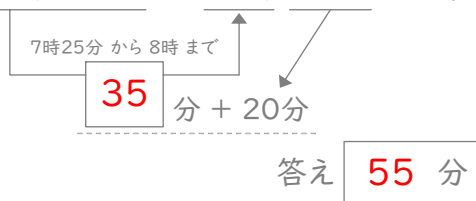
③ 3時30分と4時25分の間



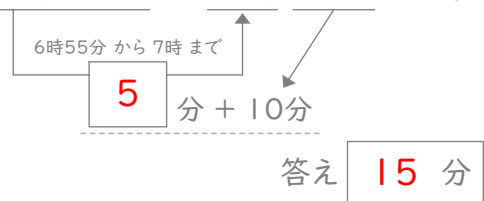
⑨ 8時40分と9時30分の間



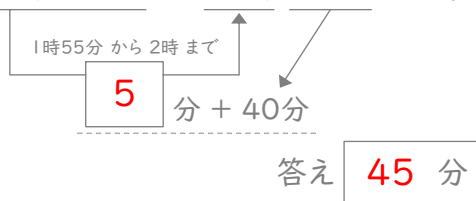
④ 7時25分と8時20分の間



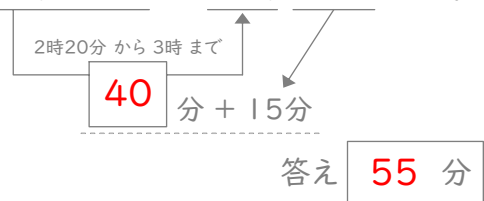
⑩ 6時55分と7時10分の間



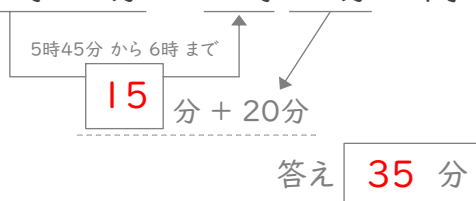
⑤ 1時55分と2時40分の間



⑪ 2時20分と3時15分の間



⑥ 5時45分と6時20分の間



⑫ 9時40分と10時25分の間

