

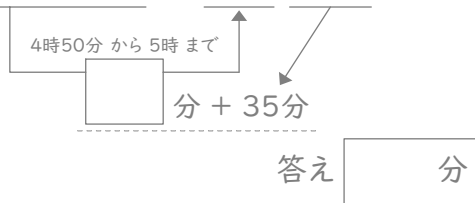
# 時こくと時間

年 組 名前

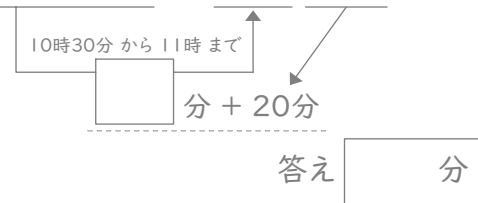
/24

■ 四角に数字をあてはめて、間の時間を考えましょう。

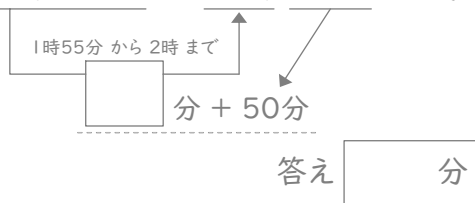
① 4時50分と5時35分の間



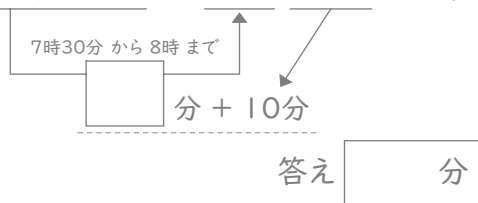
⑦ 10時30分と11時20分の間



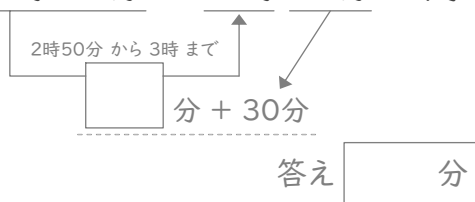
② 1時55分と2時50分の間



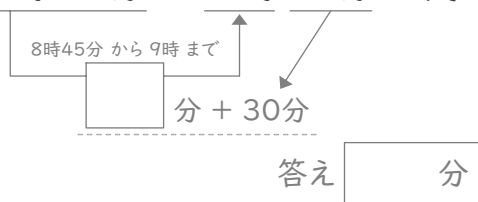
⑧ 7時30分と8時10分の間



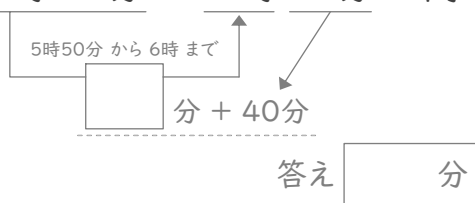
③ 2時50分と3時30分の間



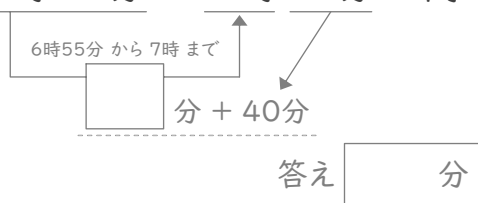
⑨ 8時45分と9時30分の間



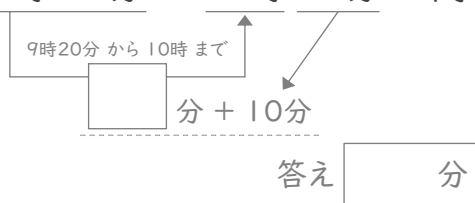
④ 5時50分と6時40分の間



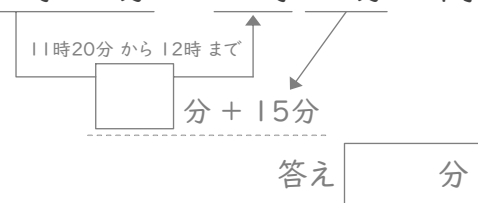
⑩ 6時55分と7時40分の間



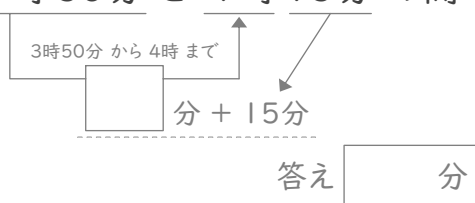
⑤ 9時20分と10時10分の間



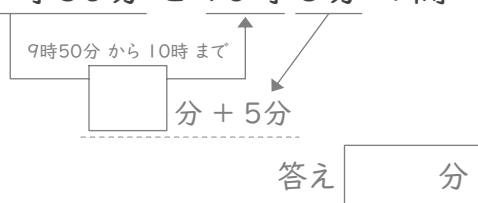
⑪ 11時20分と12時15分の間



⑥ 3時50分と4時15分の間



⑫ 9時50分と10時5分の間



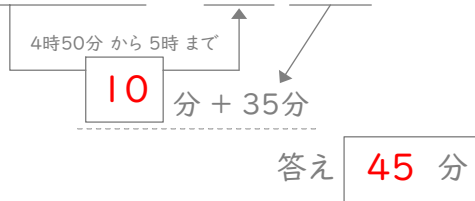
# 時こくと時間

年 組 名前

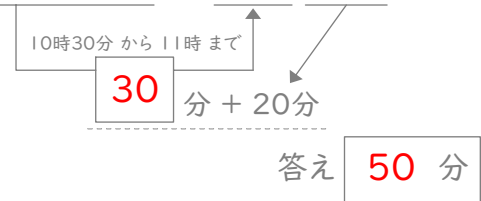
/24

■ 四角に数字をあてはめて、間の時間を考えましょう。

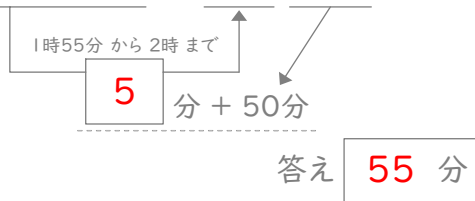
① 4時50分と5時35分の間



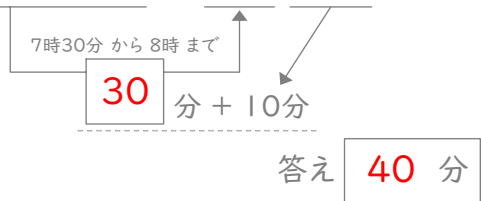
⑦ 10時30分と11時20分の間



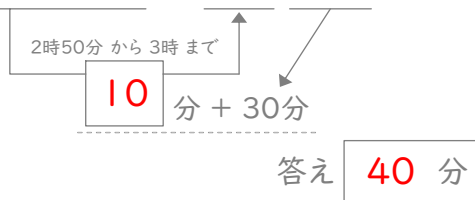
② 1時55分と2時50分の間



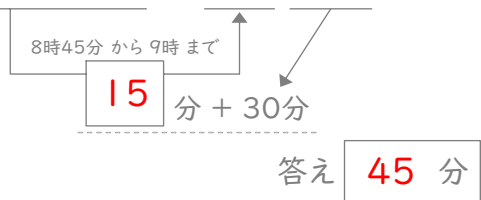
⑧ 7時30分と8時10分の間



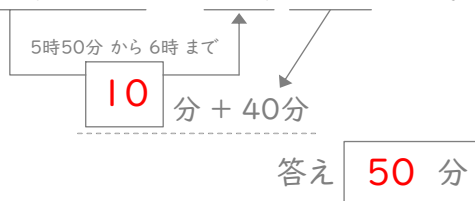
③ 2時50分と3時30分の間



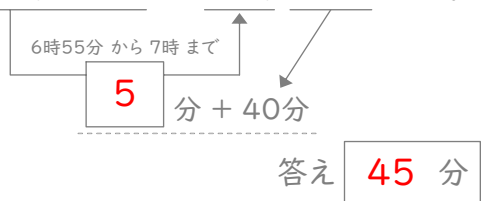
⑨ 8時45分と9時30分の間



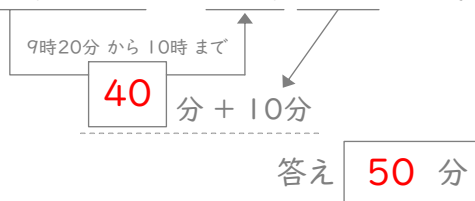
④ 5時50分と6時40分の間



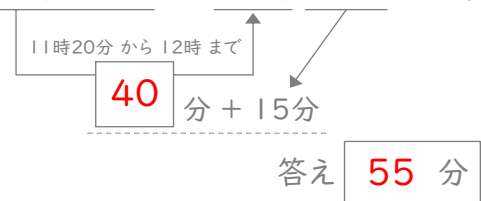
⑩ 6時55分と7時40分の間



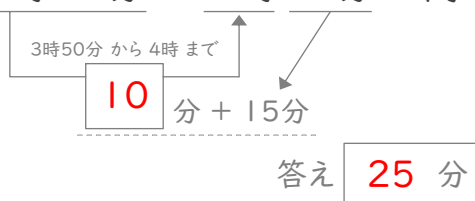
⑤ 9時20分と10時10分の間



⑪ 11時20分と12時15分の間



⑥ 3時50分と4時15分の間



⑫ 9時50分と10時5分の間

