

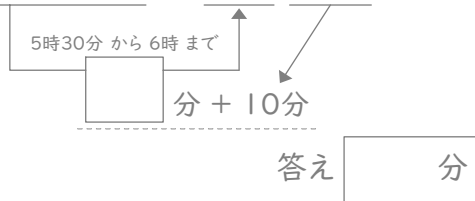
時こくと時間

年 組 名前

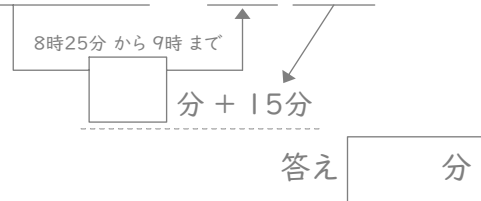
/24

■ 四角に数字をあてはめて、間の時間を考えましょう。

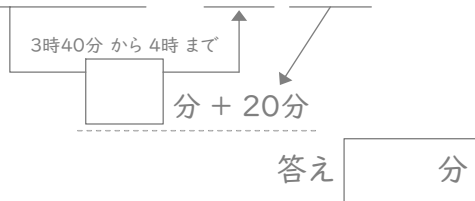
① 5時30分と6時10分の間



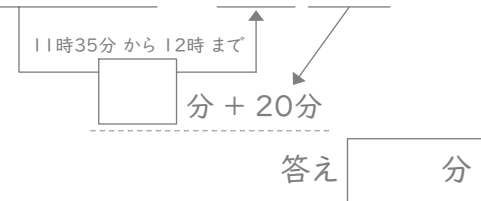
⑦ 8時25分と9時15分の間



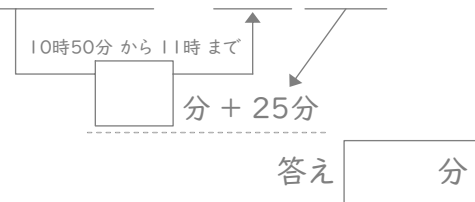
② 3時40分と4時20分の間



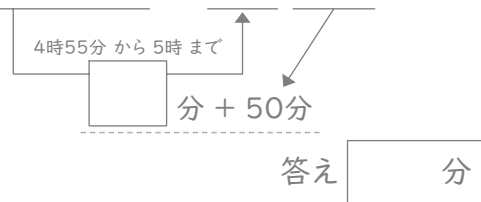
⑧ 11時35分と12時20分の間



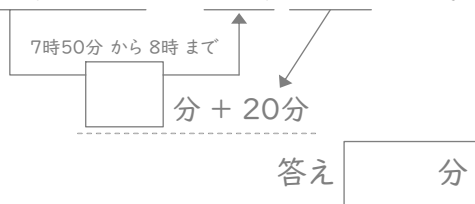
③ 10時50分と11時25分の間



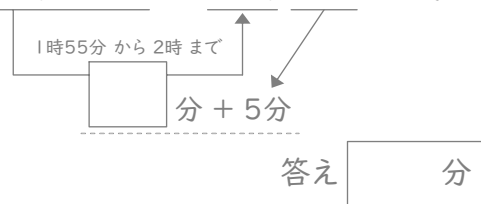
⑨ 4時55分と5時50分の間



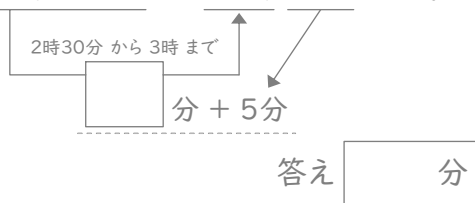
④ 7時50分と8時20分の間



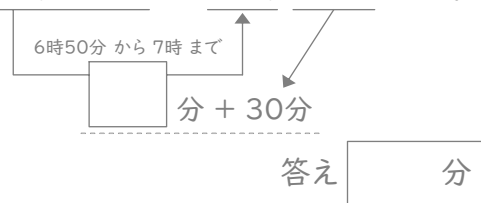
⑩ 1時55分と2時5分の間



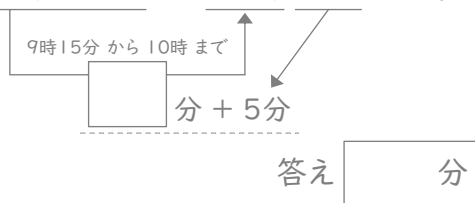
⑤ 2時30分と3時5分の間



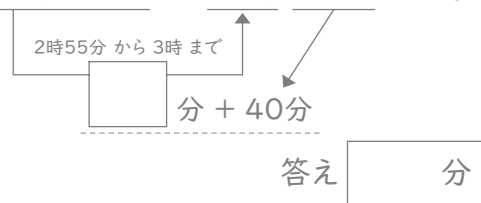
⑪ 6時50分と7時30分の間



⑥ 9時15分と10時5分の間



⑫ 2時55分と3時40分の間



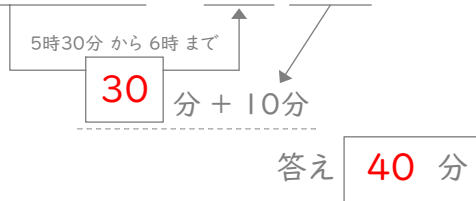
時こくと時間

年 組 名前

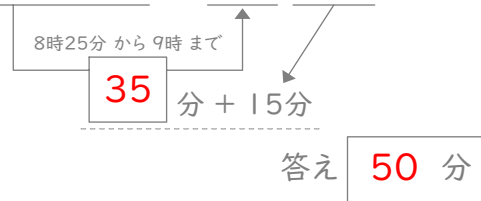
/24

■ 四角に数字をあてはめて、間の時間を考えましょう。

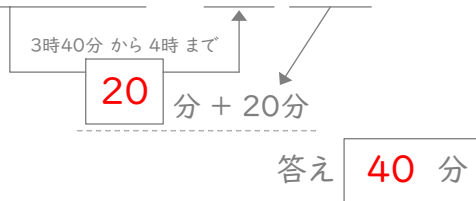
① 5時30分と6時10分の間



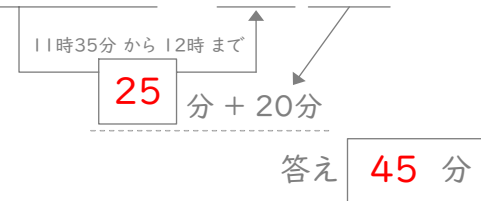
⑦ 8時25分と9時15分の間



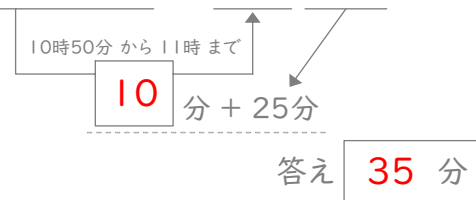
② 3時40分と4時20分の間



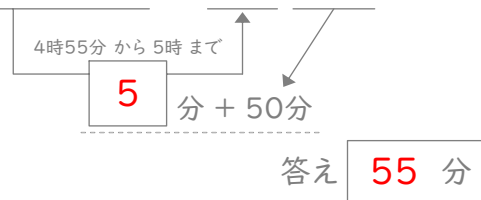
⑧ 11時35分と12時20分の間



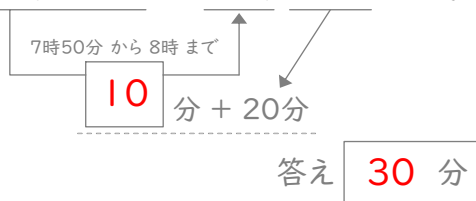
③ 10時50分と11時25分の間



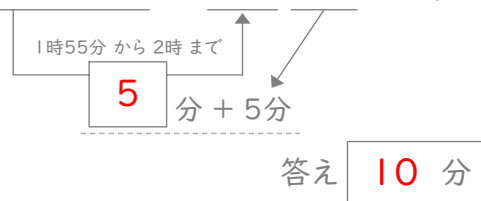
⑨ 4時55分と5時50分の間



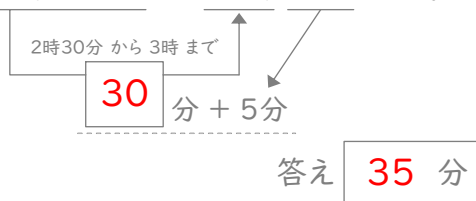
④ 7時50分と8時20分の間



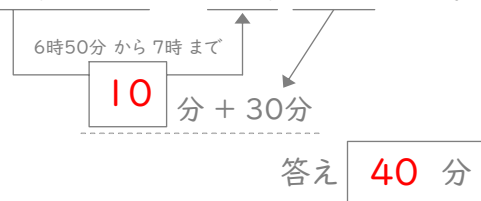
⑩ 1時55分と2時5分の間



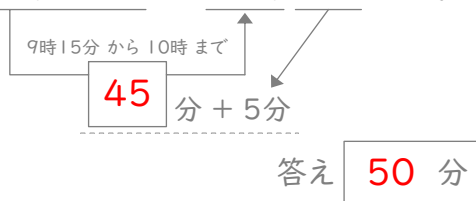
⑤ 2時30分と3時5分の間



⑪ 6時50分と7時30分の間



⑥ 9時15分と10時5分の間



⑫ 2時55分と3時40分の間

