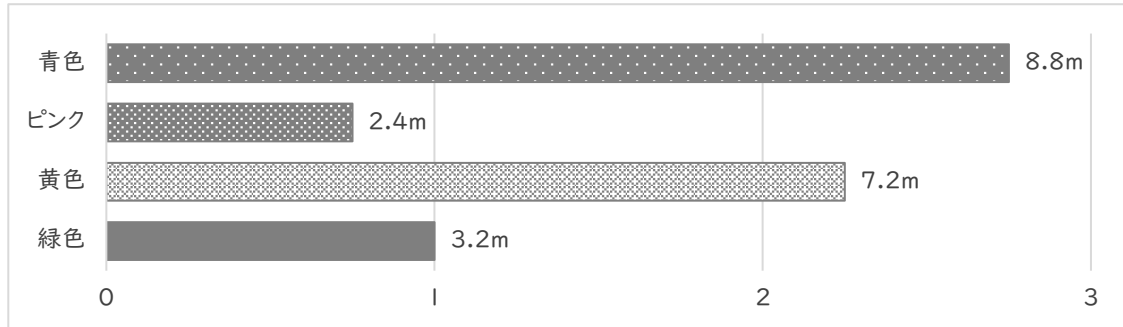


割合を表す小数

年 組 名前

/ 5

■ 下の図のような、青色，ピンク，黄色，緑色の4本のリボンがあります。



① 青色のリボンの長さは緑色のリボンの長さの何倍ですか。

倍

② ピンクのリボンの長さは緑色のリボンの長さの何倍ですか。

倍

③ 黄色のリボンの長さは緑色のリボンの長さの何倍ですか。

倍

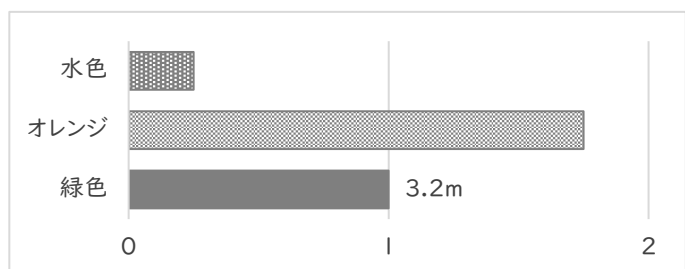
④ 水色のリボンの長さは、緑色のリボンの長さの 0.25倍、オレンジのリボンの長さは、緑色のリボンの長さの 1.75倍です。それぞれの長さを答えましょう。

水色のリボン

m

オレンジのリボン

m

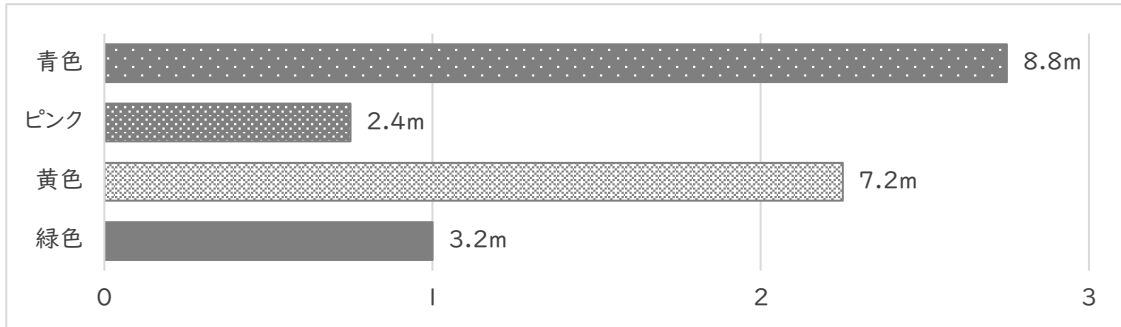


割合を表す小数

年 組 名前

/ 5

■ 下の図のような、青色，ピンク，黄色，緑色の4本のリボンがあります。



① 青色のリボンの長さは 緑色のリボンの長さの何倍ですか。

$$8.8 \div 3.2 = 2.75$$

2.75 倍

② ピンクのリボンの長さは 緑色のリボンの長さの何倍ですか。

$$2.4 \div 3.2 = 0.75$$

0.75 倍

③ 黄色のリボンの長さは 緑色のリボンの長さの何倍ですか。

$$7.2 \div 3.2 = 2.25$$

2.25 倍

④ 水色のリボンの長さは、緑色のリボンの長さの 0.25倍、オレンジのリボンの長さは、緑色のリボンの長さの 1.75倍です。それぞれの長さを答えましょう。

水色のリボン

$$3.2 \times 0.25 = 0.8$$

オレンジのリボン

$$3.2 \times 1.75 = 5.6$$

水色のリボン 0.8 m

オレンジのリボン 5.6 m

