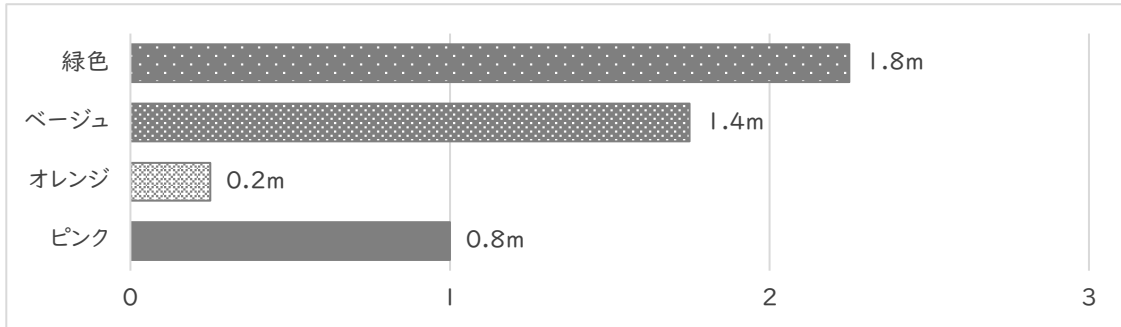


# 割合を表す小数

年 組 名前

/ 5

■ 下の図のような、緑色，ベージュ，オレンジ，ピンクの4本のリボンがあります。



① 緑色のリボン の長さは ピンクのリボン の長さの何倍ですか。

倍

② ベージュのリボン の長さは ピンクのリボン の長さの何倍ですか。

倍

③ オレンジのリボン の長さは ピンクのリボン の長さの何倍ですか。

倍

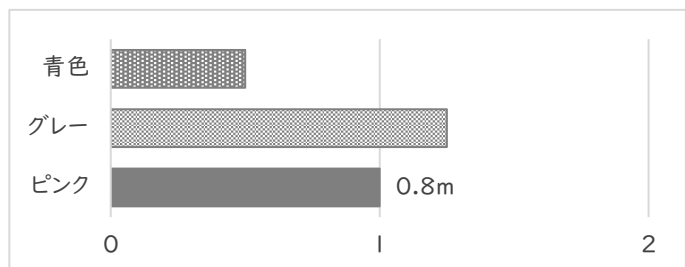
④ 青色のリボン の長さは、ピンクのリボン の長さの 0.5倍、グレーのリボン の長さは、ピンクのリボン の長さの 1.25倍です。それぞれの長さを答えましょう。

青色のリボン

m

グレーのリボン

m

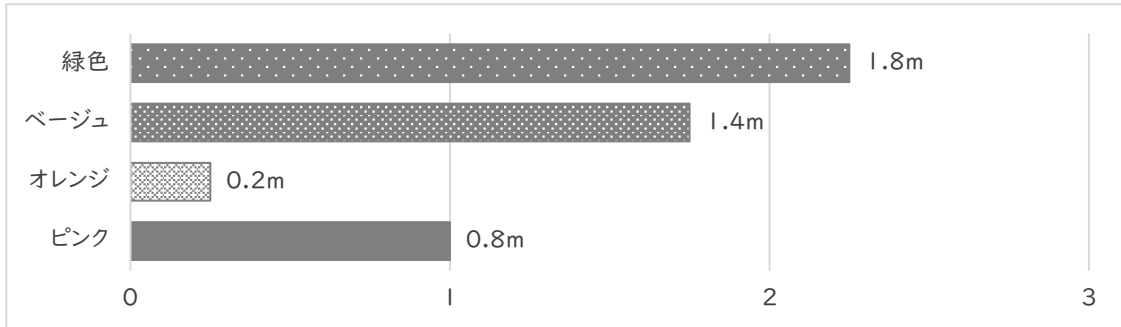


# 割合を表す小数

年 組 名前

/ 5

■ 下の図のような、緑色，ベージュ，オレンジ，ピンクの4本のリボンがあります。



① 緑色のリボン の長さは ピンクのリボン の長さの何倍ですか。

$$1.8 \div 0.8 = 2.25$$

2.25 倍

② ベージュのリボン の長さは ピンクのリボン の長さの何倍ですか。

$$1.4 \div 0.8 = 1.75$$

1.75 倍

③ オレンジのリボン の長さは ピンクのリボン の長さの何倍ですか。

$$0.2 \div 0.8 = 0.25$$

0.25 倍

④ 青色のリボン の長さは、ピンクのリボン の長さの 0.5倍、グレーのリボン の長さは、ピンクのリボン の長さの 1.25倍です。それぞれの長さを答えましょう。

青色のリボン

$$0.8 \times 0.5 = 0.4$$

グレーのリボン

$$0.8 \times 1.25 = 1$$

青色のリボン 0.4 m

グレーのリボン 1 m

