


コンパスを使って

年 組 名前

/ 3

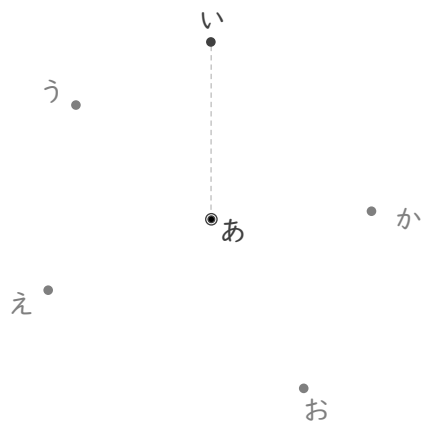
■ コンパスを使って、あ の点 からみて、い の点 と同じきよりにある点を すべてさがしましょう。

①



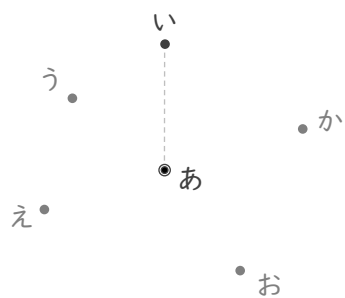
答え

②



答え

③



答え

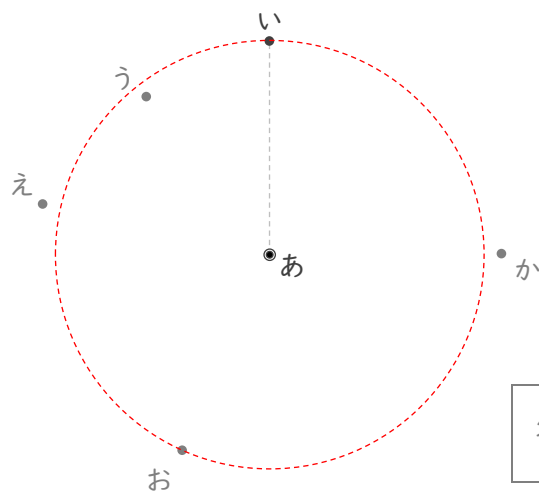
コンパスを使って

年 組 名前

/ 3

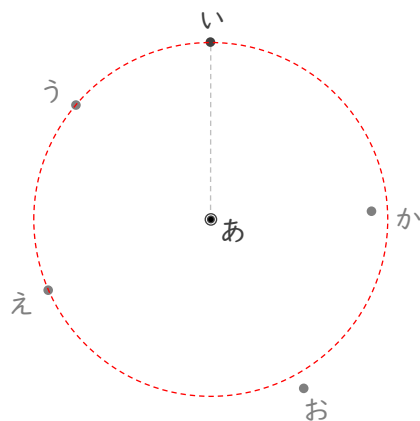
■ コンパスを使って、あ の点 からみて、い の点 と同じきよりにある点を すべてさがしましょう。

①



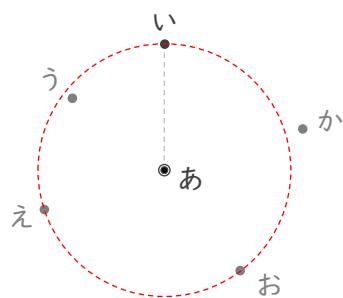
答え お

②



答え う, え

③



答え え, お