


かけ算をつかって

年 組 名前

/ 6


■ かけ算をつかって、丸(○)の数をかぞえましょう。

①




(式)

④




(式)

②




(式)

⑤




(式)

③



(式)

⑥



(式)


かけ算をつかって

年 組 名前

/ 6

■ かけ算をつかって、丸(○)の数をかぞえましょう。


①



(式) $3 \times 4 = 12$

12 こ

④



(式) $5 \times 8 = 40$

40 こ


②



(式) $4 \times 5 = 20$

20 こ


⑤



(式) $7 \times 7 = 49$

49 こ


③



(式) $6 \times 6 = 36$

36 こ

⑥



(式) $9 \times 9 = 81$

81 こ