


かけ算をつかって

年 組 名前

/ 6


■ かけ算をつかって、丸(○)の数をかぞえましょう。

①




(式)

④




(式)

②




(式)

⑤




(式)

③



(式)

⑥



(式)


かけ算をつかって

年 組 名前

/ 6

■ かけ算をつかって、丸(○)の数をかぞえましょう。

①




(式)

$$4 \times 4 = 16$$

16 こ

④



(式)

$$7 \times 6 = 42$$

42 こ

②




(式)

$$6 \times 3 = 18$$

18 こ

⑤



(式)

$$8 \times 7 = 56$$

56 こ

③




(式)

$$3 \times 8 = 24$$

24 こ

⑥



(式)

$$9 \times 9 = 81$$

81 こ