

かけ算をつかって

年 組 名前

/ 6


■ かけ算をつかって、丸(○)の数をかぞえましょう。

①



(式)

④




(式)

②




(式)

⑤




(式)

③



(式)

⑥



(式)


かけ算をつかって

年 組 名前

/ 6

■ かけ算をつかって、丸(○)の数をかぞえましょう。

①




(式)

$$3 \times 5 = 15$$

15 こ

④



(式)

$$6 \times 8 = 48$$

48 こ

②




(式)

$$8 \times 2 = 16$$

16 こ

⑤




(式)

$$9 \times 7 = 63$$

63 こ

③




(式)

$$5 \times 6 = 30$$

30 こ

⑥



(式)

$$7 \times 9 = 63$$

63 こ