

かけ算をつかって

年 組 名前

/ 6

■ かけ算をつかって、丸(○)の数をかぞえましょう。


①



(式)

こ

④



(式)

こ


②



(式)

こ


⑤



(式)

こ


③



(式)

こ

⑥



(式)

こ

かけ算をつかって

年 組 名前

/ 6

■ かけ算をつかって、丸(○)の数をかぞえましょう。

①




(式)

$$2 \times 2 = 4$$

4 こ

④



(式)

$$5 \times 7 = 35$$

35 こ

②




(式)

$$3 \times 5 = 15$$

15 こ

⑤




(式)

$$9 \times 6 = 54$$

54 こ

③




(式)

$$8 \times 4 = 32$$

32 こ

⑥



(式)

$$7 \times 8 = 56$$

56 こ