

つみきを使って

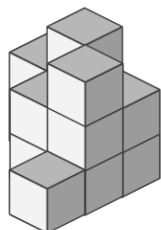
____年 ____組 ____名前

____ / 2

■ 外から色をぬったときに、2面 だけに色がぬられている つみきは何個でしょう。

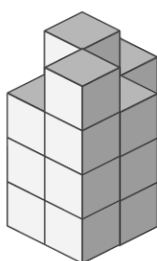
ただし、色は 下からはぬらないものとします。

①



____ 個

②



____ 個

つみきを使って

年 組 名前

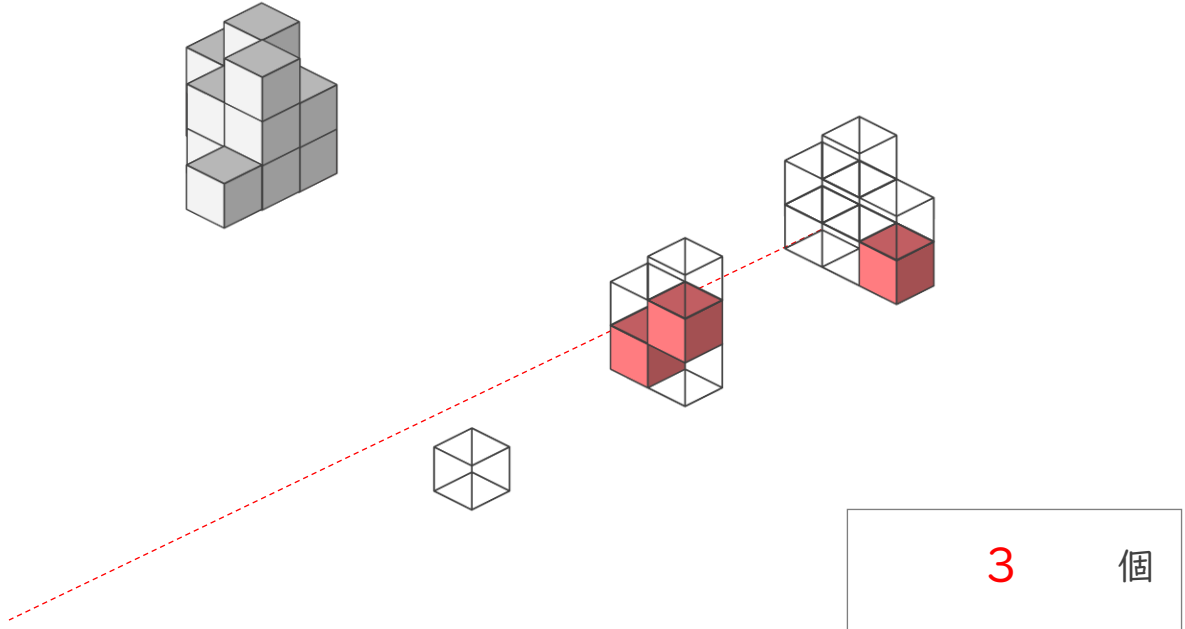
/ 2

■ 外から色をぬったときに、2面 だけに色がぬられている つみきは何個でしょう。

ただし、色は 下からはぬらないものとします。

①

赤色で示した つみき が 2面 だけに色がぬられたつみき



②

赤色で示した つみき が 2面 だけに色がぬられたつみき

